

L  
Pembelajaran Modul e-Learning



## e-Learning MEKANIKA TEKNIK 01

Oleh:  
**Faqih Ma'arif, M.Eng.**  
**faqih\_maarif07@uny.ac.id**  
**+6285643395446**

Penelitian ini dibiayai oleh DIPA BLU Universitas Negeri Yogyakarta Tahun 2012 Sesuai dengan Surat Perjanjian Pelaksanaan Penelitian Dosen Fakultas Teknik Universitas Negeri Yogyakarta Tahun 2012  
Nomor Kontrak: 1407.15/H34.15/PL/2012 Tanggal 02 Mei 2012

**JURUSAN PENDIDIKAN TEKNIK SIPIL DAN PERENCANAAN**  
**FAKULTAS TEKNIK**  
**UNIVERSITAS NEGERI YOGYAKARTA**  
**TAHUN 2012**

## KATA PENGANTAR

Puji syukur kami panjatkan ke Hadirat Allah S.W.T. karena berkat Rahmat dan Hidayah-Nya penulis dapat menyelesaikan penulisan Modul e Learning Mekanika Teknik ini. Dalam penyusunannya, Penulis mendapatkan bantuan dari berbagai pihak. Oleh karena itu, Penulis mengucapkan terimakasih kepada:

1. Fakultas Teknik Universitas Negeri Yogyakarta yang telah memberi bantuan dalam pelaksanaan penulisan ini.
2. Jurusan Pendidikan Teknik Sipil dan Perencanaan FT UNY terutama Bapak dan Ibu Dosen, serta mahasiswa yang terlibat dalam penulisan ini.
3. Berbagai pihak yang belum tersebut di sini

Dengan menyadari bahwa “Tiada gading yang tak retak”, maka Penulis mengharapkan saran dan kritikan yang membangun guna penyempurnaan Modul ini.

Akhirnya penulis berharap semoga Modul e-learning ini memberikan manfaat bagi kita semua. Amin

Yogyakarta, Desember 2012

Penulis

## DAFTAR ISI

HALAMAN JUDUL.....	i
HALAMAN PENGESAHAN.....	ii
KATA PENGANTAR .....	iii
DAFTAR ISI.....	iv
DAFTAR GAMBAR .....	v
PENGANTAR PEMBELAJARAN e-LEARNING .....	1
BAB I Konsep dasar .....	8
BAB II Penguraian Gaya .....	15
BAB III Konsep dasar tumpuan, SFD, BMD, NFD .....	22
BAB IV Konstruksi balok sederhana.....	29
BAB V K.B.S. dengan beban merata dan kombinasi .....	39
BAB VI Konstruksi balok sederhana dengan beban segitiga .....	44
BAB VII UJIAN TENGAH SEMESTER	
BAB VIII Konstruksi balok beroverstek .....	52
BAB IX Konstruksi balok beroverstek dengan variasi beban .....	60
BAB X Konstruksi balok beban tidak langsung dan miring.....	67
BAB XI Garis pengaruh.....	74
BAB XII Garis pengaruh momen dan gaya lintang pada beban terbagi merata	91
BAB XIII Beban berjalan.....	97
BAB XIV Beban terbagi rata berjalan .....	105

## DAFTAR GAMBAR

Gambar 1. Tampilan awal e-learning.....	1
Gambar 2. Menu Log In.....	2
Gambar 3. Menu Utama Be Smart.....	2
Gambar 4. Menu Pembagian Jurusan.....	3
Gambar 5. Menu Pemilihan Mata Kuliah di Jurusan Pendidikan Teknik Sipil dan Perencanaan.....	4
Gambar 6. Tampilan Menu Mata Kuliah Mekanika Teknik I.....	5
Gambar 7. Bagan cabang Ilmu Mekanika Teknik I.....	8
Gambar 8. Contoh daya dalam pada struktur Jembatan dan turap.....	8
Gambar 9. Gaya yang mempunyai sudut kemiringan $\alpha$ .....	9
Gambar 10. Analogi gaya pada manusia.....	9
Gambar 11. Garis kerja gaya adalah garis lurus yang melewati gaya.....	9
Gambar 12. Analogi garis kerja gaya.....	9
Gambar 13. Analogi gaya dan titik tangkap gaya.....	10
Gambar 14. Perpindahan gaya dan titik tangkap gaya.....	10
Gambar 15. Penjumlahan vektor searah dan segaris menjadi resultan gaya R.....	11
Gambar 16. Resultan dua vektor gaya yang tidak segaris.....	11
Gambar 17. Resultan dari beberapa vektor gaya yang tidak searah.....	12
Gambar 18. Proyeksi Sumbu.....	12
Gambar 19. Contoh soal pertama.....	13
Gambar 20. Contoh soal kedua.....	14
Gambar 21. Pembagian gaya dengan jajaran genjang dan segitiga.....	15
Gambar 22. Membagai gaya dengan cara grafis.....	16
Gambar 23. Penyelesaian dengan cara grafis.....	17
Gambar 24. Pembagian gaya menjadi tiga buah gaya yang tidak konkruen.....	18
Gambar 25. Metode grafis untuk mencari besarnya gaya pengganti.....	20
Gambar 26. Lukisan gaya pengganti dengan cara grafis.....	20
Gambar 27. Gelagar balok dengan beban terpusat lebih dari satu.....	21
Gambar 28. Pemodelan tumpuan sendi.....	22
Gambar 29. Aplikasi tumpuan sendi pada struktur jembatan.....	22
Gambar 30. Pemodelan tumpuan rol.....	23

Oleh:

Faqih Ma'arif, M.Eng.

Gambar 31. Aplikasi tumpuan rol pada struktur atas jembatan .....	23
Gambar 32. Pemodelan tumpuan jepit .....	24
Gambar 33. Aplikasi jepit sempurna pada bangunan gedung berlantai banyak ...	24
Gambar 34. Konstruksi dengan tumpuan sederhana (sendi rol) .....	25
Gambar 35. Penggambaran normal forces diagram (NFD) cara grafis .....	25
Gambar 36. Konsep SFD pada struktur balok .....	26
Gambar 37. Penggambaran shear forces diagram (SFD) dengan cara grafis. ....	26
Gambar 38. Penggambaran bending moment diagram (BMD) dengan cara grafis. ....	27
Gambar 39. Hasil Shear force diagram (SFD), Bending moment diagram (BMD), dan Normal force diagram (NFD) hasil perhitungan dengan cara grafis .....	29
Gambar 40 Metode pembuktian momen dengan cara grafis .....	31
Gambar 41. Shear forces diagram (SFD) dengan beban $P\alpha$ .....	32
Gambar 42. Bending momen diagram akibat beban $P\alpha$ .....	33
Gambar 43. Mekanisme lentur pada balok beton bertulang akibat beban merata dengan tumpuan sederhana. ....	33
Gambar 44. Aplikasi pengujian lentur pada balok bamboo laminasi .....	34
Gambar 45. Aplikasi struktur rangka di lapangan. ....	34
Gambar 46. Normal force diagram (NFD).....	35
Gambar 47. Analogi bidang gaya normal tekan.....	35
Gambar 48. Balok tumpuan sederhana dengan 2 beban terpusat.....	35
Gambar 49. Hasil <i>Shear force diagram</i> (SFD), Bending moment diagram (BMD), dan Normal force diagram (NFD) hasil perhitungan dengan cara analitis. .....	37
Gambar 50. Konstruksi balok sederhana dengan beban terpusat pada tengah bentang ( $1/2L$ ).....	37
Gambar 51. <i>Simple beam</i> dengan beban merata .....	39
Gambar 52. Beban merata pada tumpuan sederhana .....	41
Gambar 53. Konstruksi balok sederhana dengan beban kombinasi.....	42
Gambar 54. Konstruksi balok sederhana dengan beban segitiga.....	44
Gambar 55. Konstruksi balok sederhana dengan beban segitiga .....	45
Gambar 56. Aplikasi pelat lantai pada bangunan rumah tinggal	

(Sumber: hollow6.jpg) .....	48
Gambar 57. Gambar beban segitiga simetri dengan tumpuan sederhana .....	48
Gambar 58. Konstruksi balok sederhana dengan beban merata .....	51
Gambar 59. Konstruksi balok sederhana dengan beban kobinasi (merata dan segitiga).....	51
Gambar 60. Konstruksi balok beroverstek dengan beban terpusa .....	52
Gambar 61. Konstruksi balok beroverstek dengan beban merata.....	53
Gambar 62. Konstruksi balok beroverstek dengan beban segitiga .....	54
Gambar 63. Konstruksi balok overstek dengan beban terpusat .....	55
Gambar 64. Meshing element pada konstruksi balok beroverstek dengan menggunakan program Analisis Numerik ADINA (Analysis Dynamic Non-linear) (Sumber: www.adina.co.id).....	57
Gambar 65. Pelaksanaan balance traveler pekerjaan jembatan (Sumber: gratec.com Cantilever carriage for Saadiyat Bridge Abu Dhabi, United Arab Emirates) .....	58
Gambar 66. Pelaksanaan metode konstruksi balance cantilever pada struktur jembatan.....	58
Gambar 67. Konstruksi balok beroverstek.....	60
Gambar 68. Konstruksi balok sederhana dengan beban momen negatif pada salah satu ujungnya .....	62
Gambar 69. Konstruksi balok sederhana dengan beban momen negatif pada kedua ujungya.....	63
Gambar 70. Konstruksi balok sederhana dengan momen diantara tumpuan .....	64
Gambar 71. Transfer beban ke titik buhul pada suatu gelagar balok.....	67
Gambar 72. Konstruksi balok miring dengan kombinasi beban merata dan terpusat.....	70
Gambar 73. Pembebanan truk pada jembatan (RSI T-05 2005) .....	74
Gambar 74. Garis pengaruh akibat reaksi RA dan RB .....	75
Gambar 75. Garis Pengaruh Reaksi Tumpuan.....	76
Gambar 76. Garis pengaruh momen dan gaya lintang akibat beban terpusat.....	78
Gambar 77. Garis pengaruh akibat dua beban terpusat.....	81

Oleh:

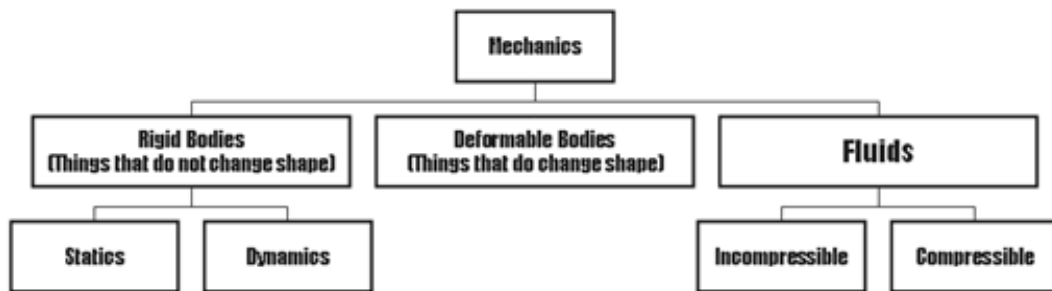
Faqih Ma'arif, M.Eng.

Gambar 78. Garis pengaruh dengan balok overstek beban terpusat .....	86
Gambar 79. Garis pengaruh akibat beban merata .....	89
Gambar 80. Pengaruh momen dan gaya lintang pada beban terbagi merata. ....	92
Gambar 81. Garis Pengaruh akibat beban terbagi merata.....	94
Gambar 82. Skema pembebanan jalan Rel .....	98
Gambar 83. Konfigurasi beban gandar mobil .....	98
Gambar 84. Beban berjalan akibat beban titik.....	100
Gambar 85. Rangkaian beban berjalan akibat beban titik.....	101
Gambar 86. Berbagai konfigurasi beban berjalan pada gelagar balok.....	103
Gambar 87. Beban berjalan akibat beban merata.....	106
Gambar 88. Garis pengaruh momen akibat beban berjalan .....	107
Gambar 89. rangkaian beban berjalan akibat beban merata .....	109
Gambar 90. Garis pengaruh akibat beban merata berjalan .....	110
Gambar 91. Momen ekstrim pada balok sederhana dengan beban berjalan .....	111
Gambar 92. Momen ekstrim dengan rangkaian beban berjalan akibat empat beban terpusat.....	113

# 01 Konsep Dasar

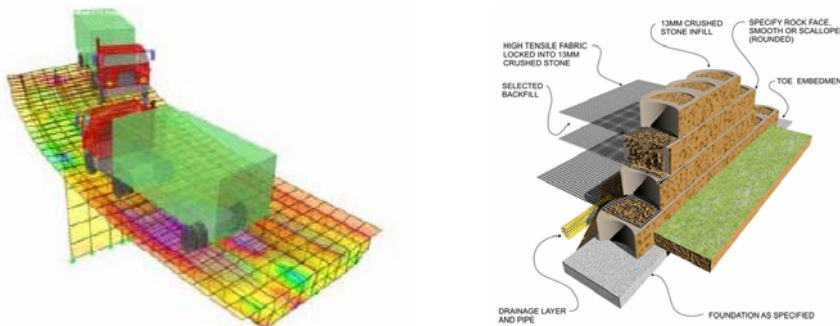
## A. Konsep Dasar

Cabang Ilmu Fisika yang berbicara tentang keadaan diam atau geraknya benda-benda yang mengalami kerja atau aksi gaya



Gambar 7. Bagan cabang Ilmu Mekanika Teknik I

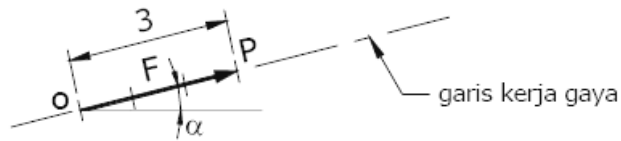
Suatu kendaraan yang terletak di atas suatu jembatan. Beban Roda Pada Jembatan Tersebut adalah suatu beban atau gaya.



Gambar 8. Contoh daya dalam pada struktur Jembatan dan turap

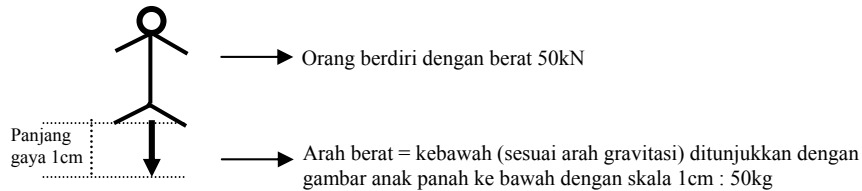
Gaya adalah sesuatu yang menyebabkan deformasi pada suatu struktur. Gaya mempunyai besaran dan arah, digambarkan dalam bentuk vektor yang arahnya ditunjukkan dgn anak-panah, sedangkan panjang vektor digunakan untuk menunjukkan besarnya.





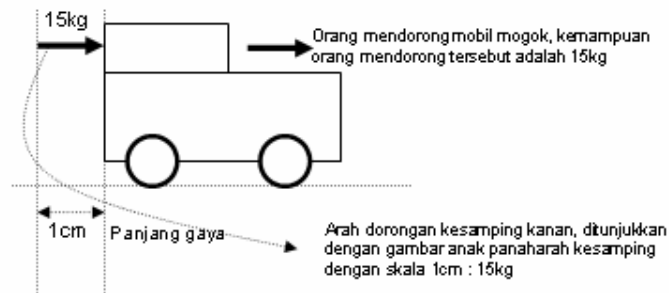
Gambar 9. Gaya yang mempunyai sudut kemiringan  $\alpha$

Apabila terdapat bermacam-macam gaya bekerja pada suatu benda, maka gaya-gaya tersebut dapat digantikan oleh satu gaya yang memberi pengaruh sama seperti yang dihasilkan dari bermacam-macam gaya tersebut, yang disebut sebagai resultan gaya. Gaya adalah VEKTOR yang mempunyai besar dan arah. Penggambarannya biasanya Berupa Garis dengan panjang sesuai dengan skala yang di tentukan.

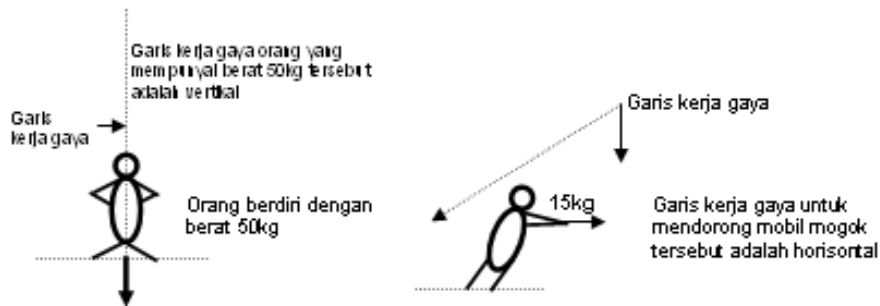


Gambar 10. Analogi gaya pada manusia

Jadi, 50 kN adalah gaya yang diakibatkan oleh orang berdiri tersebut dengan arah gaya ke bawah yang diwakili sebagai gambar anak panah dengan panjang 1 cm, karena panjang 1cm setara dengan berat 50kN.

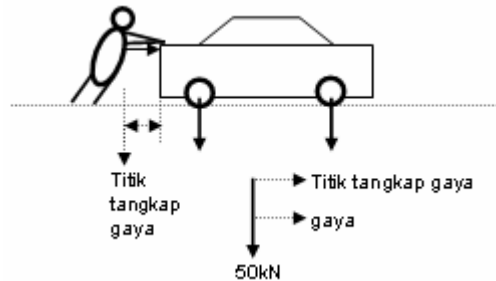


Gambar 11. Garis kerja gaya adalah garis lurus yang melewati gaya



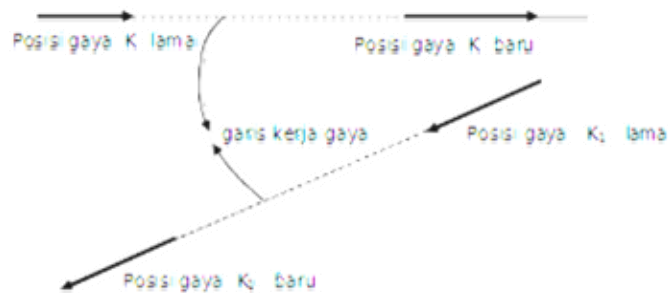
Gambar 12. Analogi garis kerja gaya

Titik tangkap gaya adalah titik awal bermulanya gaya tersebut. Mobil mogok di atas jembatan, roda mobil serta tumpuan tangan orang yang mendorong adalah merupakan titik tangkap gaya.



Gambar 13. Analogi gaya dan titik tangkap gaya

Gaya dan titik tangkap bisa dipindah-pindah, asal masih dalam daerah garis kerja gaya, seperti disajikan pada Gambar 8 di bawah ini.



Gambar 14. Perpindahan gaya dan titik tangkap gaya

## B. Macam Gaya

Dalam ilmu analisis struktur, gaya dibagi menjadi 3 (tiga), diantaranya adalah sebagai berikut:

1. Gaya Koplanar adalah bila gaya-gaya bekerja dalam garis kerja yang satu bidang datar.
2. Gaya Konkuren adalah bila gaya-gaya yang kerjanya berpotongan pada sebuah titik.
3. Gaya Kolinier adalah bila gaya-gaya mempunyai garis kerja dalam satu garis lurus.

Dalam Mekanika Teknik, hanya dibahas gaya yang terletak dalam satu bidang (*Koplanar*).

**C. Vektor Resultan**

Sejumlah gaya yang bekerja pada suatu struktur dapat direduksi menjadi satu resultan gaya, maka konsep ini dapat membantu di dalam menyederhanakan permasalahan. Menghitung resultan gaya tergantung dari jumlah dan arah dari gayagaya tersebut.

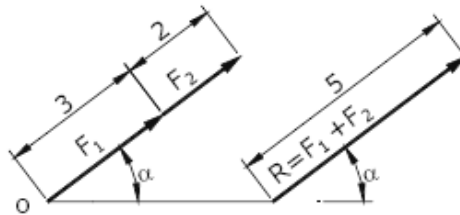
Beberapa cara atau metode untuk menghitung resultan gaya, yaitu:

1. Metode penjumlahan dan pengurangan vektor gaya.
2. Metode segitiga dan segi-banyak vektor gaya.
3. Metode proyeksi vektor gaya.

Untuk lebih jelasnya, berikut diuraikan masing-masing komponen tentang metode/cara untuk mencari resultan gaya.

**1. Metode penjumlahan dan pengurangan vektor gaya**

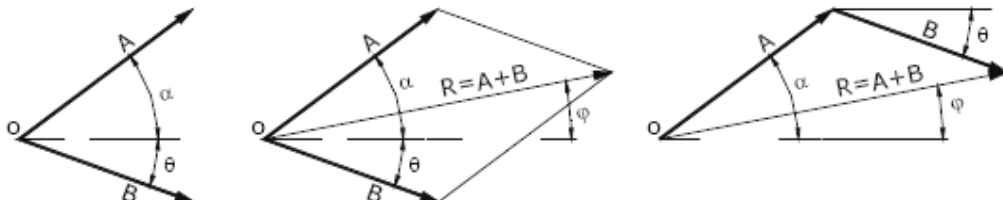
Metode ini menggunakan konsep bahwa dua gaya atau lebih yang terdapat pada garis kerja gaya yang sama (segaris) dapat langsung dijumlahkan (jika arah sama/searah) atau dikurangkan (jika arahnya berlawanan).



Gambar 15. Penjumlahan vektor searah dan segaris menjadi resultan gaya R

**2. Metode segitiga dan segi-banyak vektor gaya**

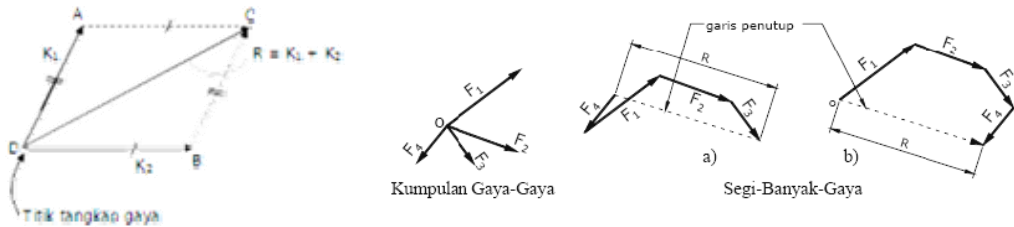
Metode ini menggunakan konsep, jika gaya-gaya yang bekerja tidak segaris, maka dapat digunakan cara Paralellogram dan Segitiga Gaya. Metode tersebut cocok jika gaya-gayanya tidak banyak.



Gambar 16. Resultan dua vektor gaya yang tidak segaris.

Namun jika terdapat lebih dari dua gaya, maka harus disusun suatu segibanyak (poligon) gaya. Gaya-gaya kemudian disusun secara berturutan, mengikuti arah jarum jam.

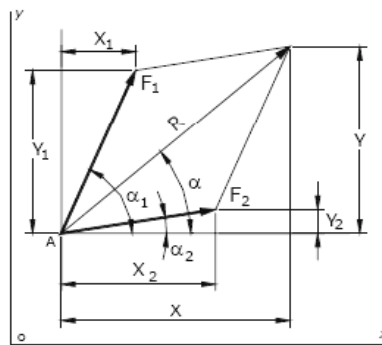
### 3. Metode segitiga dan segi-banyak vektor gaya



Gambar 17. Resultan dari beberapa vektor gaya yang tidak searah. Jika telah terbentuk segi-banyak tertutup, maka penyelesaiannya adalah tidak ada resultan gaya atau resultan gaya sama dengan nol. Namun jika terbentuk segibanyak tidak tertutup, maka garis penutupnya adalah resultan gaya.

### 4. Metode proyeksi vektor gaya

Metode proyeksi menggunakan konsep bahwa proyeksi resultan dari dua buah vektor gaya pada setiap sumbu adalah sama dengan jumlah aljabar proyeksi masing-masing komponennya pada sumbu yang sama. Sebagai contoh dapat dilihat pada Gambar 7.



Gambar 18. Proyeksi Sumbu

$X_i$  dan  $X$  adalah masing-masing proyeksi gaya  $F_i$  dan  $R$  terhadap sumbu  $x$ . sedangkan  $Y_i$  dan  $Y$  adalah masing-masing proyeksi gaya  $F_i$  dan  $R$  terhadap sumbu  $y$ . dimana

$$X_i = F_i \cdot \cos \alpha_i; X = R \cdot \cos \alpha; \text{ maka } X = \sum X_i$$

$$Y_i = F_i \cdot \sin \alpha_i; Y = R \cdot \sin \alpha; \text{ maka } Y = \sum Y_i$$

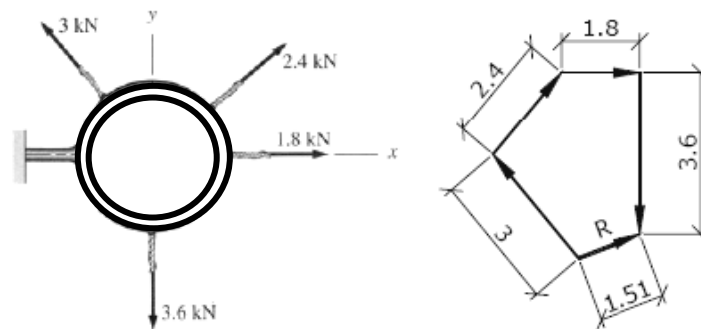
Dengan demikian metode tersebut sebenarnya tidak terbatas untuk dua buah vektor gaya, tetapi bisa lebih. Jika hanya diketahui vektor-vektor gaya dan akan dicari resultan gaya, maka dengan mengetahui jumlah kumulatif dari komponen proyeksi sumbu, yaitu X dan Y, maka dengan rumus pitagoras dapat dicari nilai resultan gaya (R), dimana:

$$R = \sqrt{X^2 + Y^2} \quad \text{dan} \quad \alpha = \text{arc tan } \frac{X}{Y}$$

#### D. Contoh Soal dan Penyelesaian

##### 1. Soal Pertama

Contoh pertama, diketahui suatu benda dengan gaya-gaya seperti terlihat pada Gambar 8 sebagai berikut. Ditanyakan : Tentukan besar dan arah resultan gaya dari empat gaya tarik pada besi ring.



Gambar 19. Contoh soal pertama.

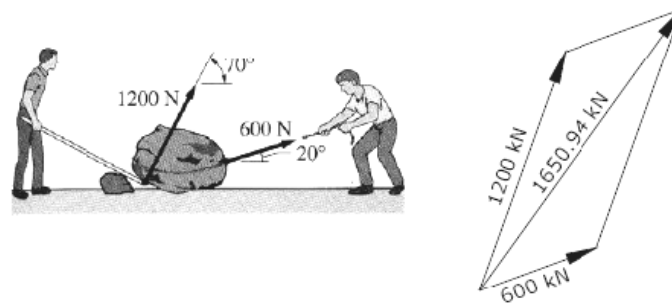
##### 2. Soal Kedua

Contoh kedua, diketahui dua orang seperti terlihat pada Gambar 9, sedang berusaha memindahkan bongkahan batu besar dengan cara tarik dan unkit.

Ditanyakan:

Tentukan besar dan arah gaya resultan yang bekerja pada titik bongkah batu akibat kerja dua orang tersebut.

Jawaban:



Gambar 20. Contoh soal kedua.

### PUSTAKA

Darma, Edifrizal, 2011. Prinsip dasar Statika I. Pusat Pengembangan Bahan Ajar, Universitas Mercu Buana.

Suparman, 1985. Mekanika Teknik I. Jurusan Pendidikan Teknik Bangunan, Fakultas Teknik, Universitas Negeri Yogyakarta.

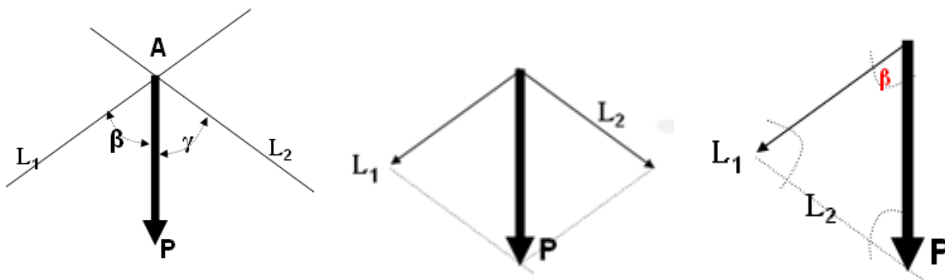
Sardjono, 1985. Himpunan soal-soal dan penyelesaian, Mekanika Teknik Statis Tertentu: Surabaya.

# 02 Penguraian Gaya

## A. Metode penguraian gaya batang dengan cara grafis

### 1. Membagi sebuah gaya menjadi dua buah gaya yang kongruen

Secara grafis dapat dilakukan dengan jajaran genjang gaya atau segitiga gaya.



Gambar 21. Pembagian gaya dengan jajaran genjang dan segitiga  
Secara analitis dapat dirumuskan sebagai berikut ini:

$$\frac{a}{\sin \alpha} = \frac{b}{\sin \beta} = \frac{c}{\sin \gamma}$$

bila salah satu sisinya (gaya yang akan dibagi) diketahui besarnya dan besar sudut dalam diketahui, maka panjang (besarnya) sisi yang lain dapat diketahui.

### 2. Contoh Soal dan penyelesaian

Diketahui gaya  $P = 10\text{kN}$  akan dibagi menjadi dua gaya yang bergaris kerja  $L_1$  dan  $L_2$  seperti pada Gambar XXX di bawah ini. Diminta menentukan besar dan arah gaya komponen ( $P_1$  dan  $P_2$ )

#### Penyelesaian:

Perhitungan cara grafis dapat dilihat pada Gambar XXX di bawah. Besarnya gaya komponen  $P_1$  dan  $P_2$  dapat dihitung dengan mengalikan panjang garis masing-masing terhadap skala gaya  $4\text{kN} : 1\text{cm}$ .

Diperoleh  $P_1 = 1,9 \cdot 4 = 7,2\text{kN}$ ;  $P_2 = 2,4 \cdot 4 = 9,2\text{kN}$ .

Cara analitis:

$$\frac{P_1}{\sin \beta} = \frac{P_2}{\sin \gamma} = \frac{P}{\sin \alpha}$$

$$\beta = 45^\circ; \gamma = 90^\circ - 30^\circ = 60^\circ$$

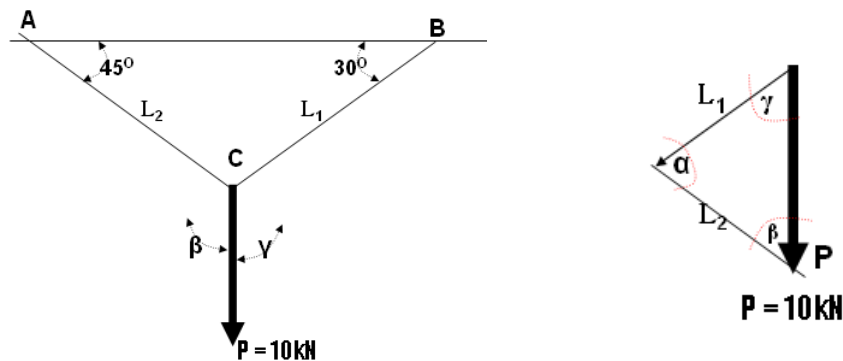
$$\alpha = 180^\circ - 45^\circ - 60^\circ = 75^\circ$$

Menghitung  $P_1$

$$\frac{P_1}{\sin 45^\circ} = \frac{P}{\sin 75^\circ} \rightarrow P_1 = \frac{\sin 45^\circ}{\sin 75^\circ} P$$

Menghitung  $P_2$

$$\frac{P_2}{\sin 60^\circ} = \frac{P}{\sin 75^\circ} \rightarrow P_2 = \frac{\sin 60^\circ}{\sin 75^\circ} \cdot 10 = 8,97 \text{ kN}$$



Gambar 22. Membagai gaya dengan cara grafis

### B. Membagi sebuah gaya menjadi dua buah gaya yang tidak kongruen

Gaya sebesar 10kN seperti pada Gambar 22 di bawah ini akan dibagi menjadi  $P_1$  dan  $P_2$ , yang garis kerjanya masing-masing melalui A dan C.

**Penyelesaian dengan cara Grafis:**

1. Gambarlah garis kerja gaya P,  $P_1$  dan  $P_2$  dengan skala jarak antar garis kerja yang tertentu, misalnya dibuat skala 1cm : 1m.
2. Gambar gaya P = 10kN dengan skala tertentu juga, misalkan 1cm: 4kN; tentukan titik kutub O (sembarang). Usahakan jarak kutub itu sedemikian rupa sehingga lukisan poligon batang nantinya tidak terlalu tumpul dan tidak terlalu runcing.
3. tarik garis 1 melalui pangkal gaya P = 10kN dan melalui titik O.
4. lukis garis I sejajar garis 1, yang memotong garis kerja gaya  $P_1$  dan gaya P.

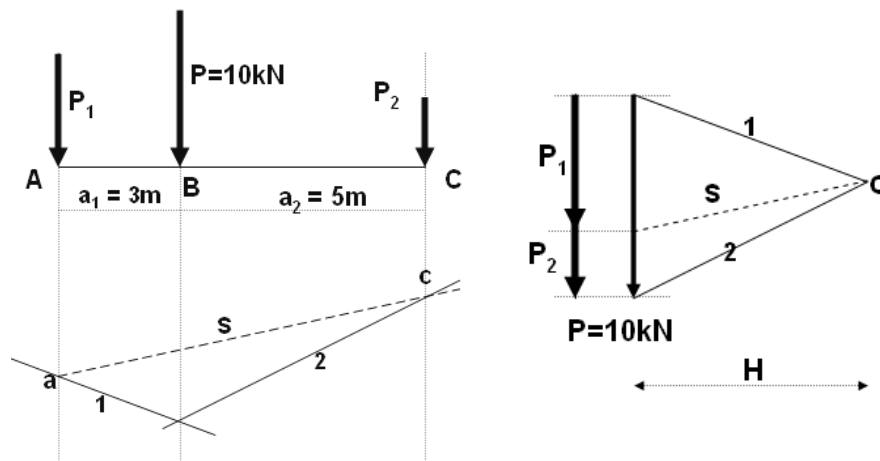
Oleh:

Faqih Ma'arif, M.Eng.



5. lukis garis 2 melalui ujung P = 10kN dan melalui titik O
6. lukis garis II sejajar garis 2, yang melalui perpotongan garis I dan garis verja P, dan melalui garis verja P<sub>2</sub>.
7. lukis garis S yang melalui titik potong antara garis kerja P<sub>1</sub> dan garis I, dan melalui titik potong antara garis P<sub>2</sub> dan garis 2.
8. lukis garis S sejajar garis S yang melalui titik kutub dan memotong gaya P = 10kN.

setelaha selesai langkah lukisan di atas, selanjutnya hádala mengukur panjang garis yang menyatakan besarnya P<sub>1</sub> dan P<sub>2</sub>. besarnya P<sub>1</sub> diukur dari pangkal gaya P = 10kN sampai dengan perpotongan garis S dengan gaya P sampai dengan ujung gaya P. hasil pengukuran tersebut kemudian dikalikan dengan skala gaya yang digunakan. Dalam persoalan ini diperoleh gaya P<sub>1</sub> = 1,5.4 = 6kN; dan gaya P<sub>2</sub> = 1.4 = 4kN.



Gambar 23. Penyelesaian dengan cara grafis.

**Cara Analitis**

Dengan menggunakan statis momen, “momen resultan = jumlah momen komponennya”

**Statis Momen Terhadap TITIK A.**

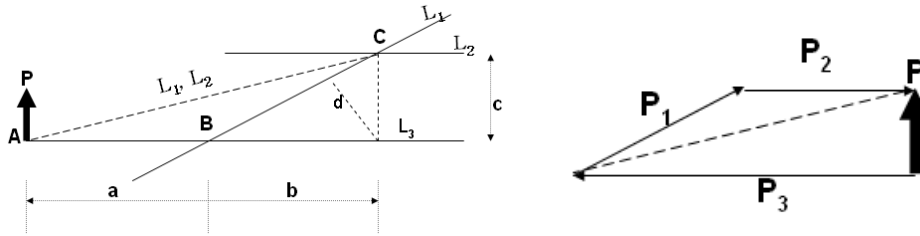
$$P \cdot a_1 = P_2 \cdot L \quad P_2 = \frac{P \cdot a_1}{L} = \frac{10 \cdot 3}{8} = 3,75 \text{ kN}$$

**Statis momen terhadap titik C.**

$$P \cdot a_2 = P_1 \cdot L \quad P_1 = \frac{P \cdot a_2}{L} = \frac{10 \cdot 5}{8} = 6,25 \text{ kN}$$

**C. Membagi atau mengganti sebuah gaya menjadi tiga buah gaya yang tidak konkruen**

Misalnya gaya P akan diganti menjadi gaya P<sub>1</sub>, P<sub>2</sub> dan P<sub>3</sub> yang telah ditentukan garis kerjanya.



Gambar 24. Pembagian gaya menjadi tiga buah gaya yang tidak konkruen

Usaha pertama adalah membuat gaya-gaya tersebut menjadi konkruen. Dalam membuat konkruen tidak dapat dilakukan sekali, tetapi harus dilakukan dua kali. Dalam hal ini, carilah lebih dahulu titik-titik pertemuan antara garis kerja gaya yang diganti dengan salah satu garis kerja gaya pengganti, misalnya titik temuannya di A. kemudian agar diperoleh titik tangkapyang konkruen, maka dua garis kerja gaya pengganti yang lain disatukan menjadi sebuah garis kerja (garis kerja persekutuan), misalnya titik pertemuan antara dua gaya pengganti tersebut di C. garis yang menghubungkan titik A dengan titik C merupakan garis kerja persekutuan yang dimaksud di atas, dan membuat gaya diganti dengan ketiga gaya penggantinya yang konkruen. Dari tiga garis kerja gaya yang konkruen inilah dapat dilukis penggantian P<sub>3</sub> dan sebuah gaya persekutuan (Panduan P<sub>1</sub> dan P<sub>2</sub>). Selanjutnya gaya persekutuan ini diganti menjadi gaya P<sub>1</sub> dan P<sub>2</sub>. jadi, ketiga gaya pengganti telah diketahui semuanya, besarnya tinggal mengukur pajang garisnya dikalikan dengan skala gaya yang digunakan.

Mengganti atau membagi sebuah gaya menjadi tiga buah gaya yang tidak konkruen ini merupakan dasar *metode cullman* dalam menghitung besarnya gaya batang pada konstruksi rangka.

**Cara analitis**

Karena gaya-gayanya tidak konkruen, maka untuk menghitung gaya yang Belem diketahui, digunakan “Status Momen”. Pemilihan titik yang dipakai pusat momen harus diperhatikan sedemikian sehingga dalam sebuah

persamaan hanya mengandung sebuah bilangan yang Belum diketahui. Pada persoalan di atas, dipilih dahulu titik C sebagai pusat momen, sehingga dapat dihitung gaya  $P_3$  (bila dipilih titik A sebagai pusat momen, maka ada dua bilangan yang Belum diketahui, yaitu  $P_1$  dan  $P_2$ ).

**Statis momen terhadap titik C.**

$P \cdot (a+b) = -P_3 \cdot c \rightarrow P_3$  dimisalkan arahnya ke kanan

$$P_3 = \frac{P(a+b)}{c} \rightarrow \text{berarti arah } P_3 \text{ sebenarnya ke kiri.}$$

Statis momen terhadap titik B.

$P \cdot a = P_2 \cdot c \rightarrow P_2$  dimisalkan arahnya ke kanan

$$P_2 = \frac{P \cdot a}{c} \rightarrow \text{Berarti arah } P_2 \text{ yang benar ke kanan}$$

Statis momen terhadap titik D,

$P(a+b) = P_2 \cdot c + P_1 \cdot d \rightarrow P_1$  dimisalkan arahnya ke atas.

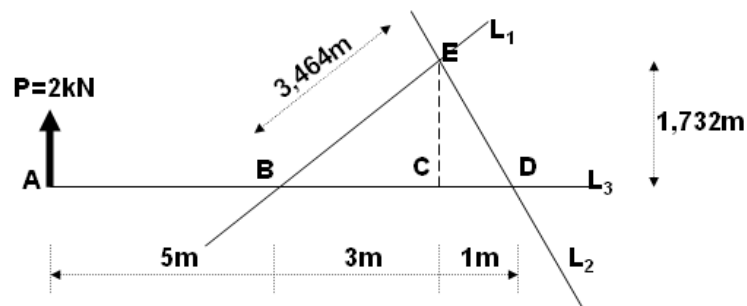
$$P_1 = \frac{P \cdot (a+b) - P_2 \cdot c}{d}$$

$$P_1 = \frac{P \cdot a + P \cdot b - P \cdot a}{d} = \frac{P \cdot b}{d} \rightarrow \text{berarti arah } P_1 \text{ sebenarnya ke atas}$$

Hitungan cara analitis ini merupakan dasar dari metode **Ritter** untuk mencari besarnya gaya batang pada konstruksi rangka batang. Untuk lebih mendalami sebuah gaya menjadi tiga buah gaya yang tidak konkruen, baik secara grafis ataupun analitis, berikut disajikan contoh soal dan penyelesaiannya.

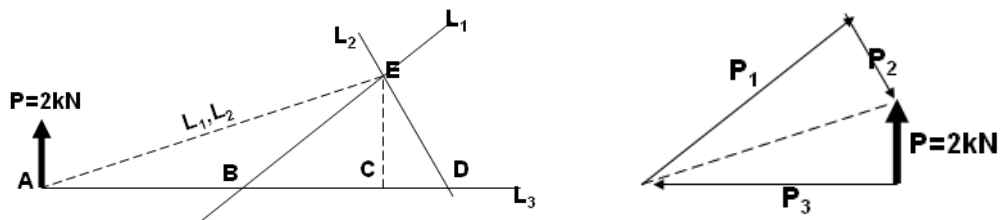
**Contoh;**

Hitunglah gaya pengganti  $P_1$ ,  $P_2$  dan  $P_3$  dari sebuah gaya  $P = 2\text{kN}$ , yang masing-masing garis kerjanya  $L_1$ ,  $L_2$  dan  $L_3$  seperti pada Gambar di bawah ini.



Gambar 25. Metode grafis untuk mencari besarnya gaya pengganti

Skala gaya yang digunakan 1cm : 2kN; skala jarak 1cm: 1m; lukisan untuk menghitung gaya pengganti adalah seperti pada Gambar 26 di bawah ini.



Gambar 26. Lukisan gaya pengganti dengan cara grafis

**Cara analitis:**

Statis momen terhadap titik E.

$$P \cdot 8 = -P_3 \cdot 1,732 \rightarrow P_3 \text{ dimisalkan ke kanan}$$

$$P_3 = -\frac{P \cdot 8}{1,732} = \frac{2 \cdot 8}{1,732} = -9,24kN \rightarrow P_3 \text{ ke kiri}$$

**Statis momen terhadap titik D.**

$$P \cdot 9 = P_1 \cdot 2 \rightarrow P_1 \text{ dimisalkan ke atas}$$

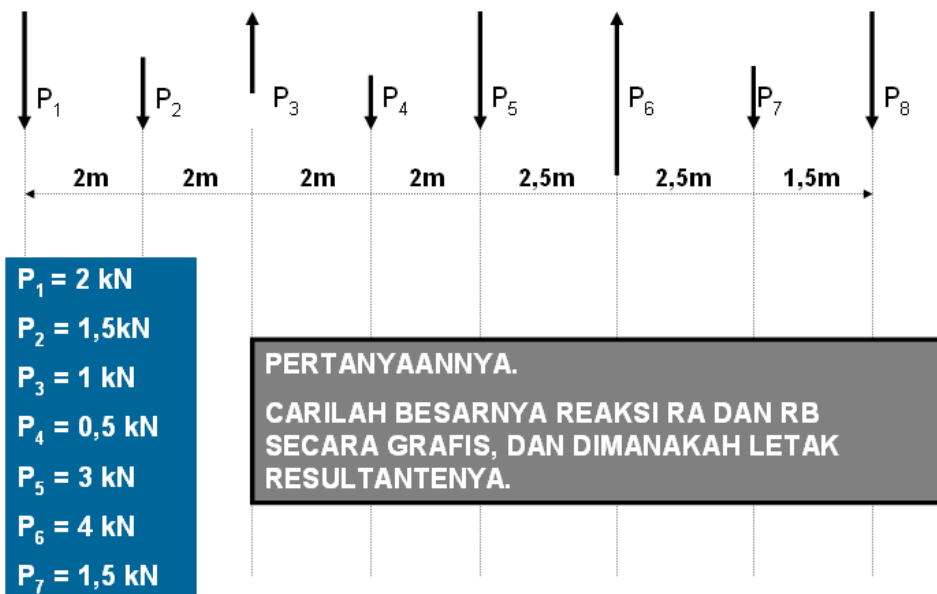
$$P_1 = \frac{P \cdot 9}{2} = \frac{2 \cdot 9}{2} = 9kN \rightarrow P_1 \text{ ke atas}$$

**Statis momen terhadap titik B**

$$P \cdot 5 = -P_2 \cdot 3,464 \rightarrow P_2 \text{ dimisalkan ke atas}$$

$$P_2 = -\frac{P \cdot 5}{3,464} = -2,89kN \rightarrow P_2 \text{ ke bawah}$$

Latihan SOAL



Gambar 27. Gelagar balok dengan beban terpusat lebih dari satu

PUSTAKA

Darma, Edifrizal, 2011. Prinsip dasar Statika I. Pusat Pengembangan Bahan Ajar, Universitas Mercu Buana.

Suparman, 1985. Mekanika Teknik I. Jurusan Pendidikan Teknik Bangunan, Fakultas Teknik, Universitas Negeri Yogyakarta.

Sardjono, 1985. Himpunan soal-soal dan penyelesaian, Mekanika Teknik Statis Tertentu: Surabaya.

# Konsep Dasar Tumpuan, SFD, BMD, NFD

## 03

### A. Konsep Dasar Tumpuan, SFD, BMD, NFD

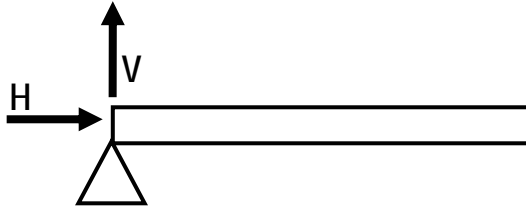
Tumpuan adalah tempat bersandarnya suatu konstruksi & tempat bekerjanya reaksi. Masing-masing mempunyai karakteristik berbeda.

1. Tumpuan sendi
2. Tumpuan rol
3. Tumpuan jepit
4. Tumpuan gesek
5. Tumpuan bidang datar
6. Tumpuan tali
7. Pendel
8. Tumpuan titik

Untuk lebih jelasnya, berikut dijelaskan masing-masing karakteristik tumpuan pada bidang Mekanika Teknik atau Analisis Struktur.

#### 1. Tumpuan sendi

Tumpuan sendi adalah tumpuan yang dapat menerima gaya dari segala arah, akan tetapi tidak mampu menahan momen



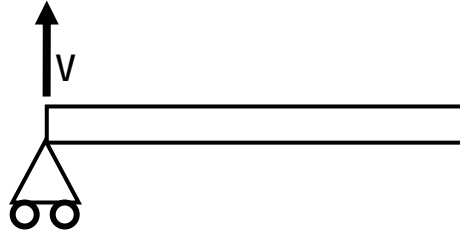
Gambar 28. Pemodelan tumpuan sendi




Gambar 29. Aplikasi tumpuan sendi pada struktur jembatan

## 2. Tumpuan ROL

Tumpuan Rol adalah tumpuan yang hanya dapat menahan gaya bekerja tegak lurus (*vertical*) dan tidak dapat menahan momen.



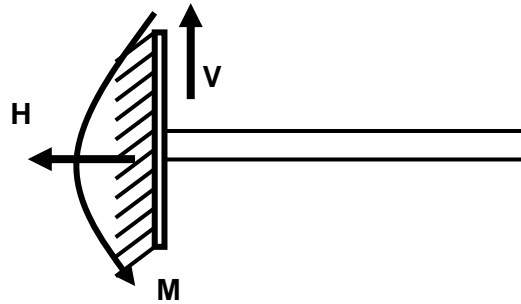
Gambar 30. Pemodelan tumpuan rol



Gambar 31. Aplikasi tumpuan rol pada struktur atas jembatan

## 3. Tumpuan Jepit

Tumpuan jepit adalah tumpuan yang dapat menahan gaya dalam segala arah dan dapat menahan momen.



Gambar 32. Pemodelan tumpuan jepit



Gambar 33. Aplikasi jepit sempurna pada bangunan gedung berlantai banyak

#### 4. JENIS KONSTRUKSI

Ada dua jenis konstruksi yaitu konstruksi statis tertentu dan konstruksi statis tak tentu. Pada konstruksi statis tak tentu, besarnya reaksi dan momen dapat ditentukan dengan persamaan keseimbangan. Sedangkan pada persamaan konstruksi statis tak tentu, tidak dapat diselesaikan dengan persamaan keseimbangan. Untuk mempermudah dan mempercepat dalam menentukan jenis konstruksi, dapat digunakan persamaan:

$$R = B + 2$$

R = Jumlah Reaksi yang akan ditentukan

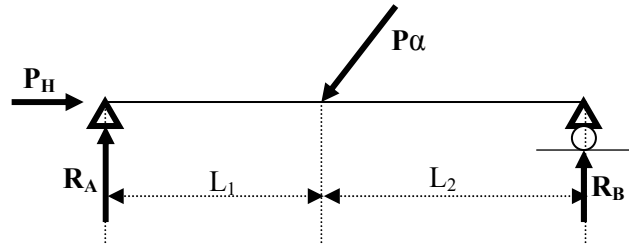
B = Jumlah Batang

Bila  $R > B + 2$ , berarti konstruksi statis tak tentu

Contoh:

Suatu konstruksi sederhana (tumpuan sendi rol) seperti Gambar 20 di bawah ini. Tentukanlah jenis konstruksinya.





Gambar 34. Konstruksi dengan tumpuan sederhana (sendi rol)

**Jawab:**

Pada Konstruksi sendi dan rol, terdapat tiga buah gaya yang harus ditentukan, sedang jumlah batang = 1. menurut persamaan di atas, maka:

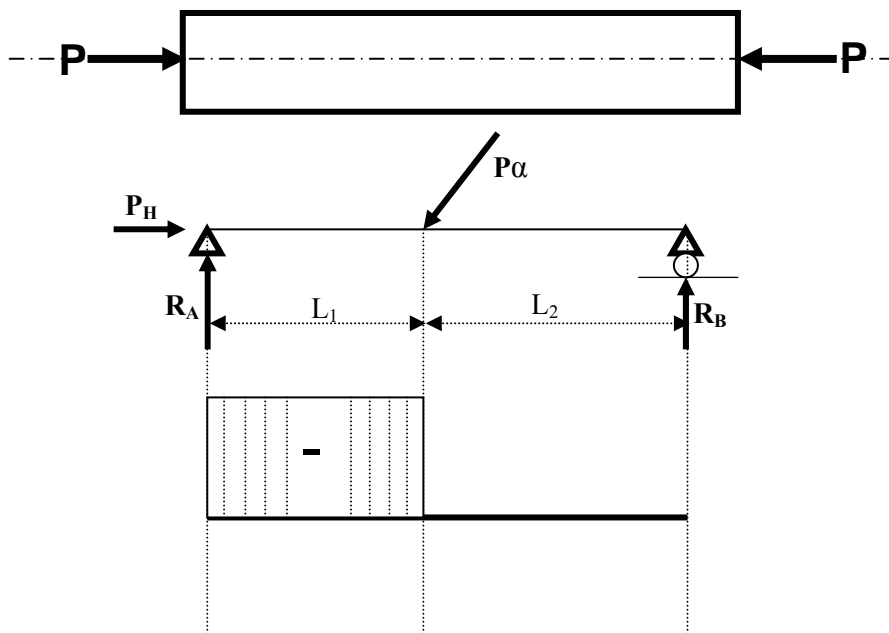
$$R = B + 2 = 1 + 2 = 3$$

$$R = 3 \rightarrow \text{Sesuai}$$

Jadi konstruksi dengan tumpuan sederhana (sendi-rol) di atas termasuk jenis konstruksi Statis tertentu.

**5. GAYA NORMAL (Normal Forces Diagram)**

Gaya normal adalah suatu gaya yang garis kerjanya berimpit/sejajar dengan sumbu batang.



Gambar 35. Penggambaran *normal forces diagram* (NFD) cara grafis

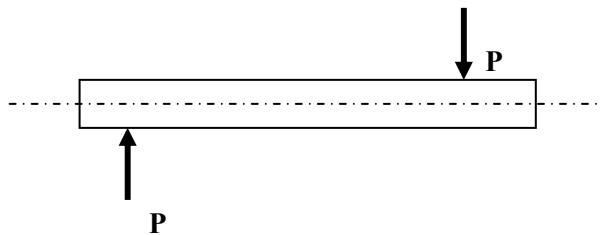
**Notasi:**

- a. Positif Jika gaya normal tarik
- b. Negatif Jika gaya normal tekan

Pada gambar di atas menunjukkan bahwa adanya gaya normal diakibatkan oleh adanya beban sebesar  $P\alpha$ , yang apabila diuraikan gayanya menjadi gaya vertikal dan horisontal. Selanjutnya, gaya arah horisontal (arah ke kiri) akan dilawan oleh gaya  $P_H$  (arah ke kanan). Sehingga timbulah gaya normal tekan (negatif) karena serat pada balok tersebut tertekan (memendek).

**6. Gaya Lintang (*Shear Force Diagram*)**

Gaya normal (*shear forces diagram*) adalah susunan gaya yang tegak lurus dengan sumbu batang.

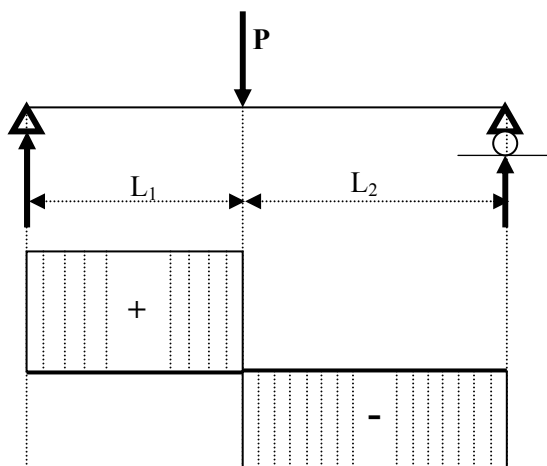


Gambar 36. Konsep SFD pada struktur balok

**Notasi:**

Positif jika searah dengan jarum jam

Negatif jika berlawanan arah dengan jarum jam

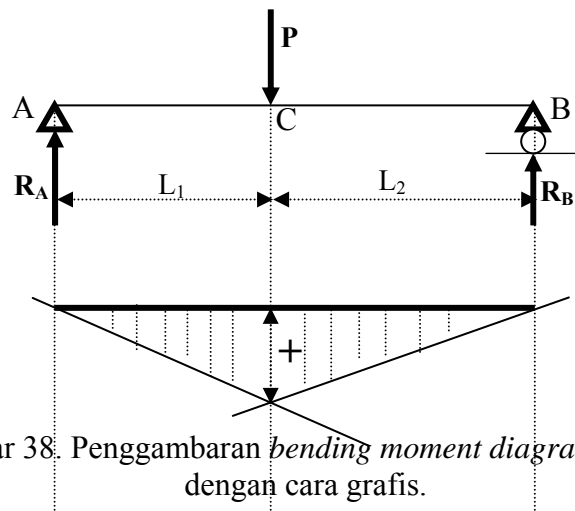


Gambar 37. Penggambaran *shear forces diagram* (SFD) dengan cara grafis.

Pada Gambar 37 di atas menunjukkan bahwa nilai gaya lintang akan positif apabila perputaran gaya yang bekerja searah dengan jarum jam, dan diarsir tegak lurus dengan sumbu batang yang menerima gaya melintang. Sebaliknya, bila perputaran gaya yang bekerja berlawanan arah dengan perputaran jarum jam, diberi tanda negatif dan diarsir sejajar dengan sumbu batang.

**7. Momen (Bending Moment Diagram)**

Momen adalah hasil kali antara gaya dengan jarak (jarak garis lurus terhadap garis kerjanya)



Gambar 38. Penggambaran *bending moment diagram* (BMD) dengan cara grafis.

Momen adalah hasil kali antara gaya dengan jaraknya. Jarak disini adalah jarak tegak lurus dengan garis kerja gayanya. Dalam Gambar 38 di atas berarti bahwa pada titik C terjadi momen sebesar:

$$M_c = R_A \cdot L_1$$

Bidang momen diberi tanda positif jika bagian bawah atau bagian dalam yang mengalami tarikan. Bidang momen positif diarsir tegak lurus sumbu batang yang mengalami momen.

Sebaliknya, apabila yang mengalami tarikan pada bagian atas atau luar bidang momen, maka diberi dengan tanda negatif. Bidang momen negatif diarsir sejajar dengan sumbu batang. Perlu diketahui bahwa momen yang berputar ke kanan belum tentu positif dan momen yang

berputar ke kiri belum tentu negatif. Oleh karena itu, perjanjian tanda perlu diperhatikan dengan teliti.

### PUSTAKA

Darma, Edifrizal, 2011. Prinsip dasar Statika I. Pusat Pengembangan Bahan Ajar, Universitas Mercu Buana.

Suparman, 1985. Mekanika Teknik I. Jurusan Pendidikan Teknik Bangunan, Fakultas Teknik, Universitas Negeri Yogyakarta.

Sardjono, 1985. Himpunan soal-soal dan penyelesaian, Mekanika Teknik Statis Tertentu: Surabaya.

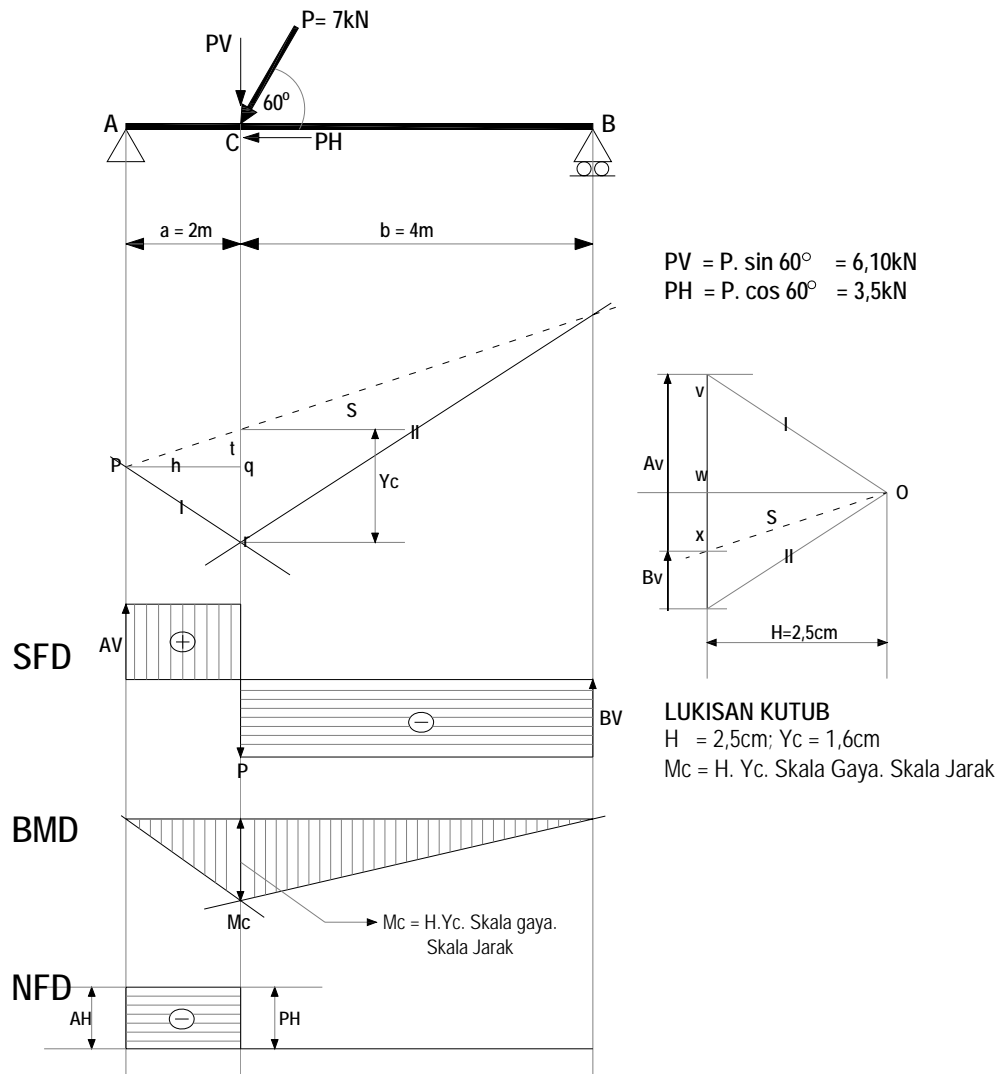
# Konstruksi Balok Sederhana (KBS)

## A. Konstruksi Balok Sederhana

Konstruksi balok sederhana adalah konstruksi yang ditumpu pada dua titik tumpu, yang masing-masing berupa sendi dan rol. Jenis konstruksi ini adalah statis tertentu, yang dapat diselesaikan dengan persamaan keseimbangan.

### 1. Konstruksi balok sederhana dengan sebuah beban terpusat

Untuk dapat menggambar bidang SFD, NFD dan BMD terlebih dahulu harus dihitung reaksi arah vertikal. Sedangkan untuk menghitung besarnya reaksi, dapat dilakukan secara grafis ataupun analitis.



Gambar 39. Hasil *Shear force diagram* (SFD), *Bending moment diagram* (BMD), dan *Normal force diagram* (NFD) hasil perhitungan dengan cara grafis  
 Cara grafis dilakukan dengan langkah-langkah sebagai berikut:

Oleh:

Faqih Ma'arif, M.Eng.

1. Menentukan skala jarak dan skala gaya (Misalkan skala jarak 1cm: 1m) dan skala gaya (1cm : 2kN).
2. Menggambar konstruksi balok dengan skala yang telah ditentukan dan memperpanjang garis kerja gaya Pv, Av, serta Bv.
3. Uraikan gaya menjadi Pv dan Ph.
4. Lukislah lukisan kutub dan poligon batangnya sehingga diperoleh besarnya Av dan Bv.
5. Besarnya reaksi adalah sama dengan panjang garisnya dikalikan dengan skala gayanya.
6. Besarnya momen adalah sama dengan panjang kutub (II) dikalikan dengan tinggi ordinat pada poligon batang (y) dikalikan dengan skala gaya dan skala jarak. (M = H.y. skala gaya. Skala jarak).

Untuk membuktikan besarnya M = H. Y, berikut disajikan penjelasannya. Lihat Gambar 25 di atas, segitiga prt (dalam poligon batang) sebangun dengan segitiga Owx (pada lukisan kutub), maka diperoleh hubungan:

**Segitiga prt (dalam poligon batang)**

$$\frac{Pt}{rt} = \frac{ox}{vx}$$

$$Pt = \frac{ox}{vx} .rt$$

$$Pt = \frac{ox}{Av} . Yc \dots\dots\dots(1)$$

**Segitiga pqt (dalam poligon batang)**

$$\frac{pt}{pq} = \frac{ox}{ow}$$

$$pt = \frac{pq}{ow} .ox$$

$$pt = \frac{a}{H} .ox \dots\dots\dots(2)$$

**Persamaan (1) dan (2)**

$$\frac{ox}{Av} . Yc = \frac{a}{H} .ox$$



$$B_v = \frac{6,1 \cdot 2}{6} = 2,03 \text{ kN (ke atas)}$$

$$\sum M_B = 0$$

$$A_v \cdot L - P_v \cdot b = 0 \quad \rightarrow \quad A_v = \frac{P_v \cdot b}{L}$$

$$A_v = \frac{6,1 \cdot 4}{6} = 4,07 \text{ kN (ke atas)}$$

$$\sum G_h = 0$$

$$A_h - P_h = 0$$

$$A_h = P_h = 3,5 \text{ kN}$$

MOMEN

$M_A = 0$  ----- Karena A adalah tumpuan sendi

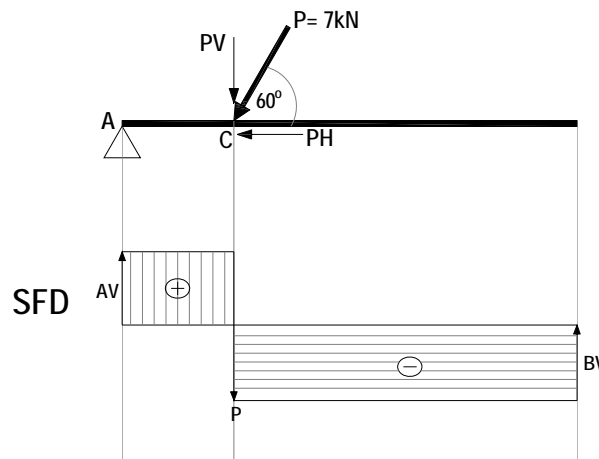
$M_B = 0$  ----- Karena B adalah tumpuan rol

### Bending Moment diagram (BMD)

$$M_c = A_v \cdot 2 = 4,07 \cdot 2 = 8,14 \text{ kNm}$$

### Shear forces diagram (SFD)

Merupakan gaya yang tegak lurus dengan sumbu batang



Gambar 41. Shear forces diagram (SFD) dengan beban Pa

Luas bidang D positif = Luas Bidang D Negatif

$$A_v \cdot a = B_v \cdot b$$

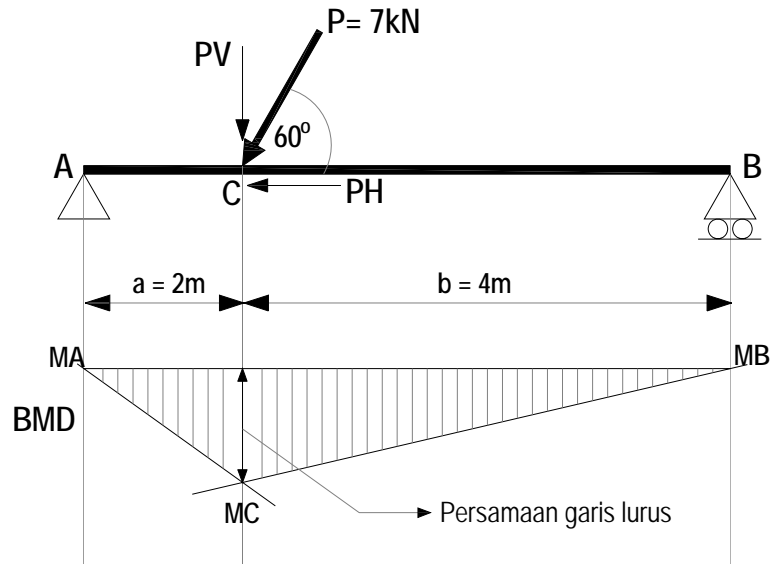
$$4,07 \cdot 2 = 2,03 \cdot 4$$

$$8,14 \text{ kN} = 8,12 \text{ kN}$$

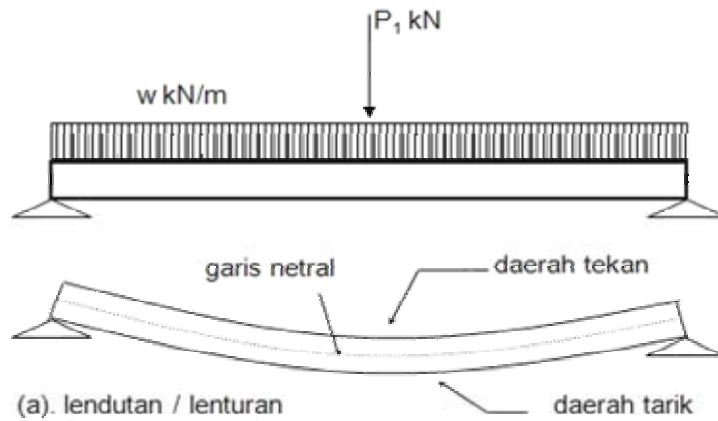
Selisih hasil 0,245%



Momen (bending moment diagram)




Gambar 42. Bending momen diagram akibat beban  $P\alpha$



Gambar 43. Mekanisme lentur pada balok beton bertulang akibat beban merata dengan tumpuan sederhana.

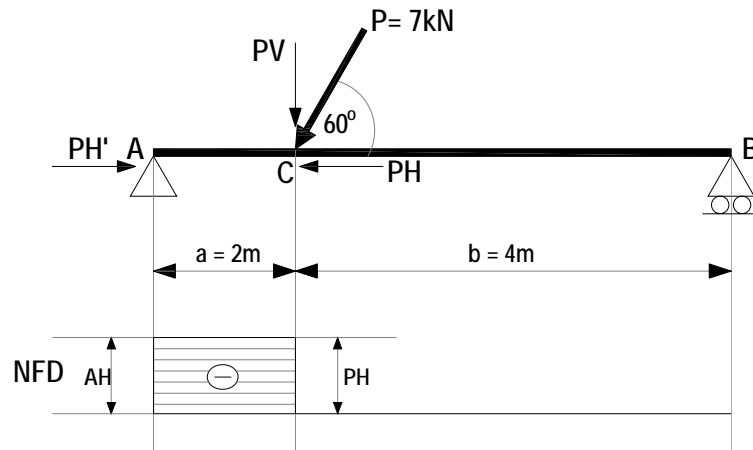


Gambar 44. Aplikasi pengujian lentur pada balok bamboo laminasi




Gambar 45. Aplikasi struktur rangka di lapangan.

Perhatikan letak tumpuan sendi dan rolnya. Tumpuan rol tidak dapat menahan gaya horisontal. Gaya normal bekerja pada titik A sebesar  $Ah$  sejauh titik C. gaya normal bernilai tekan (-).



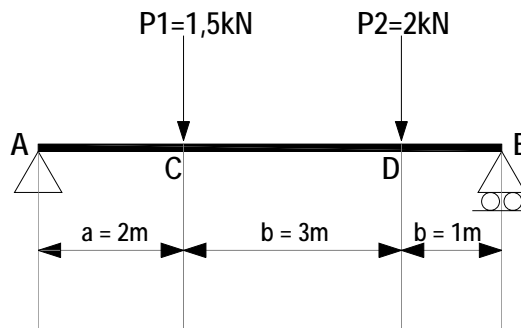
Gambar 46. Normal force diagram (NFD)



Gambar 47. Analogi bidang gaya normal tekan.

**B. Contoh soal dan penyelesaian**

Diketahui suatu struktur balok seperti pada Gambar 34 berikut ini:



Gambar 48. Balok tumpuan sederhana dengan 2 beban terpusat.

Ditanyakan besarnya Reaksi ( $R_A$ ,  $R_B$ , *bending moment diagram* (BMD), *shear force diagram* (SFD).

$\sum M_B = 0$ ; (semua gaya-gaya diasumsikan ke titik B).

$$R_A \cdot 8 - 1,5 \cdot (6) - 2 \cdot (3) = 0$$

$$R_A = \frac{1,5 \cdot (6) + 2 \cdot (3)}{8} = \frac{15}{8} = 1,875 \text{ kN}$$

$\sum M_A = 0$ ; (semua gaya-gaya diasumsikan ke titik A).

$$-R_B \cdot 8 + 2 \cdot (5) + 1,5 \cdot (2) = 0$$

$$R_B = \frac{2 \cdot (5) + 1,5 \cdot (2)}{8} = \frac{13}{8} = 1,625 \text{ kN}$$

**Kontrol :**

$$P_1 + P_2 = R_A + R_B$$

$$1,5 + 2 = 1,875 + 1,625$$

$$3,50 \text{ kN} = 3,5 \text{ kN}$$

**Momen pada tiap titik (BMD)**

$$M_A = M_B = 0$$

$$M_C = R_A \cdot a = 1,875 \cdot 2 = 3,75 \text{ kNm (+)}$$

$$M_D = R_A \cdot b - P_1 \cdot (b-a) \\ = 1,875 \cdot 5 - 1,5 \cdot 3 = 4,975 \text{ kNm (+)}$$

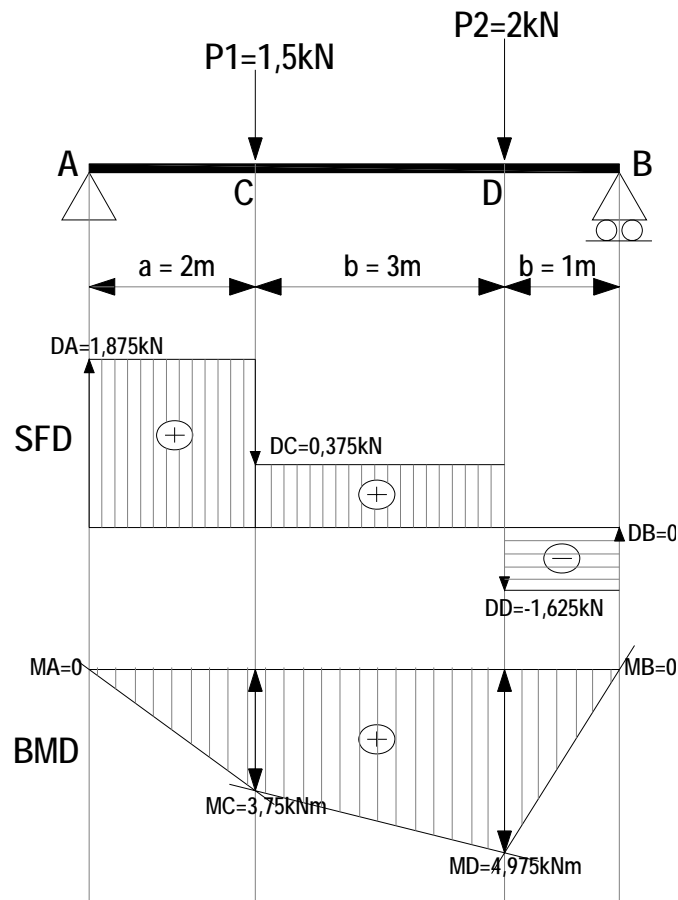
**Bidang gaya lintang (SFD)**

$$D_A = R_A = 1,875 \text{ kN}$$

$$D_C = R_A - P_1 = 1,875 - 1,50 = 0,375 \text{ kN (+)}$$

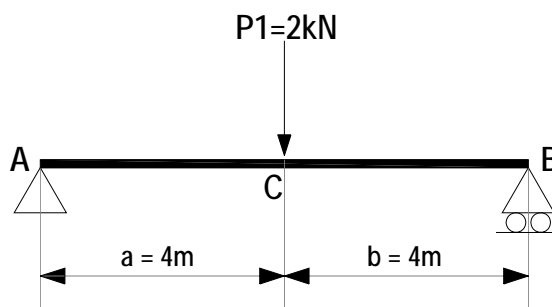
$$D_D = D_C - P_2 = 0,375 - 2 = -1,625 \text{ kN (-)}$$

$$D_B = D_D + R_B = -1,625 + 1,625 = 0$$



Gambar 49. Hasil *Shear force diagram* (SFD), *Bending moment diagram* (BMD), dan *Normal force diagram* (NFD) hasil perhitungan dengan cara analitis.

**HOME WORK**



Gambar 50. Konstruksi balok sederhana dengan beban terpusat pada tengah bentang ( $1/2L$ ).

**Ditanyakan:**

Besarnya  $R_A$ ,  $R_B$ , *Shear force diagram* (SFD), *Bending moment diagram* (BMD) dengan cara grafis dan analitis.

## PUSTAKA

Darma, Edifrizal, 2011. Prinsip dasar Statika I. Pusat Pengembangan Bahan Ajar, Universitas Mercu Buana.

Suparman, 1985. Mekanika Teknik I. Jurusan Pendidikan Teknik Bangunan, Fakultas Teknik, Universitas Negeri Yogyakarta.

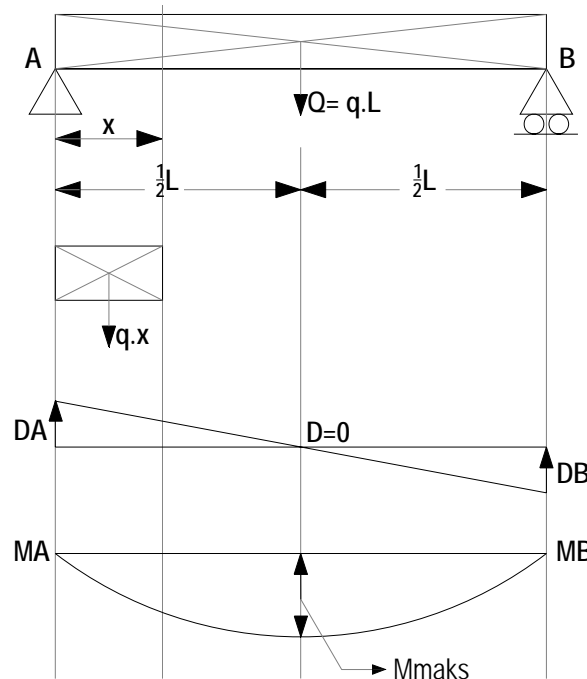
Sardjono, 1985. Himpunan soal-soal dan penyelesaian, Mekanika Teknik Statis Tertentu: Surabaya.

Wesli. 2010. Mekanika Rekayasa. Graha Ilmu: Yogyakarta.

## KBS dengan B. Merata & Kombinasi

### A. KBS dengan beban merata dan KBS dengan beban kombinasi

Untuk menghitung dan menggambar bidang BMD dan bidang SFD pada pembebanan merata, dapat dilakukan dengan metode Grafis dan analitis. Pada cara grafis, beban merata ditransfer menjadi beban terpusat. Dengan adanya transfer beban ini, Gambar bidang M dan bidang N akan sedikit berbeda apabila dihitung tanpa transfer beban. Perbedaan ini tergantung pada transfer bebanya, semakin kecil elemen beban yang ditransfer menjadi beban merata, maka hasilnya akan semakin teliti (mendekati sebenarnya). Dengan kata lain, cara grafis kurang teliti bila dibandingkan dengan cara analitis. Oleh karena itu, dalam pembahasan kali ini tidak dijelaskan cara menghitung dan menggambar secara grafis.



Gambar 51. Simple beam dengan beban merata

Pada Gambar 51 di atas, apabila dihitung dengan menggunakan cara analitis, maka akan mendapatkan nilai maksimum dengan bentuk kurva parabolik, disebabkan adanya beban merata pada struktur balok tersebut.

Berikut disajikan tata cara perhitungan analitis dengan referensi Gambar XXX di atas.

**1. Menghitung Reaksi perletakan  $R_A$  dan  $R_B$**

$$R_A = R_B = \frac{1}{2} \cdot q \cdot L$$

**2. Menghitung SFD (*Shear forces diagram*)**

Gaya Lintang

$$D_x = R_A - q \cdot x$$

$$= \frac{1}{2} \cdot q \cdot L - q \cdot x$$

$$x = \frac{1}{2} \cdot L \text{ maka } D_x = 0$$

$$M_x = R_A \cdot x - q \cdot x \cdot \frac{1}{2} \cdot x$$

$$M_x = \frac{1}{2} \cdot q \cdot l \cdot x - \frac{1}{2} \cdot q \cdot x^2$$

$$x = \frac{1}{2} \cdot l \text{ maka } M_x = M_{maks}$$

$$M_{max} = \frac{1}{2} \cdot q \cdot l \cdot \frac{1}{2} \cdot l - \frac{1}{2} \cdot q \left(\frac{1}{2} \cdot l\right)^2$$

$$M_{max} = \frac{1}{8} \cdot q \cdot l^2$$

**3. Menghitung BMD (*Bending Momen diagram*)**

Dengan Persamaan Diferensial di dapatkan hasil sebagai berikut:

$$D_x = - \int q x \cdot dx \rightarrow D_x = - q x + C_1$$

$$x = 0 \rightarrow D_x = D_A = \frac{1}{2} \cdot q \cdot l$$

Jadi,  $C_1 = \frac{1}{2} \cdot q \cdot l$ ; Sehingga  $D_x = - q \cdot x + \frac{1}{2} \cdot q \cdot l$

$$D_x = \frac{1}{2} \cdot q \cdot l - q \cdot x \rightarrow D_x = q \cdot \left(\frac{1}{2} \cdot l - x\right)$$

$$M_x = \int D_x \cdot dx \rightarrow M_x = \int q \cdot \left(\frac{1}{2} \cdot l - x\right) \cdot dx \rightarrow M_x = q \cdot \left[\int \frac{1}{2} \cdot l \cdot dx - \int x \cdot dx\right]$$

$$M_x = q \cdot \left[\frac{1}{2} \cdot l \cdot x - \frac{1}{2} \cdot x^2\right] + C_2 \rightarrow M_x = 0; \text{ Maka } H \text{ arg a } C_2 = 0$$

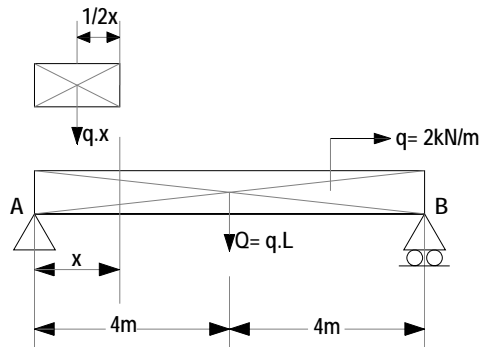
$$M_{maks} = \text{Jika } \frac{dM_x}{d_x} = D_x = 0 \rightarrow x = \frac{1}{2} \cdot l$$

$$M_{maks} = q \cdot \left[\frac{1}{2} \cdot l \cdot \frac{1}{2} \cdot l - \frac{1}{2} \cdot \left(\frac{1}{2} \cdot l\right)^2\right] \rightarrow M_{maks} = \frac{1}{8} \cdot q \cdot l^2$$



**B. Contoh soal Balok sederhana**

**1. Balok sederhana dengan Beban merata**



Gambar 52. Beban merata pada tumpuan sederhana

**a. Mencari Reaksi Tumpuan**

$$\Sigma M_B = 0$$

$$A_v \cdot L - (q \cdot L) \cdot 0,5 L = 0$$

$$A_v = 0,5 \cdot q \cdot L$$

$$A_v = 0,5 \cdot 2 \cdot 8 = 8 \text{ kN}$$

Karena Simetri, maka  $B_v = A_v = 8 \text{ kN}$

**b. Mencari Persamaan *Shear Forces Diagram* (SFD)**

Tinjau pada titik X dg Jarak -x- m dari A

$$D_x = A_v - q \cdot x$$

Untuk  $x = 0$ ;  $D_v = D_A = A_v - 0 = 8 \text{ kN}$

Untuk  $x = 4$ ;  $D_v = D_C = A_v - q \cdot 4 = 8 - 2 \cdot 4 = 0 \text{ kN}$

Untuk  $x = 8$ ;  $D_v = D_B = A_v - q \cdot 8 = 8 - 2 \cdot 8 = -8 \text{ kN}$

**c. Mencari Persamaan Garis Bending Momen Diagram (BMD)**

$$M_x = \frac{1}{2} \cdot q \cdot L \cdot x - \frac{1}{2} \cdot q \cdot x^2$$

$x = 0$ ;  $M_x = M_A = 0$

$x = 4$ ;  $M_x = M_C = \frac{1}{2} \cdot 2 \cdot 8 \cdot 4 - \frac{1}{2} \cdot 2 \cdot 4^2 = 32 - 16 = 16 \text{ kNm}$

$x = 8$ ;  $M_x = M_B = \frac{1}{2} \cdot 2 \cdot 8 \cdot 8 - \frac{1}{2} \cdot 2 \cdot 8^2 = 0 \text{ kNm}$

Hubungan BMD dan SFD

$M_x = A_v \cdot x - \frac{1}{2} \cdot q \cdot x^2$  didiferensialkan :

$$\frac{dM_x}{d_x} = A_v - q \cdot x \rightarrow \frac{dM_x}{d_x} = D_x$$

### Momen Ekstrem

Terjadi Pada  $Dx = 0$  atau  $\frac{dM_x}{dx} = 0$

$$\text{Jadi, } 0 = A_v - q \cdot x \rightarrow x = \frac{A_v}{q} = \frac{1/2 \cdot q \cdot L}{q} = 1/2 \cdot L$$

Jadi, momen maksimum terjadi pada jarak  $1/2L$  dari A

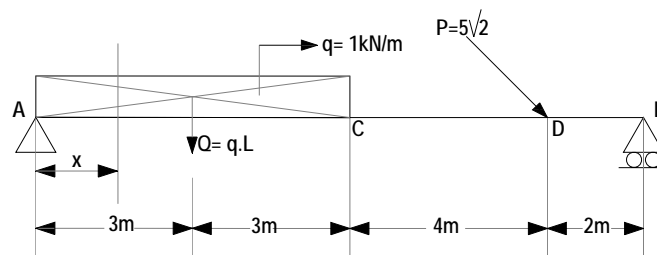
### Momen Maksimum

$$M_{\text{maks}} = A_v \cdot x - \frac{1}{2} \cdot q \cdot L \cdot \frac{1}{2} \cdot L - \frac{1}{2} \cdot q \cdot (1/2L)^2$$

$$M_{\text{maks}} = 1/8 \cdot q \cdot L^2$$

$$M_{\text{maks}} = \frac{q \cdot L^2}{8} = \frac{2 \cdot 8^2}{8} = 16 \text{ kNm}$$

## 2. Konstruksi balok sederhana dengan beban kombinasi



Gambar 53. Konstruksi balok sederhana dengan beban kombinasi

### a. Reaksi Tumpuan

$$\Sigma M_B = 0;$$

$$A_v \cdot L - q \cdot a(1/2 \cdot a + b + c) - P \cdot \sin \alpha \cdot c = 0$$

$$A_v \cdot 12 - 1.6 (1/2 \cdot 6 + 4 + 2) - 5\sqrt{2} \cdot 1/2 \cdot \sqrt{2} \cdot 2 = 0$$

$$A_v = \frac{6 \cdot 9 + 5 \cdot 2}{12} = \frac{54 + 10}{12} = 5,33 \text{ kN}$$

$$\Sigma G_V = 0;$$

$$A_v + B_v - q \cdot a - P \cdot \sin \alpha = 0$$

$$5,33 + B_v - 1.6 - 5\sqrt{2} \cdot \frac{1}{2} \cdot \sqrt{2} = 0$$

$$B_v = 6 + 5 - 5,33 = 5,67 \text{ kN}$$

$$\Sigma G_H = 0;$$

$$A_H + P \cdot \cos \alpha = 0$$

**b. Shear Force Diagram (SFD)**

$$D_A = A_V = 5,33 \text{ kN}$$

$$D_C = A_V - q \cdot a = 5,33 - 1,6 = -0,67 \text{ kN}$$

$$D_{D\text{kiri}} = D_C = -0,67 \text{ kN}$$

$$D_{D\text{kanan}} = A_V - q \cdot a - P \cdot \sin \alpha = 5,33 - 6 - 5 = -5,67 \text{ kN}$$

**c. Bending Momen Diagram (BMD)**

$$M_A = 0, M_B = 0$$

$$M_C = A_V \cdot a - q \cdot a \cdot \frac{1}{2} \cdot a = 5,33 \cdot 6 - 1 \cdot 6 \cdot \frac{1}{2} \cdot 6 = 31,98 - 18 = 14 \text{ kNm}$$

$$M_D = B_V \cdot C = 5,67 \cdot 2 = 11,34 \text{ kNm}$$

**Momen Ekstrem Pada D = 0**

$$D_x = A_V - q \cdot x$$

$$0 = 5,33 - 1 \cdot x \text{-----} x = 5,33 \text{m}$$

$$M_{\text{maks}} = A_V \cdot x - q \cdot x \cdot \frac{1}{2} \cdot x$$

$$M_{\text{maks}} = 5,33 \cdot 5,33 - 1 \cdot 5,33 \cdot \frac{1}{2} \cdot 5,33 = 14,20 \text{ kNm}$$

**PUSTAKA**

Darma, Edifrizal, 2011. Prinsip dasar Statika I. Pusat Pengembangan Bahan Ajar, Universitas Mercu Buana.

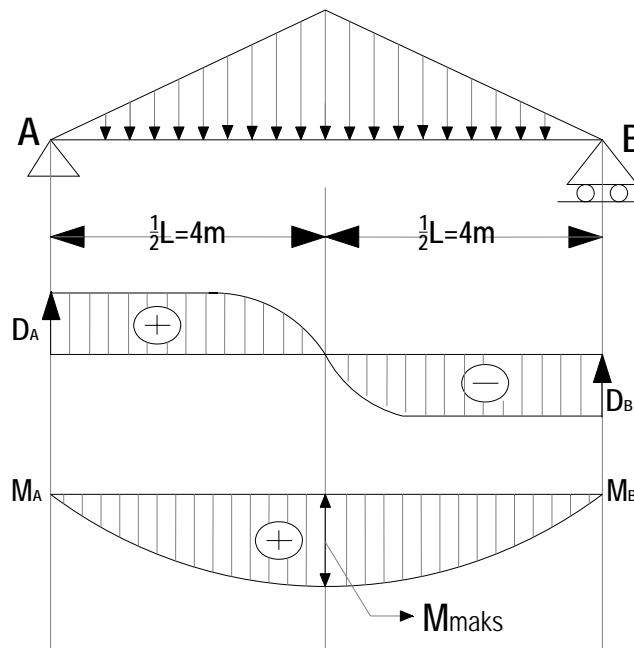
Suparman, 1985. Mekanika Teknik I. Jurusan Pendidikan Teknik Bangunan, Fakultas Teknik, Universitas Negeri Yogyakarta.

Sardjono, 1985. Himpunan soal-soal dan penyelesaian, Mekanika Teknik Statis Tertentu: Surabaya.

Wesli. 2010. Mekanika Rekayasa. Graha Ilmu: Yogyakarta.

**A. Konstruksi Balok dengan beban segitiga simetri**

Besarnya beban pada setiap tempat dinyatakan dalam satuan kN/m. Berikut disajikan tata cara perhitungan konstruksi balok dengan beban segitiga simetri.



Gambar 54. Konstruksi balok sederhana dengan beban segitiga

**1. Menghitung Reaksi Perletakan**

$$\Sigma MB = 0$$

$$A_v \cdot L - \frac{1}{2} L \cdot q \cdot \frac{1}{2} L = 0$$

$$A_v \cdot L - \frac{1}{4} q \cdot L^2 = 0$$

$$A_v = \frac{1}{4} q \cdot L$$

Karena bebannya simetris, maka:

$$A_v = B_v = \frac{1}{4} q \cdot L$$

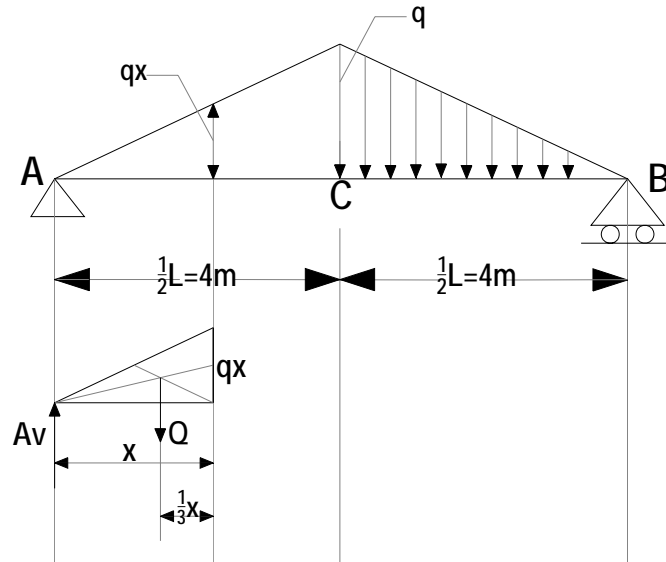
Untuk  $q = 2 \text{ kNm}$ ; dan  $L = 8$ ; diperoleh:

$$A_v = B_v = \frac{1}{4} \cdot 2 \cdot 8$$

$$A_v = 4 \text{ kN (ke atas)}$$

## 2. Menghitung Momen

Tinjau titik X sejauh dari A, dimana  $0 \leq x \leq \frac{1}{2} L$  (setelah jarak  $\frac{1}{2} L$  garis beban berubah)



Gambar 55. Konstruksi balok sederhana dengan beban segitiga

Mencari beban yang ditinjau dari titik (X).

$$\frac{q_x}{x} = \frac{q}{\frac{1}{2}L}$$

$$q_x = \frac{2 \cdot q_x}{L}$$

$Q_x$  = Luas segitiga sepanjang x

$$Q_x = \frac{1}{2}x \cdot q_x = \frac{1}{2}x \cdot \frac{2qx}{L}$$

$$Q_x = \frac{qx^2}{L}$$

Menghitung Momen

$$M_x = A_v \cdot x - Q_x \cdot \frac{x}{3}$$

$$M_x = \frac{1}{4}q \cdot L \cdot x - \frac{q \cdot x^3}{L} \cdot \frac{x}{3}$$

$$M_x = \frac{1}{4}qLx - \frac{qx^3}{3L} \text{ Merupakan Garis Lengkung}$$

**Momen Ekstrem terjadi pada  $dM_x/dx = 0$**

$$\frac{dM_x}{dx} = \frac{1}{4}qL - \frac{3 \cdot q \cdot x^2}{3L}$$

$$0 = \frac{1}{4} \cdot q \cdot L - \frac{3 \cdot q \cdot x^2}{3L} \rightarrow \frac{q \cdot x^2}{L} = \frac{1}{4}qL \rightarrow x^2 = \frac{1}{4}L^2 \rightarrow x = \pm \frac{1}{2}L$$

**Jadi, Momen Ekstrem terjadi pada  $\frac{1}{2}L$  yg besarnya:**

Menghitung BMD

$$M_{maks} = \frac{1}{4}q \cdot L \cdot x - \frac{qx^3}{3L} = \frac{1}{4}qL \cdot \left(\frac{1}{2}L\right) - \frac{q\left(\frac{1}{2}L\right)^3}{3L}$$

$$M_{maks} = \frac{qL^2}{8} - \frac{qL^2}{24}$$

$$M_{maks} = \frac{q \cdot L^2}{12} \text{ untuk soal di atas, maka : } M_{maks} = \frac{q \cdot L^2}{12} = \frac{2 \cdot 8^2}{12} = 10,67 \text{ kNm}$$

**Menghitung SFD**

$$D_x = A_v - qx$$

$$D_x = \frac{1}{4}qL - \frac{q \cdot x^2}{L}$$

$$\text{Untuk } x = 0; \rightarrow D_x = D_A = \frac{1}{4}qL = \frac{1}{4} \cdot 2 \cdot 8 = 4 \text{ kN}$$

$$\text{Untuk } x = \frac{1}{2}L \rightarrow D_x = D_C = \frac{1}{4}qL - \frac{qx^2}{L}$$

$$D_x = D_C = \frac{1}{4} \cdot 2 \cdot 8 - \frac{2 \cdot 4^2}{8} = 0$$

Pada struktur beton, pelimpahan beban pelat sering diperhitungkan dengan beban segitiga. Beban yang berbentuk segitiga ini ditransfer menjadi beban merata di seluruh bentangnya (beban segitiga menjadi beban merata). Dasarnya adalah momen maksimum yang terjadi pada balok ditengah-tengah bentang. Momen maksimum pada segitiga sebesar  $1/12 \cdot q \cdot L^2$  sedangkan momen pada beban merata adalah  $1/8 \cdot q \cdot L^2$ . sehingga diperoleh persamaan:

$$\frac{qL^2}{12} = \frac{q_m \cdot L^2}{8} \rightarrow q_m = \frac{2q}{3} \rightarrow q_m = \text{beban merata}; \quad q = \text{beban segitiga}$$

Apakah dengan  $q_m$  momennya lebih aman? Yang jelas, pada momen ekstremnya sama, baik dengan beban merata/segitiga. Kita akan mencoba

pada jarak  $1/4L$ . yaitu jarak tengah-tengah antara momen = 0 dan momen maksimum  $M_x$  dengan beban segitiga:

$$M_x = \frac{1}{4} \cdot q \cdot L \cdot x - \frac{q \cdot x^3}{3 \cdot L}$$

untuk  $x = 1/4 \cdot L$

$$M_x = \frac{1}{4} \cdot q \cdot L \cdot \frac{1}{4} \cdot L - \frac{q \cdot \left(\frac{1}{2} \cdot L^3\right)}{3 \cdot L} = \frac{q \cdot L^2}{16} - \frac{q \cdot L^2}{192}$$

$$M_x = \frac{11 \cdot q \cdot L^2}{192}$$

$M_x$  dengan beban merata (qm)

$$M_x = A \cdot v \cdot x - \frac{1}{2} \cdot q_m \cdot x^2$$

**Untuk  $x = 1/4 \cdot L$**

$$M_x = \frac{1}{2} q_m \cdot L \cdot \frac{1}{4} q_m \cdot (1/4 \cdot L)^2$$

$$M_x = \frac{q \cdot L^2}{8} - \frac{q_m \cdot L^2}{32} \rightarrow q_m = \frac{2q}{3}$$

$$M_x = \frac{3 \cdot q_m \cdot L^2}{32} = \frac{3}{32} \cdot \frac{2}{3} \cdot q \cdot L^2$$

$$M_x = \frac{q \cdot L^2}{16}$$

Selisih besarnya momen antara beban merata dan beban segitiga adalah sebesar:

$$\frac{q \cdot L^2}{16} - \frac{11 \cdot q \cdot L^2}{192} = \frac{q \cdot L^2}{192}$$

Berdasarkan perhitungan di atas, ternyata momen pada beban qm lebih besar dari momen beban segitiga. Jadi, transfer beban segitiga menjadi beban merata akan lebih **AMAN**.

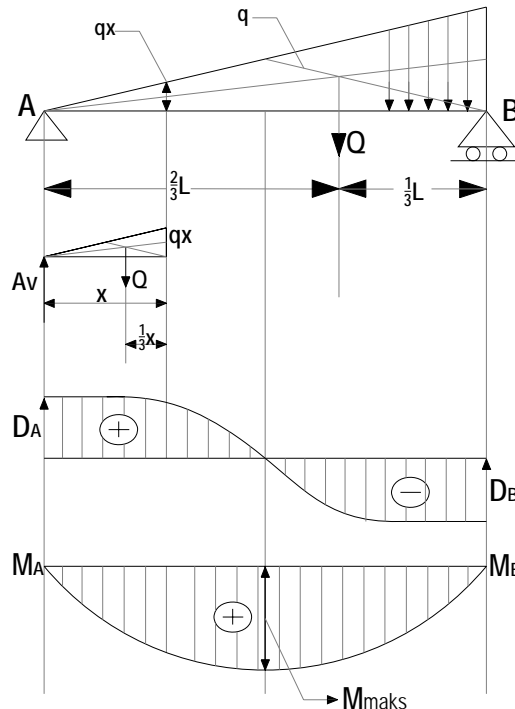
### 3. Aplikasi kasus dilapangan untuk beban merata segitiga



Gambar 56. Aplikasi pelat lantai pada bangunan rumah tinggal  
(Sumber: [hollow6.jpg](#))

#### B. Konstruksi Balok Sederhana dengan beban segitiga sehadap

Pada pembahasan beban segitiga sehadap, prinsip dasar pengerjaannya sama dengan beban merata. Berikut disajikan tata cara perhitungan beban segitiga sehadap pada balok sederhana.



Gambar 57. Gambar beban segitiga simetri dengan tumpuan sederhana



**1. Menghitung Reaksi Perletakan**

$$\Sigma M_B = 0$$

$$A_v \cdot L - Q \cdot \frac{L}{3} = 0$$

$$A_v = \frac{q}{3}$$

$$A_v = \frac{\frac{1}{2} \cdot q \cdot L}{3} = \frac{qL}{6}$$

$$\Sigma M_A = 0$$

$$-B_v \cdot L + Q \cdot (2L/3) = 0$$

$$B_v = \frac{2 \cdot Q}{3} = \frac{2 \cdot \frac{1}{2} \cdot qL}{3}$$

$$B_v = \frac{qL}{3}$$

**2. Mencari Bending momen diagram (BMD) ----- Tinjau titik X sejauh x dari titik A**

$$\frac{q_x}{q} = \frac{x}{L} \rightarrow q_x = \frac{q \cdot x}{L}$$

Beban Segitiga sepanjang x adalah:

$$Qx = \frac{1}{2} qx \cdot x$$

$$M_x = A_v \cdot x - Qx \cdot \frac{x}{3}$$

$$M_x = \frac{qLx}{6} - \frac{1}{2} qx \cdot x \cdot \frac{x}{3}$$

$$M_x = \frac{qLx}{6} - \frac{1}{2} \frac{qx}{L} \cdot x \cdot \frac{x}{3}$$

$$M_x = \frac{qLx}{6} - \frac{qx^3}{6L}$$

**Letak Momen Ekstrem,**

Momen Ekstrem terjadi pada Dx=0 atau dMx/dx =0

$$\frac{dM_x}{dx} = \frac{qL}{6} - \frac{3qx^2}{6L}$$

$$0 = \frac{qL}{6} - \frac{3qx^2}{6L}$$

$$\frac{qx^2}{2L} = \frac{qL}{6} \rightarrow x^2 = \frac{L^2}{3} \rightarrow x = \frac{L\sqrt{3}}{3} \longrightarrow \text{Letak Momen Maksimum}$$

**Besarnya Momen Maksimum**

$$M_{maks} = \frac{qLx}{6} - \frac{qLx^3}{6} = \frac{qL}{6} \cdot \frac{L\sqrt{3}}{3} - \frac{q}{6L} \cdot \frac{(L\sqrt{3})^3}{(3)^3}$$

$$M_{maks} = \frac{qL^2 \sqrt{3}}{27} ;$$

$$M_{maks} = 0,06415 \cdot q \cdot L^2$$

**3. Menghitung Shear Forces Diagram (SFD)**

Tinjau titik X sejauh x dari titik A, dengan  $0 \leq x \leq L$

$$D_x = A_v - Q_x = \frac{qL}{6} - \frac{1}{2} q_x \cdot x \rightarrow q_x = \frac{qx}{L}$$

$$D_x = \frac{qL}{6} - \frac{1}{2} \frac{q \cdot x}{L} \cdot x$$

$$D_x = \frac{qL}{6} - \frac{qx^2}{2L} \rightarrow \text{Merupakan garis lengkung parabolik}$$

$$\text{untuk } x=0; \rightarrow D_x = \frac{qL}{6} - 0 = \frac{qL}{6} = D_A$$

$$\text{untuk } x=L; \rightarrow D_x = \frac{qL}{6} - \frac{qL^2}{2L} = \frac{qL}{6} - \frac{qL}{2} \rightarrow D_x = \frac{qL}{6} = D_B$$

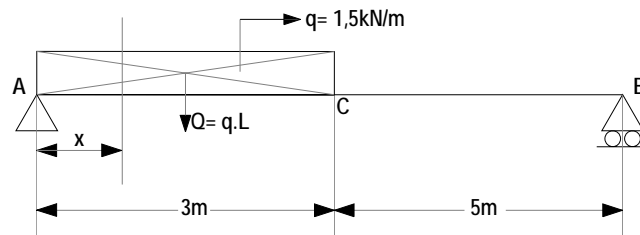
$$\text{Diatas telah dicari } D_x = 0 \text{ pada jarak; } x = \frac{L \cdot \sqrt{3}}{3}$$

Dengan tiga buah titik yang dilewati garis SFD tersebut, dapat dilukis garis SFD sepanjang balok AB yang berupa garis lengkung parabol.

**C. Home Work Beban merata dan beban kombinasi**

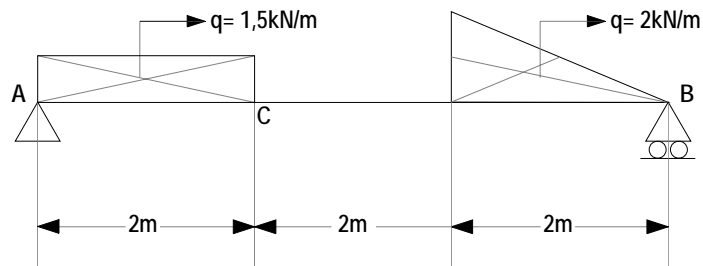
Hitunglah besarnya Reaksi perletakan (RA & RB), Shear forces diagram (SFD), Bending moment diagram (BMD) dari struktur balok sederhana (tumpuan sendi rol) di bawah ini.

1. Konstruksi balok sederhana dengan beban merata



Gambar 58. Konstruksi balok sederhana dengan beban merata

2. Konstruksi balok sederhana dengan beban kombinasi



Gambar 59. Konstruksi balok sederhana dengan beban kombinasi (merata dan segitiga)

**PUSTAKA**

Darma, Edifrizal, 2011. Prinsip dasar Statika I. Pusat Pengembangan Bahan Ajar, Universitas Mercu Buana.

Suparman, 1985. Mekanika Teknik I. Jurusan Pendidikan Teknik Bangunan, Fakultas Teknik, Universitas Negeri Yogyakarta.

Sardjono, 1985. Himpunan soal-soal dan penyelesaian, Mekanika Teknik Statis Tertentu: Surabaya.

Wesli. 2010. Mekanika Rekayasa. Graha Ilmu: Yogyakarta.



Nama Mata Kuliah : Mekanika Teknik I  
 Hari/Tanggal : 22 Oktober 2012  
 Waktu : 90 Menit  
 Sifat Ujian : Open Book  
 Dosen Penguji : Faqih Ma'arif, M.Eng.

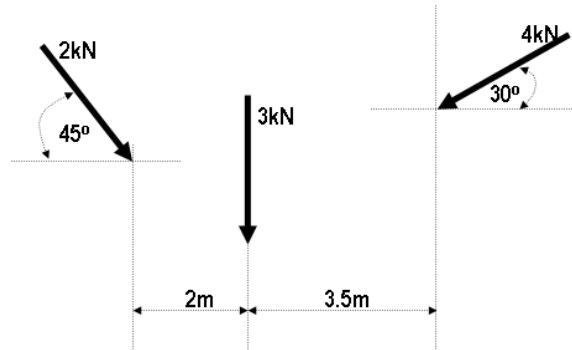
**Kerjakanlah Soal di bawah ini dengan baik dan benar!**

1. Jelaskan apa yang dimaksud dengan:

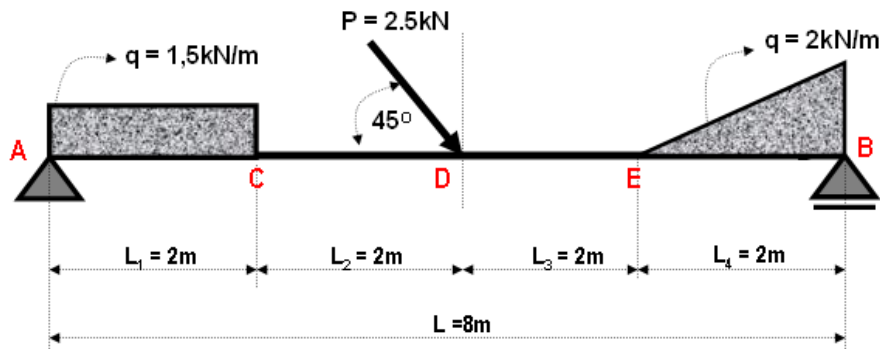
- a. Tumpuan sendi
- b. Tumpuan Rol
- c. Tumpuan Jepit
- d. Tumpuan Bebas

Deskripsikan contoh masing-masing tumpuan tersebut di lapangan. **(Bobot 10)**

2. Diketahui soal seperti gambar di bawah ini. Hitunglah besarnya reaksi tumpuan, BMD, SFD, NFD dengan cara grafis dan analitis. **(Bobot 20)**



3. Hitunglah besarnya BMD, SFD, NFD dari gambar struktur di bawah ini. **(Bobot 70)**



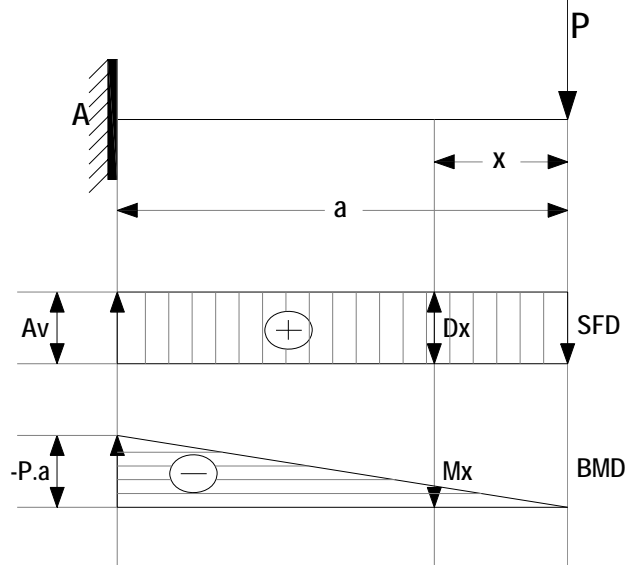
**Selamat Mengerjakan**

## Konstruksi Balok Beroverstek

### A. Konstruksi Balok Beroverstek

#### 1. Konstruksi balok terjepit satu tumpuan dengan beban terpusat.

Berikut disajikan tata cara perhitungan konstruksi balok beroverstek tipe terjepit satu tumpuan dengan beban terpusat seperti Gambar 60 di bawah ini.



Gambar 60. Konstruksi balok beroverstek dengan beban terpusat

#### a. Menghitung reaksi tumpuan

$$\Sigma GV = 0$$

$$A_v - P = 0$$

$$A_v = P$$

#### b. Persamaan *shear forces diagram* (SFD)

Tinjauan titik X sejauh  $x$  dari B

$$Dx = P \rightarrow \text{Merupakan garis lurus sejajar sumbu balok}$$

#### c. Persamaan *bending moment diagram* (BMD)

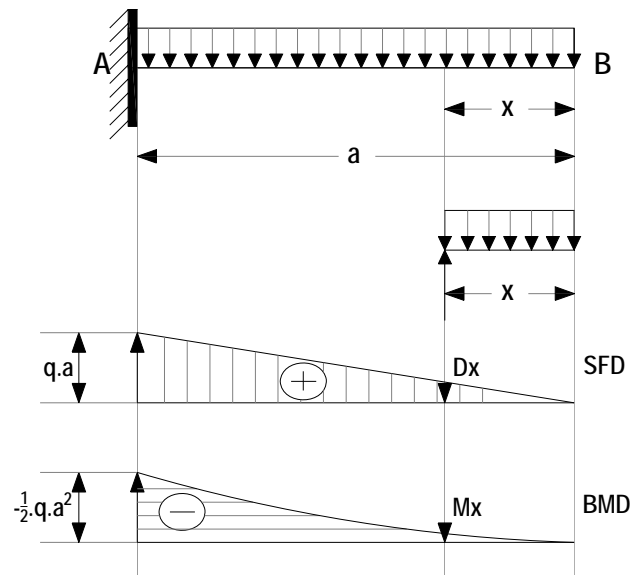
$$M_x = -P \cdot x \rightarrow \text{Merupakan garis lurus miring}$$

$$\text{Untuk } x = a; M_x = M_A = -P \cdot a$$

$$\text{Untuk } x = 0; M_x = M_B = 0$$

**2. Konstruksi balok terjepit satu tumpuan dengan beban terpusat.**

Berikut disajikan tata cara perhitungan konstruksi balok beroverstek tipe terjepit satu tumpuan dengan beban merata seperti Gambar 61 di bawah ini.



Gambar 61. Konstruksi balok beroverstek dengan beban merata

**a. Menghitung reaksi tumpuan**

$$\Sigma GV = 0$$

$$A_v - q \cdot a = 0$$

$$A_v = q \cdot a$$

**b. Persamaan shear forces diagram (SFD)**

Tinjau titik X sejauh x dari B

$$D = q \cdot x$$

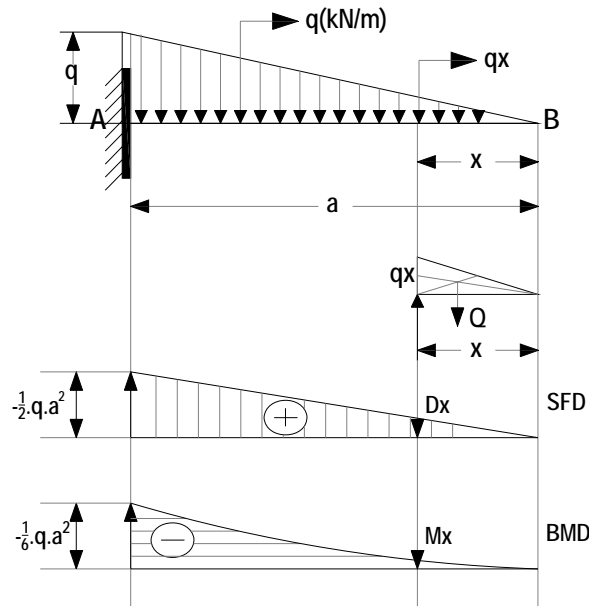
**c. Persamaan bending moment diagram (BMD)**

$$M_x = -q \cdot x \cdot \frac{1}{2} x = -\frac{1}{2} q x^2$$

Persamaan Garis Lengkung Parabol

**3. Konstruksi balok terjepit satu tumpuan dengan beban segitiga.**

Berikut disajikan tata cara perhitungan konstruksi balok beroverstek tipe terjepit satu tumpuan dengan beban segitiga seperti Gambar 62 di bawah ini.



Gambar 62. Konstruksi balok beroverstek dengan beban segitiga

**a. Menghitung reaksi tumpuan**

Potongan X sejauh x dari B

$$\frac{qx}{q} = \frac{x}{a} \rightarrow qx = \frac{q \cdot x}{a}$$

$Q_x$  = luas beban segitiga sepanjang x

$$Q_x = \frac{1}{2} x \cdot qx = \frac{1}{2} x \cdot \frac{qx}{a}$$

$$Q_x = \frac{1}{2} \cdot \frac{q \cdot x^2}{a}$$

Mencari Reaksi

$$\Sigma GV = 0$$

$$A_v - Q = 0$$

$$A_v = \frac{1}{2} \cdot q \cdot a$$

**b. Persamaan shear forces diagram (SFD)**

$$D_x = +Q_x \longrightarrow D_x = \frac{qx^2}{2a} \text{ Merupakan Garis Lengkung Parabola}$$

**c. Persamaan bending moment diagram (BMD)**

$$M_x = -Q_x \cdot \frac{q}{3} = -\frac{1}{2} \frac{q \cdot x^2}{a} \cdot \frac{x}{3}$$

$$M_x = -\frac{qx^3}{6a}$$

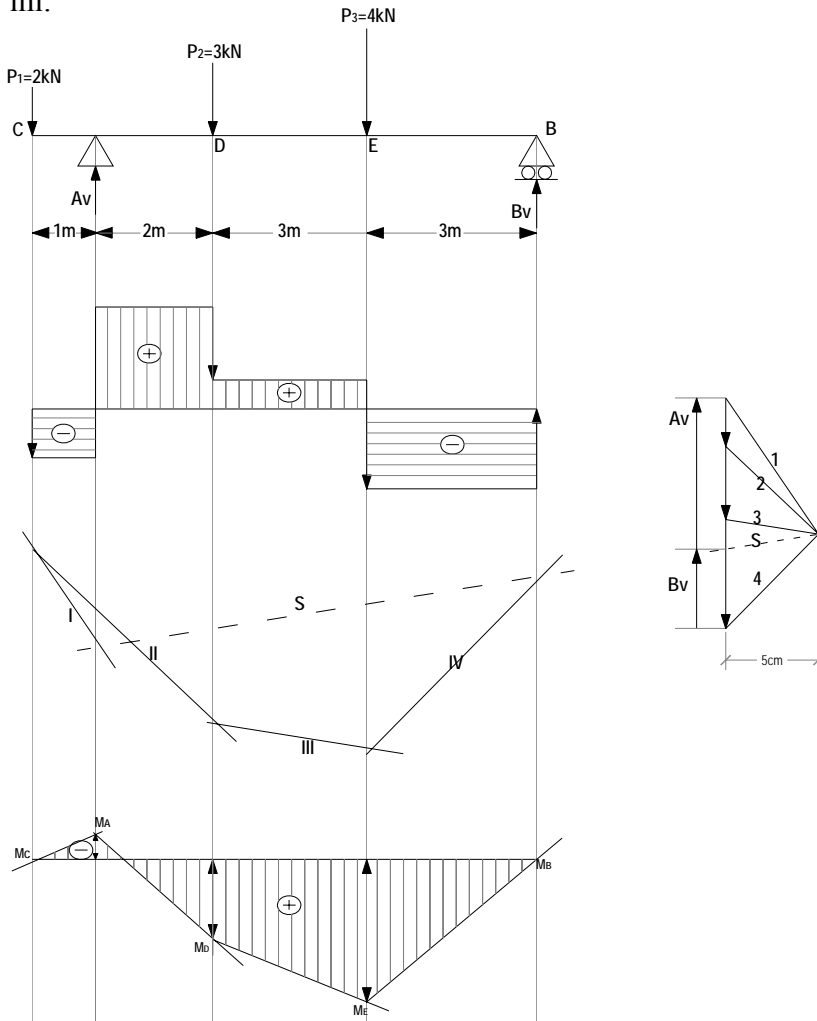
**Merupakan Garis Lengkung Pangkat tiga**

Untuk  $x = 0$ ;  $M_x = M_B = 0$

Untuk  $x = a$ ;  $M_x = M_A = -(q \cdot a^3)/6a = -(qa^2/6)$

**4. Konstruksi Balok Overstek tunggal dengan beban terpusat**

Berikut disajikan tata cara perhitungan konstruksi balok beroverstek tipe terjepit satu tumpuan dengan beban segitiga seperti Gambar 63 di bawah ini.



Gambar 63. Konstruksi balok overstek dengan beban terpusat



### Tata cara penggambaran dengan metode Grafis

- Tentukan skala gaya dan jarak, serta perpanjang garis kerja  $P_1$ ,  $P_2$ ,  $P_3$ ,  $A_v$  dan  $B_v$ .
- Lukislah gaya  $P_1$ ,  $P_2$  dan  $P_3$ , tentukan jarak kutub. Pilihlah jarak kutub sedemikian rupa sehingga poligon batang tidak terlalu tumpul atau terlalu tajam. (misalkan dalam hal ini dipilih jarak kutub = 5cm).
- Lukislah garis 1,2,3 dan 4 melalui titik kutub 0.
- Lukislah garis I, II, III, dan IV pada poligon batang, yang masing-masing sejajar garis 1,2,3 dan 4.
- Hubungkan titik potong garis I- $A_v$  dengan titik potong garis IV- $B_v$ , berilah tanda pada garis tersebut dengan notasi S.
- Lukislah garis  $\bar{S}$  pada lukisan kutub, yang sejajar garis S.

### CARA GRAFIS

#### a. Mencari besarnya Reaksi tumpuan

$$A_v = 6 \text{ (dikalikan dengan skala gy)}$$

$$A_v = 6.1 = 6\text{kN}$$

$$B_v = 3\text{cm (dikalikan dg skala gy)}$$

$$B_v = 3.1 = 3\text{kN}$$

#### b. Besarnya bending moment diagram (BMD)

$$M_A = H.YA \cdot \text{Skala gy} \cdot \text{Skala Jarak}$$

$$M_A = 5.(-0,4). 1.1 = -2\text{kNm}$$

$$M_D = H. Y. 1. 1$$

$$= 5. 1,2. 1. 1 = 6\text{kNm}$$

$$M_E = H. Y. 1. 1$$

$$= 5. 1,8. 1. 1 = 9\text{kNm}$$

### CARA ANALITIS

#### a. Mencari besarnya reaksi tumpuan

$$\Sigma M_A = 0$$

$$-B_v. 8 + P_3.5 + P_2. 2 - P_1.1 = 0$$

$$B_v = 24 / 8 = 3 \text{ kN (Ke atas)}$$

$$\Sigma G_V = 0$$

Oleh:

Faqih Ma'arif, M.Eng.

$$AV + BV - P1 - P2 - P3 = 0$$

$$AV = 6 \text{ kN (Ke atas)}$$

**b. Menghitung bending moment diagram (BMD)**


$$M_A = -P1 \cdot 1 = -2 \cdot 1 = -2 \text{ kNm}$$

$$M_D = A_V \cdot 2 - P1 \cdot 3 = 6 \cdot 2 - 2 \cdot 3 = 6 \text{ kNm}$$

$$M_E = B_V \cdot 3 = 3 \cdot 3 = 9 \text{ kNm (menghitung moment dari kanan)}$$

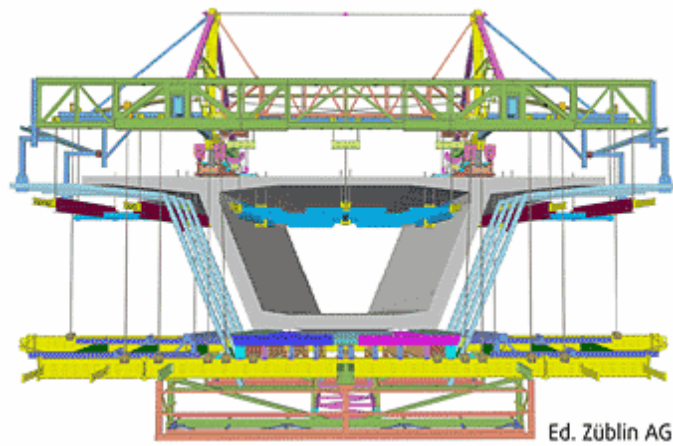
**B. Aplikasi Konstruksi Balok beroverstek di lapangan**

Persoalan balok overstek dilapangan dapat dijumpai pada konstruksi balok kantilever (cantilever beam). Dalam perkembangannya, tata cara perhitungan lebih mendetail mengenai analisis tegangan dan regangan pada struktur tersebut, dapat dilakukan dengan menggunakan software finite elemen, salah satu contohnya adalah ADINA.




Gambar 64. *Meshing element* pada konstruksi balok beroverstek dengan menggunakan program Analisis Numerik ADINA (Analysis Dynamic Non-linear) (Sumber: [www.adina.co.id](http://www.adina.co.id))

Sedangkan pada aplikasi struktur jembatan, seperti pada Gambar 65 di bawah ini, merupakan salah satu metode menggunakan *balance cantilever*, dimana pelaksanaan pekerjaan struktur dilapangan dilakukan pada kedua sisi pilar jembatan dan hasil akhirnya ditemukan pada salah satu titik di tengah bentang.



Gambar 65. Pelaksanaan *balance traveler* pekerjaan jembatan  
(Sumber: [gratec.com](http://gratec.com) **Cantilever** carriage for Saadiyat **Bridge** Abu Dhabi, United Arab Emirates)

Selanjutnya untuk pelaksanaan metode *balance cantilever* di sajikan pada Gambar 66 di bawah ini.



Gambar 66. Pelaksanaan metode konstruksi *balance cantilever* pada struktur jembatan

## PUSTAKA

Darma, Edifrizal, 2011. Prinsip dasar Statika I. Pusat Pengembangan Bahan Ajar, Universitas Mercu Buana.

Suparman, 1985. Mekanika Teknik I. Jurusan Pendidikan Teknik Bangunan, Fakultas Teknik, Universitas Negeri Yogyakarta.

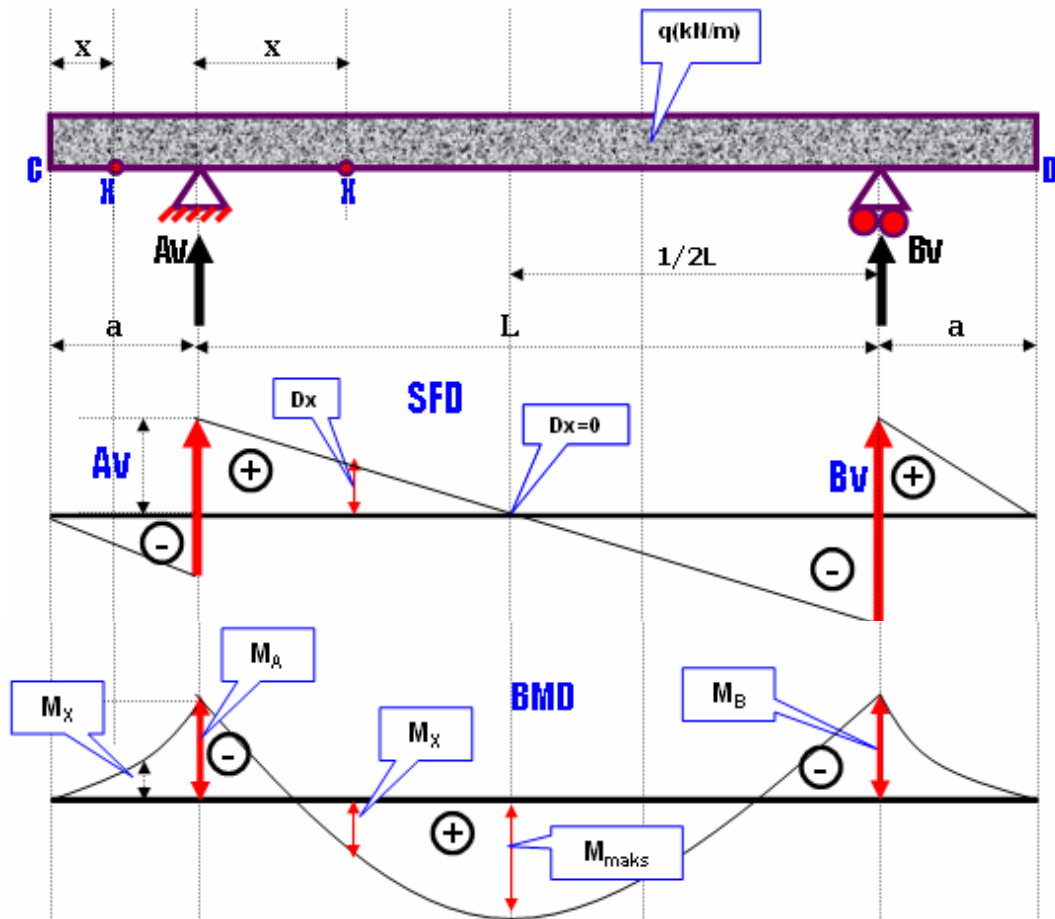
Sardjono, 1985. Himpunan soal-soal dan penyelesaian, Mekanika Teknik Statis Tertentu: Surabaya.

Wesli. 2010. Mekanika Rekayasa. Graha Ilmu: Yogyakarta.

# 09

## K.B.O. dengan Variasi Beban

### A. Konstruksi balok overstek dengan beban merata



Gambar 67. Konstruksi balok beroverstek

#### 1. Mencari reaksi perletakan

$$\sum MB = 0;$$

$$Av \cdot L - q \cdot (a+L+a) \cdot \frac{1}{2} \cdot L = 0$$

$$Av = \frac{1}{2} \cdot q \cdot (L+2a)$$

Konstruksi maupun bebannya simetri, maka  $Bv = Av$

## 2. Mencari bending moment diagram (BMD)

### Moment antara CA

Ditinjau titik  $X^1$  sejauh  $x^1$  dari titik C;  $0 \leq x^1 \leq a$

$$M_{X^1} = -qx^1 \cdot \frac{1}{2}x^1 = -1/2 \cdot q \cdot (x^1)^2$$

$$\text{Untuk } x^1 = a; \quad M_{X^1} = M_A = -1/2 \cdot q \cdot a^2$$

Karena simetri, maka momen antara BD sama dengan momen antara CA, dengan  $M_A = M_B = -1/2 \cdot q \cdot a^2$

Momen antara AB,

Ditinjau titik X sejauh x dari titik A, dengan  $0 \leq x \leq L$

$$M_A = A_v \cdot x - qx \cdot \frac{1}{2}x - qa \cdot (1/2a+x)$$

### Mencari reaksi perletakan

Momen ekstrem terjadi pada  $Dx = 0$ , atau pada  $\frac{dM_x}{dx} = 0$

$$M_x = A_v \cdot x - qx \cdot \frac{1}{2}x - qa \cdot (1/2a+x)$$

$$M_x = A_v \cdot x - \frac{1}{2} \cdot qx^2 - \frac{1}{2}qa - qa \cdot x$$

$$\frac{dM_x}{dx} = A_v - qx - qa$$

$$0 = A_v - qx - qa \rightarrow qx = A_v - qa$$

$$qx = \frac{1}{2}q(L+2a) - qa$$

$$= \frac{1}{2}qL + qa - qa$$

$$x = \frac{1}{2}L$$

Jadi, letak momen maksimum pada jarak  $\frac{1}{2}L$  dari titik A.

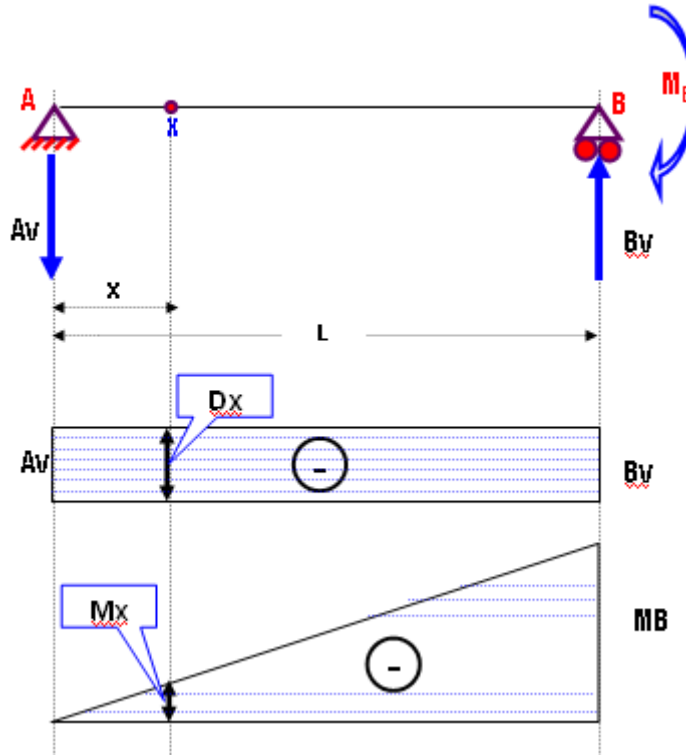
$$M_{\text{maks}} = A_v \cdot x - \frac{1}{2}q \cdot x^2 - \frac{1}{2} \cdot qa^2 - qax$$

$$= \frac{1}{2}q(L+2a) \cdot \frac{1}{2}L - \frac{1}{2}q \left(\frac{1}{2}L\right)^2 - \frac{1}{2}qa^2 - qa \cdot \frac{1}{2}L$$

$$= \frac{1}{4}L^2 + \frac{1}{2}qLa - \frac{1}{2} - \frac{1}{4}qL^2 - \frac{1}{2}qa^2 - \frac{1}{2}qaL$$

$$M_{\text{maks}} = \left(\frac{1}{8} \cdot qL^2\right) - \frac{1}{2}qa$$

**B. Konstruksi Balok Overstek Dengan Momen Negatif Dikedua Ujungnya**



Gambar 68. Konstruksi balok sederhana dengan beban momen negatif pada salah satu ujungnya

**REAKSI**

$$\Sigma M_B = 0$$

$$A_v \cdot L + M_B = 0$$

$$A_v = -M_B / L \text{ (ke bawah)}$$

$$\Sigma M_A = 0$$

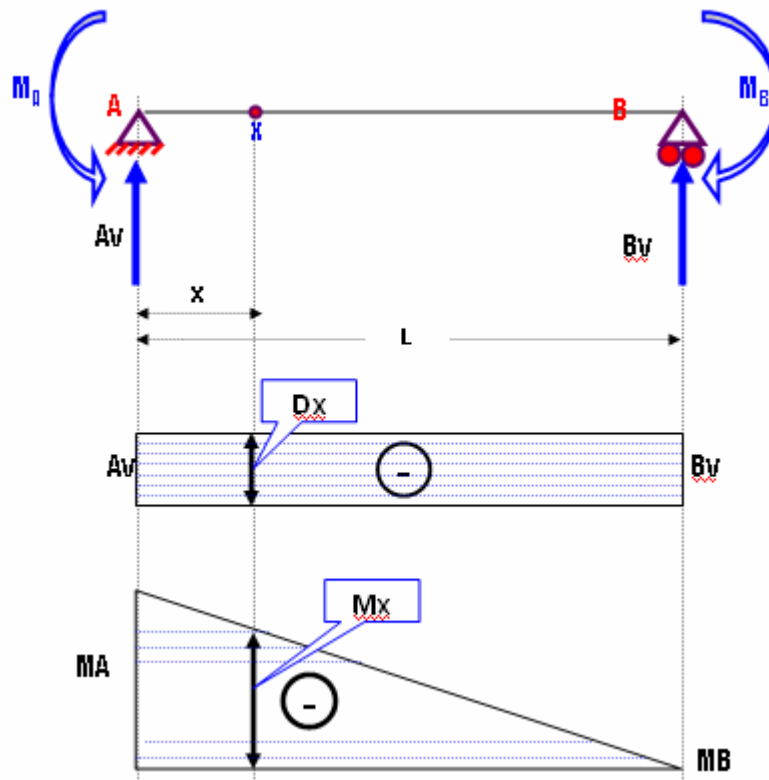
$$-B_v \cdot L + M_B = 0$$

$$B_v = M_B / L \text{ (ke atas)} \rightarrow \text{Persamaan garis lurus miring}$$

$$M_x = A_v \cdot x$$

$$D_x = dM_x / dx = A_v \cdot x \rightarrow \text{Persamaan garis lurus mendatar}$$

C. KBS dengan beban momen (-) ( $M_A > M_B$ )



Gambar 69. Konstruksi balok sederhana dengan beban momen negatif pada kedua ujungnya

**REAKSI**

$$\Sigma M_B = 0$$

$$A_v \cdot L - M_A + M_B = 0$$

$$A_v = \frac{M_A}{L} - \frac{M_B}{L}$$

$$\Sigma M_A = 0$$

$$-B_v \cdot L + M_B - M_A = 0$$

$$B_v = \frac{M_B - M_A}{L}$$

**Tinjauan pada titik x ( $0 \leq x \leq L$ )**

$$M_x = A_v \cdot x - M_A$$

$$M_x = \left( \frac{M_A - M_B}{L} \right) \cdot x - M_A$$

→ Pers. grs. lrs miring

$$D_x = \frac{dM_x}{dx} = \frac{M_A - M_B}{L}$$

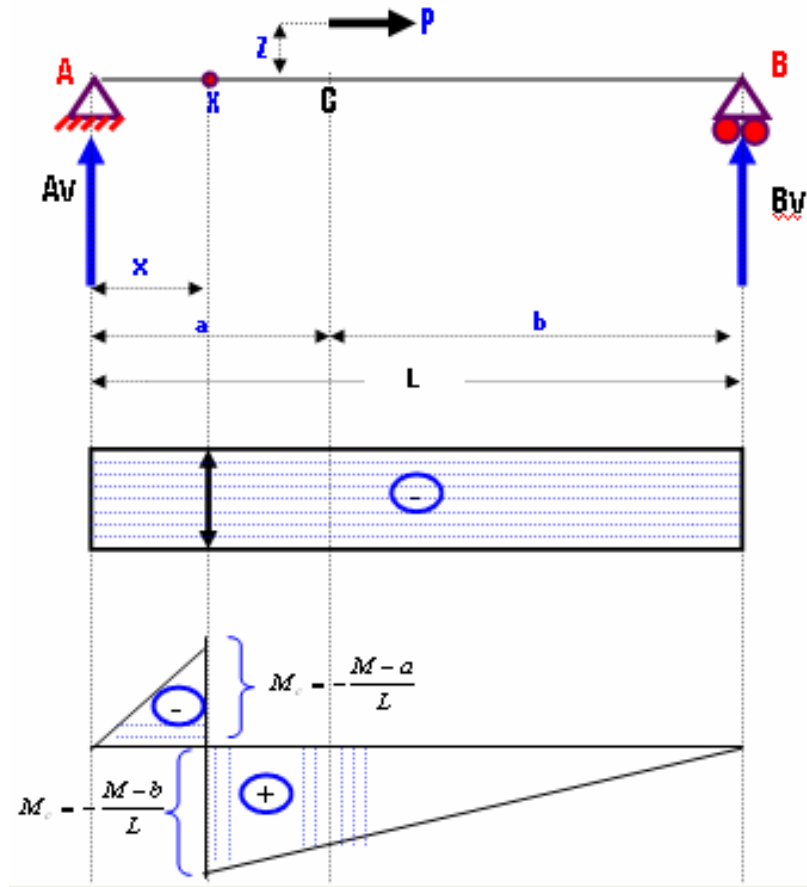
Oleh:

Faqih Ma'arif, M.Eng.



→ Pers. grs. Irs // sb. batang

**D. Konstruksi Balok Sederhana dengan beban momen diantara tumpuan**



Gambar 70. Konstruksi balok sederhana dengan momen diantara tumpuan

**REAKSI**

$$\Sigma M_B = 0$$

$$A_v \cdot L - P \cdot Z = 0$$

$$A_v = -\frac{P \cdot Z}{L} = -\frac{M}{L}$$

$$\Sigma M_A = 0$$

$$-B_v \cdot L + P \cdot Z = 0$$

$$B_v = -\frac{P \cdot Z}{L} = \frac{M}{L}$$

**Tinjauan titik x ( $0 \leq x \leq a$ )**

$$M_x = A_v \cdot x$$

**Persamaan grs lrs miring**

$$D_x = \frac{dMx}{dx} = Av$$

**Persamaan grs lrs // sb btg**

**Untuk x = a**

$$Mc = Av \cdot a$$

$$M_c = -\frac{M - a}{L}$$

**Tinjauan titik x -----a ≤ x ≤ L**

$$Mx = Av \cdot X - M$$

$$M_x = -\frac{M}{L} \cdot x + M \rightarrow \text{Pers. Grs. Lrs miring}$$

**x = a**

$$M_c = -\frac{M}{L} \cdot a + M$$

$$= -\frac{M \cdot a + M \cdot L}{L} = -\frac{M \cdot a + M(a+b)}{L}$$

$$= -\frac{M \cdot a + M \cdot c + M \cdot b}{L}$$

$$Mc = \frac{M \cdot b}{L}$$

$$x = L$$

$$M_B = -\frac{M}{L} \cdot a + M$$

$$= -\frac{M}{L} \cdot L + M$$

$$= -M + M$$

$$MB = 0$$

## PUSTAKA

Darma, Edifrizal, 2011. Prinsip dasar Statika I. Pusat Pengembangan Bahan Ajar, Universitas Mercu Buana.

Suparman, 1985. Mekanika Teknik I. Jurusan Pendidikan Teknik Bangunan, Fakultas Teknik, Universitas Negeri Yogyakarta.

Sardjono, 1985. Himpunan soal-soal dan penyelesaian, Mekanika Teknik Statis Tertentu: Surabaya.

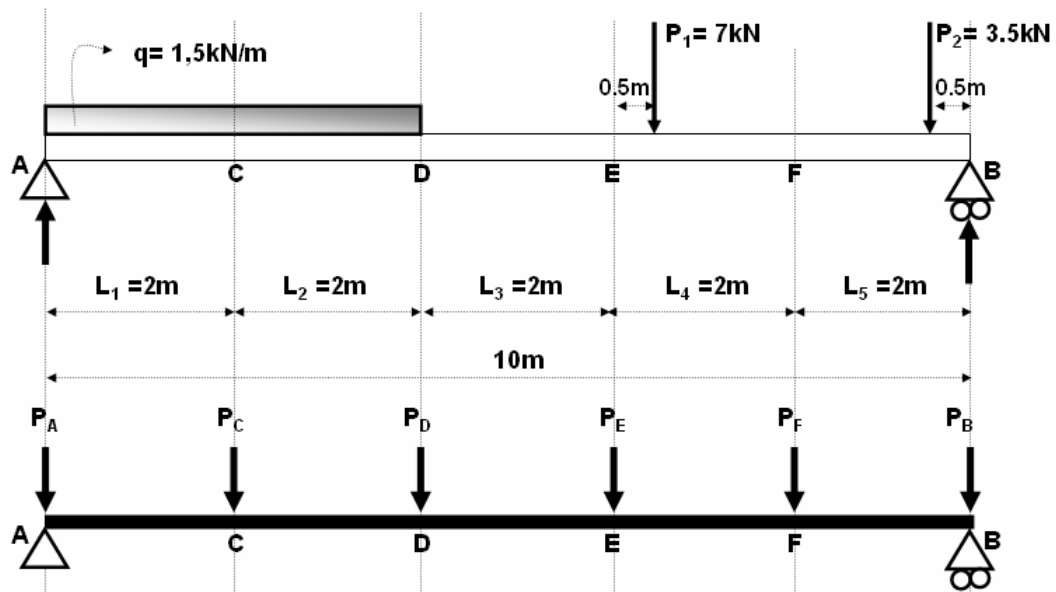
Wesli. 2010. Mekanika Rekayasa. Graha Ilmu: Yogyakarta.

# 10

## K.B. Beban tidak Langsung & Miring

### A. Konstruksi balok dengan beban tidak langsung

Konstruksi balok dengan beban tidak langsung dapat diambil suatu contoh kasus pada struktur atap rumah, dimana posisi penempatan gording tidak tepat berada pada titik buhul. Hal yang menarik dari kasus tersebut adalah adanya transfer beban gording yang menjadi beban titik, harus berada tepat pada titik buhul. Asumsi demikian ditentukan karena pada konsep dasar analisis struktur, suatu beban pada truss harus bekerja pada titik buhulnya, sehingga apabila ada suatu beban yang tidak tepat berada pada titik buhul, harus dimodifikasi sedemikian rupa agar beban yang bekerja dapat tepat di titik buhul. Berikut ini akan dijelaskan tata cara perhitungan konstruksi balok dengan beban tidak langsung.



Gambar 71. Transfer beban ke titik buhul pada suatu gelagar balok

#### 1. Menghitung Reaksi Perletakan

$$\Sigma MB = 0;$$

$$A_v \cdot 10 - (1,5 \cdot 4) \cdot 8 - 7 \cdot 3,5 - 3,5 \cdot 0,5 = 0$$

$$A_v = (74,25/10) = 7,425 \text{ kN}$$

$$\Sigma GV = 0;$$

Oleh:

Faqih Ma'arif, M.Eng.

$$AV + BV - q \cdot 4 - P1 - P2 = 0$$

$$BV = 6 + 7 + 3,5 - 7,425 = 9,075 \text{ kN}$$

## 2. Menghitung Momen

$$M_C = AV \cdot 2 - q \cdot 2 \cdot \frac{1}{2} \cdot 2 = 11,85 \text{ kNm}$$

$$M_D = AV \cdot 4 - q \cdot 4 \cdot 2 = 17,7 \text{ kNm}$$

$$M_G = BV \cdot 3,5 - P1 \cdot 3 = 21,2625 \text{ kNm}$$

$$M_H = Bv \cdot 0,5 = 4,5375 \text{ kNm}$$

Gambarlah momen hasil perhitungan di atas, kemudian hasilnya dikorelasikan dengan bmd perhitungan cara ke-02.

BMD koreksi yaitu hasil perhitungan cara ke-02 (hasil transfer beban yang tepat di balok lateral atau arah melintang).

## B. Cara 02, melimpahkan beban kepada balok melintang (arah lateral)

Balok melintang A menerima pelimpahan beban sebesar:

$$P_A = \frac{1}{2} \cdot q \cdot L_1 = \frac{1}{2} \cdot 1,5 \cdot 2 = 1,5 \text{ kN}$$

Balok melintang C menerima pelimpahan beban sebesar:

$$P_C = \frac{1}{2} \cdot q \cdot L_1 + \frac{1}{2} \cdot q \cdot L_2 = 1,5 + 1,5 = 3,0 \text{ kN}$$

Balok melintang d menerima pelimpahan beban sebesar:

$$P_D = \frac{1}{2} \cdot q \cdot L_2 = 1,5 \text{ kN}$$

Balok melintang E menerima pelimpahan beban sebesar:

$$P_E = (7 \cdot 1,5) / L_3 = 5,25 \text{ kN}$$

Balok melintang f menerima pelimpahan beban sebesar:

$$P_F = (7 \cdot 1,5 / 2) + (3,5 \cdot 1,5 / 2) = 4,375 \text{ kN}$$

Balok melintang b menerima pelimpahan beban sebesar:

$$P_B = (3,5 \cdot 1,5) / 2 = 2,625 \text{ kN}$$

### 1. Menghitung reaksi perletakan

$$\Sigma M = 0;$$

$$AV \cdot L - P_A \cdot L - P_C \cdot 4L - P_D \cdot 3L - P_E \cdot 2L - P_F \cdot L = 0$$

$$AV \cdot 10 = 1,5 \cdot 10 + 3 \cdot 4 \cdot 2 - 1,5 \cdot 3 \cdot 2 - 5,25 \cdot 2 \cdot 2 - 2,625 \cdot 2$$

$$AV = (74,25 / 10) = 7,425 \text{ kN}$$

$$\Sigma Gv = 0;$$

$$A_V + B_V - P_A - P_C - P_D - P_E - P_F - P_B = 0$$

$$B_V = 16,5 - 7,425 = 9,075 \text{ kN}$$

**2. Bending moment diagram (BMD)**

$$M_C = A_V \cdot L - P_A \cdot L = 7,425 \cdot 2 - 1,5 \cdot 2 = 11,85 \text{ kNm}$$

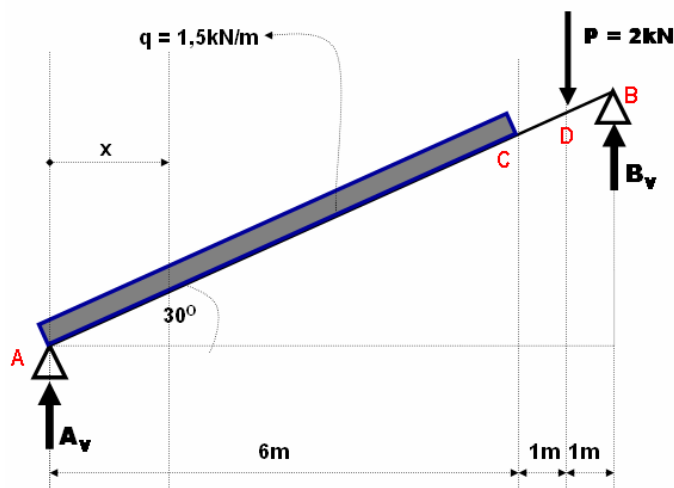
$$M_D = (A_V - P_A) \cdot 2L - P_C \cdot L = (7,425 - 1,5) \cdot 2 \cdot 2 = 17,7 \text{ kNm}$$

$$M_E = (A_V - P_A) \cdot 3 - P_C \cdot 2L - P_D \cdot L = 35,55 - 12 - 3 = 20,55 \text{ kNm}$$

$$M_F = (B_V - P_1) \cdot L = (9,075 - 2 \cdot 625) \cdot 2 = 12,9 \text{ kNm}$$

**C. Konstruksi balok miring**

Pada kasus balok miring ini, biasanya dijumpai pada kasus tangga suatu struktur bangunan yang lebih dari satu lantai. Berikut disajikan tata cara perhitungan untuk kasus tangga.



Gambar 72. Konstruksi balok miring dengan kombinasi beban merata dan terpusat

**1. Menghitung reaksi perletakan**

$$\Sigma M_B = 0$$

$$A_V \cdot 8 - q \cdot 6 \cdot 5 - P \cdot 1 = 0$$

$$A_V = 5,9 \text{ kN (ke atas)}$$

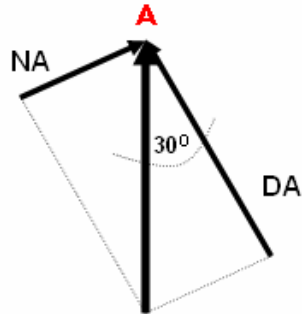
$$\Sigma G_V = 0$$

$$A_V - q \cdot 6 - P + B_V = 0$$

$$B_V = 5,1 \text{ kN (ke atas)}$$

## 2. Menghitung *Shear forces diagram* (SFD) dan *Normal forces diagram* (NFD)

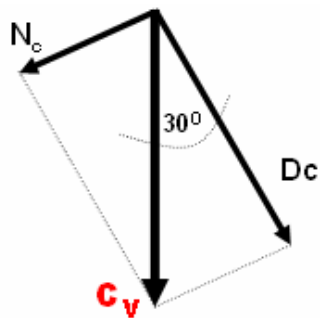
### SFD and NFD Pada TITIK A



$$D_A = A_v \cdot \cos 30^\circ = 5,9 \cdot \cos 30^\circ = 5,11 \text{ kN}$$

$$N_A = -A_v \cdot \sin 30^\circ = 5,9 \cdot \sin 30^\circ = -2,95 \text{ kN}$$

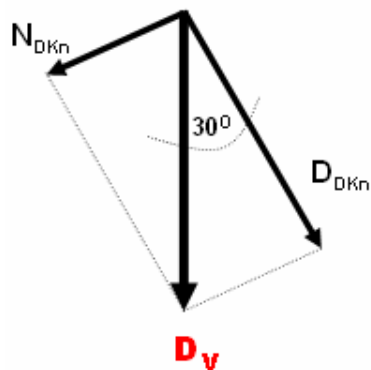
### SFD and NFD pada TITIK C



$$D_C = -C_v \cdot \cos 30^\circ = -3,1 \cdot \cos 30^\circ = -2,95 \text{ kN}$$

$$N_C = 3,1 \cdot \sin 30^\circ = 1,55 \text{ kN}$$

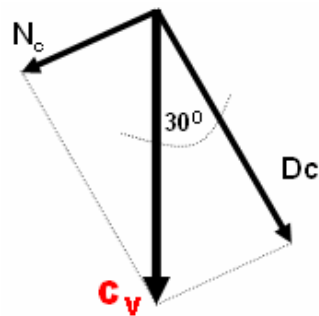
### SFD and NFD pada TITIK D



$$D_{Dkn} = -D_v \cdot \cos 30^\circ = -5,1 \cdot \cos 30^\circ = -4,42 \text{ kN}$$

$$N_{Dkn} = 5,1 \cdot \sin 30^\circ = 2,55 \text{ kN}$$

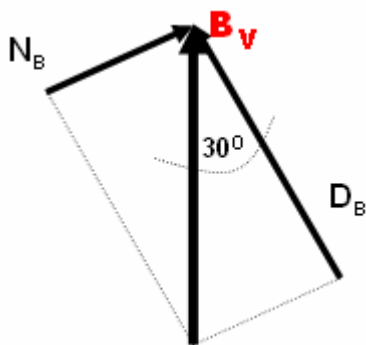
SFD and NFD pada TITIK C



$$D_C = -C_v \cdot \cos 30^\circ = -3,1 \cdot \cos 30^\circ = -2,95 \text{ kN}$$

$$N_C = 3,1 \cdot \sin 30^\circ = 1,55 \text{ kN}$$

Shear forces diagram (SFD) and Normal forces diagram (NFD) pada titik B.



$$D_B = D_{Dkn} = -4,42 \text{ kN}$$

$$N_B = N_{Dkn} = 2,55 \text{ kN}$$

Bending moment diagram (BMD) pada titik A & B

$$M_A = M_B = 0$$

$$M_C = B_v \cdot 2 - P \cdot 1 = 5,1 \cdot 2 - 2 \cdot 1 = 8,2 \text{ kNm}$$

$$M_D = B_v \cdot 1 = 5,1 \cdot 1 = 5,1 \text{ kNm}$$

Momen ekstrem terjadi pada saat  $D_x = 0$

$$D_x = A_v - q \cdot x$$

$$0 = A_v - q \cdot x \rightarrow x = (A_v/q) = (5,9/1,5) = 3,93 \text{ m dari titik A}$$

$$M_{maks} = A_v \cdot 3,93 - q \cdot 3,93 \cdot (\frac{1}{2} \cdot 3,93)$$

$$= 5,9 \cdot 3,93 - 1,5 \cdot \frac{1}{2} \cdot (3,93^2)$$

$$M_{maks} = 23,187 - 11,584 = 11,603 \text{ kNm}$$



**PUSTAKA**

Darma, Edifrizal, 2011. Prinsip dasar Statika I. Pusat Pengembangan Bahan Ajar, Universitas Mercu Buana.

Suparman, 1985. Mekanika Teknik I. Jurusan Pendidikan Teknik Bangunan, Fakultas Teknik, Universitas Negeri Yogyakarta.

Sardjono, 1985. Himpunan soal-soal dan penyelesaian, Mekanika Teknik Statis Tertentu: Surabaya.

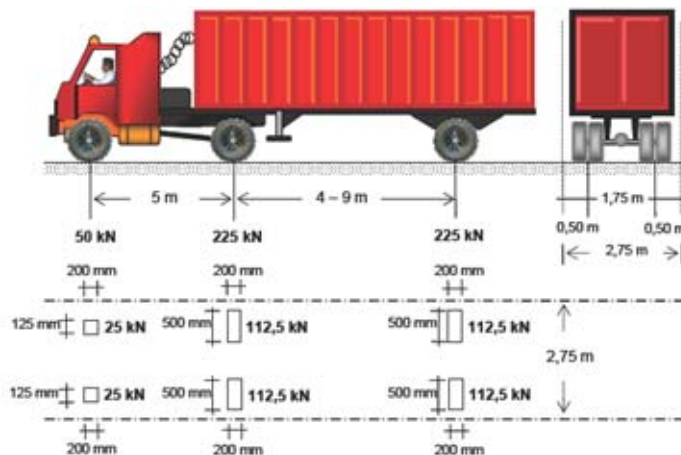
Wesli. 2010. Mekanika Rekayasa. Graha Ilmu: Yogyakarta.

# 11

## Garis Pengaruh

### A. Garis pengaruh

Digunakan sebagai metode untuk menghitung Respon Struktur Akibat adanya beban bergerak pada jembatan.



Gambar 73. Pembebanan truk pada jembatan (RSI T-05 2005)

### Garis pengaruh reaksi tumpuan

Beban bergerak sejarak X dari tumpuan A, maka reaksi tumpuan dapat dihitung sebesar BEBAN dikalikan dengan **ORDINATNYA**.

$$R = P \cdot y \dots \dots \dots (1)$$

keterangan:

R = Reaksi Tumpuan

P = Beban

y = Ordinat grafik

#### 1. Garis Pengaruh RA

Muatan bergerak P, biasanya diasumsikan dengan  $P = 1\text{kN}$ ; Bila beban P terletak di tumpuan B, maka:

$$\sum MB = 0;$$

$$R_A \cdot L = 0; \text{ maka } R_A = 0 \dots \dots \dots (2)$$

$$\sum MA = 0;$$

$$-R_B \cdot L + P \cdot L = 0; \text{ maka } R_B = P \dots \dots \dots (3)$$

**2. Garis Pengaruh RB**

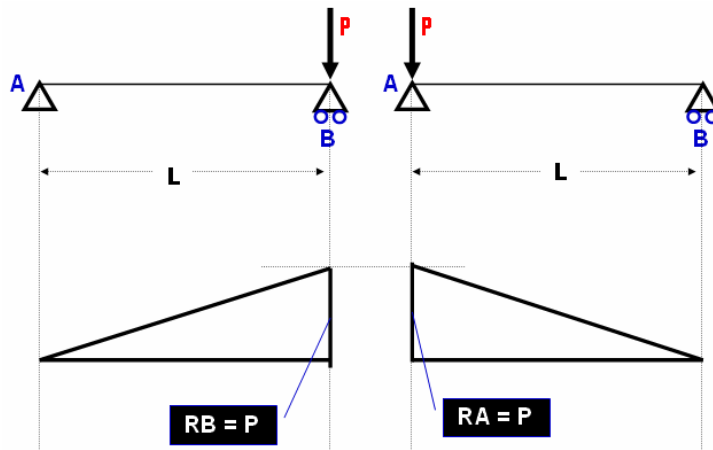
Muatan bergerak P, biasanya diasumsikan dengan P = 1kN; Bila beban P terletak di tumpuan A, maka:

$$\sum MB = 0;$$

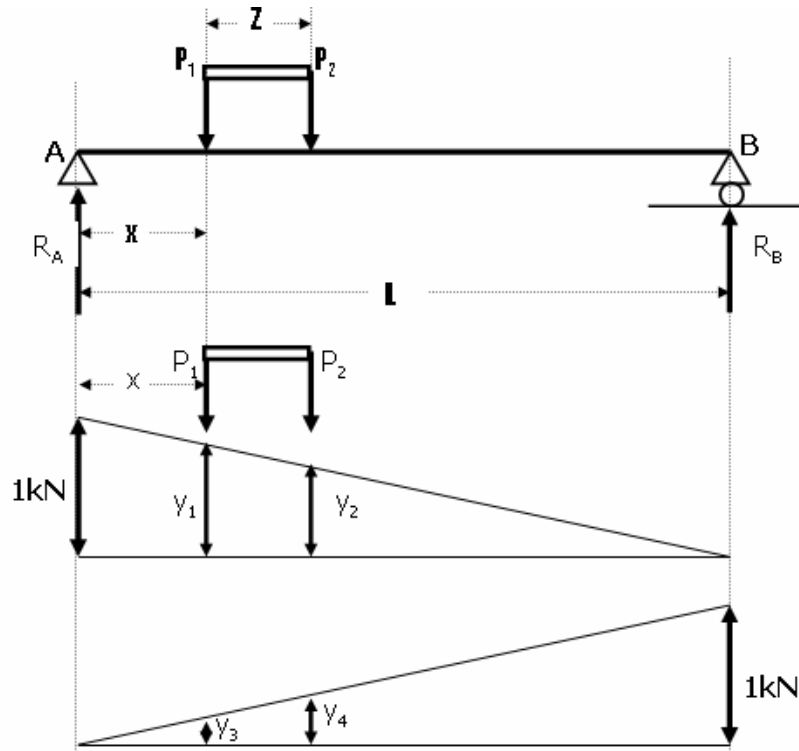
$$R_A \cdot L - P \cdot L = 0; \text{ maka } R_A = P \dots \dots \dots (4)$$

$$\sum MA = 0;$$

$$-R_B \cdot L = 0; \text{ maka } R_B = 0 \dots \dots \dots (5)$$



Gambar 74. Garis pengaruh akibat reaksi RA dan RB



Gambar 75. Garis Pengaruh Reaksi Tumpuan

Berdasarkan muatan yang melewati balok sejarak  $x$  dari tumpuan A, maka  $R_A$  dan  $R_B$  dinyatakan dengan:

$$R_A = P_1 \cdot y_1 + P_2 \cdot y_2 \dots \dots \dots (6)$$

$$R_B = P_1 \cdot y_3 + P_2 \cdot y_4 \dots \dots \dots (7)$$

**Contoh**

Sebuah balok AB panjang 8m, diberi beban bergerak  $P_1 = 2\text{kN}$  dan  $P_2 = 1\text{kN}$  (Jarak  $P_1$  dan  $P_2$  adalah 2m). Jarak dari tumpuan A sebesar 2m.

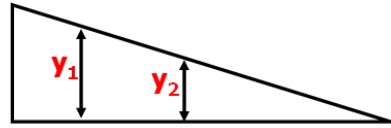
**Hitunglah** reaksi Tumpuan  $R_A$  dan  $R_B$  dengan menggunakan cara garis pengaruh.

**Jawab:**

Ordinat  $y_1$  dan  $y_2$

$$\frac{y_1}{6} = \frac{1}{8}; \text{ maka } y_1 = \frac{6}{8} = \frac{3}{4}$$

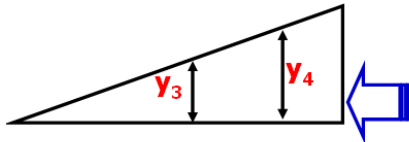
$$\frac{y_2}{4} = \frac{1}{8}; \text{ maka } y_2 = \frac{4}{8} = \frac{1}{2}$$



Ordinat  $y_3$  dan  $y_4$

$$\frac{y_3}{2} = \frac{1}{8}; \text{ maka } y_3 = \frac{2}{8} = \frac{1}{4}$$

$$\frac{y_4}{4} = \frac{1}{8}; \text{ maka } y_4 = \frac{4}{8} = \frac{1}{2}$$



### 1. Menghitung reaksi tumpuan;

$$R_A = P_1 \cdot y_1 + P_2 \cdot y_2$$

$$R_A = 2 \cdot \frac{3}{4} + 1 \cdot \frac{1}{2}$$

$$R_A = \frac{6}{4} + \frac{1}{2} = \frac{6+2}{4} = 2kN$$

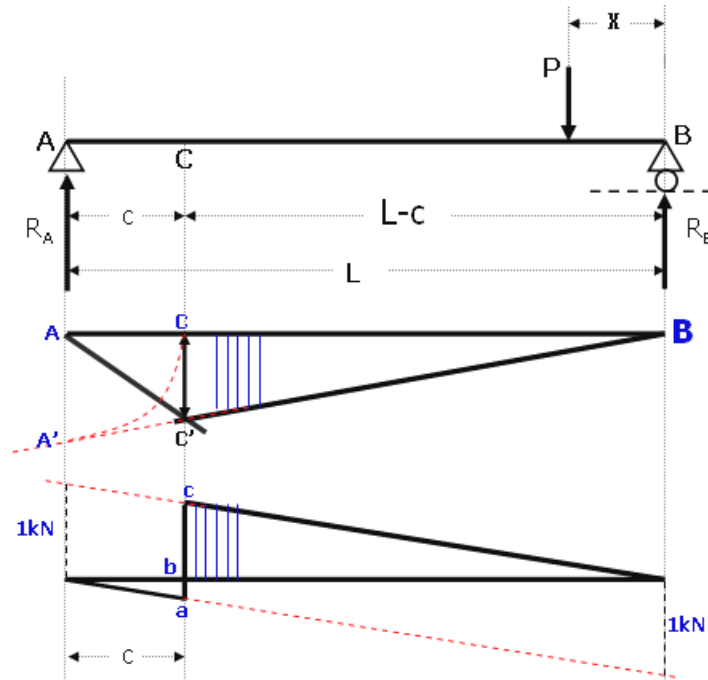
$$R_B = P_1 \cdot y_3 + P_2 \cdot y_4$$

$$R_B = 2 \cdot \frac{1}{4} + 1 \cdot \frac{1}{2}$$

$$R_B = \frac{2}{4} + \frac{1}{2} = \frac{2+2}{4} = 1kN$$

### 2. Garis pengaruh momen dan gaya lintang

Dalam penyelesaian kasus momen dan gaya lintang pada balok dengan cara garis pengaruh, dapat dilakukan seperti pada Gambar di bawah ini. Untuk melukis garis pengaruh momen, dilakukan dengan membuat busur menggunakan jangka pusat titik A dengan jari-jari AC dari titik C ke titik A. Kemudian tarik garis dari titik A' ke titik B sehingga didapat titik C' selanjutnya tarik garis dari titik A ke C' maka diperoleh  $\Delta ABC'$  yang disebut dengan garis pengaruh MC dengan ordinat Y berupa C-C'.



Gambar 76. Garis pengaruh momen dan gaya lintang akibat beban terpusat

**a. Garis Pengaruh Momen dan Gaya Lintang**

Beban sebesar P diletakkan pada balok AB sejarak X dari tumpuan B, maka reaksi tumpuan di A sebesar:

**Tinjauan terhadap titik A, maka:**

$$\sum MB = 0;$$

$$R_A = \frac{P \cdot X}{L} \dots\dots\dots(8)$$

$$M_C = \frac{P \cdot X}{L} \cdot c \dots\dots\dots(9)$$

Momen pada **titik C** merupakan garis lurus karena fungsi X berpangkat satu.

Untuk  $x = (L - c)$ ; maka.

$$M_C = \frac{P \cdot X}{L} \cdot c$$

$$M_C = \frac{P \cdot (L - c)}{L} \cdot c \dots\dots\dots(10)$$

**untuk P = 1; maka**

$$M_C = \frac{1 \cdot (L - c)}{L} \cdot c$$

$$M_C = \frac{(L - c)}{L} \cdot c \dots\dots\dots(11)$$

Oleh:

**Faqih Ma'arif, M.Eng.**

terhadap titik B, maka:

$$\sum MA = 0$$

$$R_B = \frac{P \cdot (L - X)}{L} \dots\dots\dots(12)$$

$$M_C = R_B (L - c)$$

$$M_C = \frac{P \cdot (L - X)}{L} \cdot (L - c) \dots\dots\dots(13)$$

Momen pada titik C juga merupakan garis lurus, karena fungsi X berpangkat satu. Untuk  $x = (L - c)$  maka:

$$M_C = \frac{P (L - X)}{L} \cdot (L - c)$$

$$M_C = \frac{P \{L - (L - c)\}}{L} \cdot (L - c)$$

$$M_C = \frac{P \cdot c}{L} (L - c) \dots\dots\dots(14)$$

Untuk  $P = 1$ , maka:

$$M_C = \frac{P \cdot c}{L} \cdot (L - c)$$

$$M_C = \frac{c}{L} \cdot (L - c) \dots\dots\dots(15)$$

Ordinat y dapat diselesaikan dengan perbandingan segitiga pada  $\Delta ABC'$  sehingga diperoleh persamaan:

$$\frac{CC'}{AA'} = \frac{(L - c)}{L} \text{ untuk } CC' = y \text{ maka}$$

$$y = \frac{AA' \cdot (L - c)}{L} \dots\dots\dots(16)$$

Pada garis pengaruh Gaya Lintang di titik C, dilukiskan dengan cara membuat garis netral di atas titik A dengan menarik garis 1kN atau 1 meter pada bagian atas garis netral, kemudian pada bagian titik B dilukiskan hal yang sama 1kN atau 1m di bawah garis netral dan dari masing-masing titik tersebut di tarik garis ke arah titik A atau titik B.

Apabila perletakan beban P berada pada bagian pada bagian CB dari balok AB, maka gaya lintang DC sebesar RA maka garis pengaruh RA diambil sampai sampai batas BC. Garis pengaruh RA

Oleh:

Faqih Ma'arif, M.Eng.

dan RB sampai batas titik C. Dalam penyelesaian garis pengaruh gaya lintang maka ordinat ac dan bc, dapat diselesaikan dengan cara perbandingan segitiga. Dari **Gambar di atas** dapat di cari ordinat **ab** berdasarkan segitiga bagian bawah.

$$\frac{ab}{1} = \frac{c}{L}$$

$$ab = \frac{c}{L} \dots\dots\dots(17)$$

Ordinat bc berdasarkan segitiga bagian atas maka:

$$\frac{bc}{1} = \frac{(L-c)}{L}$$

$$bc = \frac{(L-c)}{L} \dots\dots\dots(18)$$

**B. Contoh soal dan penyelesaian**

**Contoh 1;**

Sebuah balok AB panjang 10m, diberi beban bergerak dengan P1 = 3,5kN dan P2 = 2kN (jarak P1 dan P2 adalah 2m) sejarak 4m dari tumpuan A (Seperti tergambar). Hitung momen dan Gaya Lintang dengan menggunakan cara Garis Pengaruh.

**Penyelesaian:**

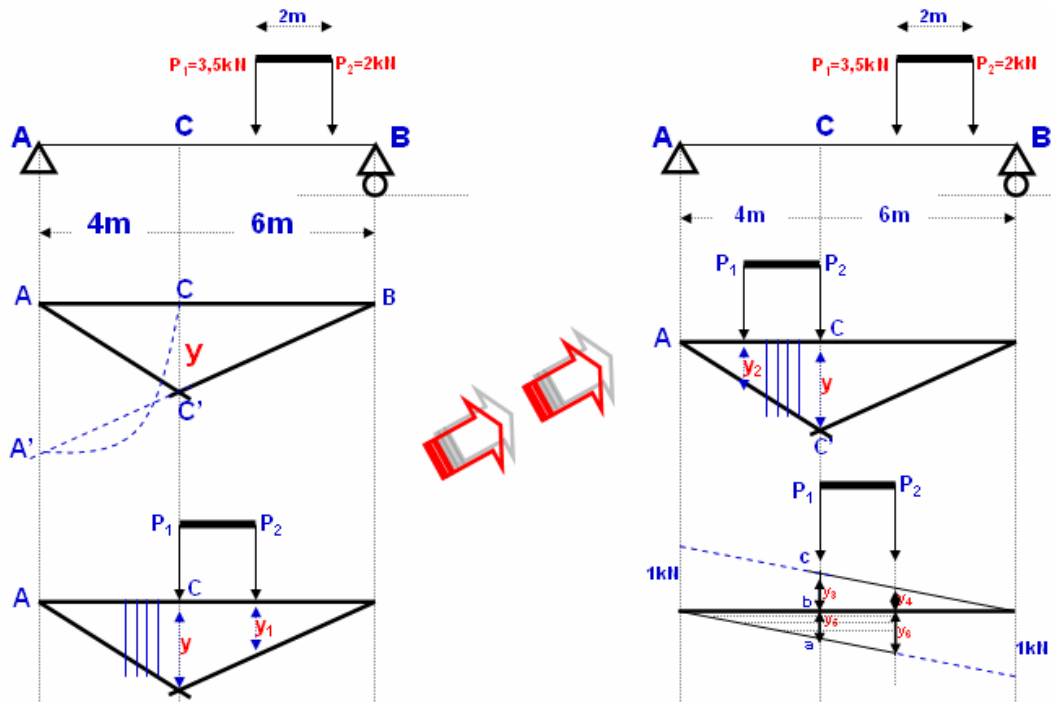
Dari soal di atas dapat digambarkan sebagai berikut:

Langkah pertama dilakukan adalah melakukan garis pengaruh Momen pada titik C (MC) dengan cara:

1. Buat busur dengan menguraikan jangka dari titik C ke titik A' dengan jari-jari AC dengan pusat lingkaran (busur) adalah titik A.
2. Kemudian tarik garis dari titik A' ke titik B sehingga diperoleh titik C'.
3. Selanjutnya tarik garis dari titik A ketitik C'. Sehingga diperoleh sebuah ΔABC' dan segitiga ini disebut dengan garis pengaruh Mc.

Untuk memperoleh MC maksimum maka "Beban terbesar diletakkan pada titik C dan akan didapatkan 2 buah kemungkinan yaitu kedudukan 1 dan kedudukan II, kemudian diselesaikan masing-masing kedudukan secara satu persatu selanjutnya dipilih nilai momen yang terbesar.





Gambar 77. Garis pengaruh akibat dua beban terpusat

**1. Pada kedudukan I**

Di cari dahulu ordinat y berdasarkan rumus 16

$$y = \frac{AA' \cdot (L - c)}{L}$$

$$y = \frac{4 \cdot (10 - 4)}{10} = 2,4m$$

untuk ordinat  $y_1$ :

$$\frac{y_1}{y} = \frac{4}{6} \rightarrow y_1 = \frac{4}{6} \cdot 2,4 \rightarrow y_1 = 1,6m$$

Maka momen maksimum yang terjadi sebesar:

$$M_{cmaks} = P_1 \cdot y + P_2 \cdot y$$

$$M_{cmaks} = 3,5 \cdot 2,4 + 2 \cdot 1,6$$

$$M_{cmaks} = 11,6kNm$$

Pada Kedudukan II

$$y = \frac{4(10 - 4)}{10} = 2,4m;$$

untuk ordinal  $y_2$ :

$$\frac{y_2}{y} = \frac{2}{4}; \Rightarrow y_2 = \frac{2}{4} \cdot y = \frac{2}{4} \cdot 2,4 \Rightarrow y = 1,2m$$

maka momen maksimum yang terjadi sebesar:

$$M_{Cmaks} = P_1 \cdot y + P_2 \cdot y_2$$

$$M_{Cmaks} = 3,5 \cdot 2,4 + 2 \cdot 1,2$$

$$M_{Cmaks} = 10,8kNm$$

Dari kedua kedudukan di atas, maka diperoleh momen maksimum pada titik C diambil hasil yang terbesar, hádala pada Kedudukan I yaitu  $M_{Cmaks} = 11,6kNm$ .

## 2. Mencari gaya lintang DC maksimum dan Dc minimum

Dilukiskan terlebih dahulu gambar garis pengaruh DC dengan cara sebagai berikut :

- tarik garis 1kN atau 1m pada bagian atas garis netral di bawah titik A.
- hubungkan titik tersebut ke titik B, kemudian letakkan beban di atas garis pengaruh tersebut sesuai dengan kedudukan momen maksimum (dalam hal ini sama dengan kedudukan I)
- buatlah garis ordinat di bawah beban  $P_1$  dan  $P_2$
- lakukan hal yang sama dengan membuat garis 1kN atau 1m di bawah titik B
- hubungkan titik tersebut ke titik A (perletakan beban sama pada keadaan di atas)
- Buatlah garis ordinat di bawah beban  $P_1$  dan  $P_2$

Mencari ordinat  $y_3$ ,  $y_4$ ,  $y_5$  dan  $y_6$  berdasarkan rumus 17 dan rumus 18; maka diperoleh:

$$ab = \frac{c}{L} \text{ pada } ab = y_5; \text{ maka } y_5 = \frac{c}{L}; \text{ sehingga : } y_5 = \frac{4}{10} = \frac{2}{5}$$

Ordinal bc berdasarkan segitiga bagian atas, maka:

$$bc = \frac{(L-c)}{L} \text{ pada } ab = y_3; \text{ maka } y_3 = \frac{(L-c)}{L}; \text{ sehingga : } y_3 = \frac{6}{10} = \frac{3}{5}$$

Berdasarkan kedua ordinat di atas, dicari ordinat  $y_4$  dan  $y_6$  dengan perbandingan segitiga berikut ini:

$$\frac{y_4}{y_3} = \frac{4}{6} \rightarrow y_4 = \frac{4}{6} \cdot y_3 = \frac{4}{6} \cdot \frac{3}{5}$$

$$y_4 = \frac{2}{5} m$$

$$\frac{y_6}{y_5} = \frac{6}{4} \rightarrow y_6 = \frac{6}{4} \cdot y_5 = \frac{6}{4} \cdot \frac{2}{5}$$

$$y_6 = \frac{3}{5} m$$

Garis pengaruh DC maksimum menjadi:

$$D_{Cmaks} = P_1 \cdot y_3 + P_2 \cdot y_4$$

$$D_{Cmaks} = 3,5 \cdot \frac{3}{5} + 2 \cdot \frac{2}{5}$$

$$D_{Cmaks} = 2,9 kN$$

Garis pengaruh Dcminimum menjadi:

$$D_{Cmin} = P_1 \cdot y_5 + P_2 \cdot y_6$$

$$D_{Cmin} = 3,5 \cdot \frac{3}{5} + 2 \cdot \frac{3}{5}$$

$$D_{Cmaks} = 2,6 kN$$

### Contoh 2;

Sebuah balok jalaran ABC panjang 10m dengan rincian panjang AB 8m dan panjang BC 2m, diberi beban bergerak dengan  $P=3kN$ . Apabila pada suatu potongan pada titik D sejarak 3m dari tumpuan A (seperti tergambar) maka hitunglah momen dan gaya lintang pada potongan D tersebut dengan menggunakan cara garis pengaruh.

### Jawab

#### 1. Garis Pengaruh $R_A$

- a. Beban P diletakkan pada bagian BC di titik  $X_1$ , maka:

$$\Sigma MB = 0;$$

$$R_A \cdot L_1 + P \cdot (L_2 - X_1) = 0$$

$$R_A = \frac{-P \cdot (L_2 - X_1)}{L_1} = \frac{P \cdot (L_2 - X_1)}{L_1} (-)$$

untuk  $X_1=0$ ; (beban P pada titik C), maka:

$$R_A = \frac{P \cdot (L_2 - 0)}{L_1} = \frac{P \cdot L_2}{L_1} (-)$$

$$R_A = \frac{3 \cdot 2}{8} = \frac{6}{8} \text{ kN} (-)$$

untuk  $X_1 = L_2$  (Beban P pada titik B), maka:

$$R_A = \frac{P \cdot (L_2 - L_1)}{L_1} = 0$$

b. Beban P diletakkan pada bagian AB di titik  $X_2$ , maka:

$$\sum M_B = 0;$$

$$R_A \cdot L_1 - P \cdot X_2 = 0$$

$$R_A = \frac{P \cdot X_2}{L_1}$$

untuk  $X_2 = L_1 - X = 8 - 3 = 5$  (beban P pada titik D, maka:

$$R_A = \frac{P \cdot X_2}{L_1}$$

$$R_A = \frac{3 \cdot 5}{8} = \frac{15}{8} \text{ kN}$$

untuk  $X_2 = L_1$  (beban P pada titik A), maka:

$$R_A = \frac{P \cdot L_1}{L_1} = P = 3 \text{ kN}$$

## 2. Garis Pengaruh RB:

a. Beban P diletakkan pada bagian BC di titik  $X_1$ , maka:

$$\sum M_A = 0;$$

$$-R_B \cdot L_1 + P \cdot \{L_1 + (L_2 - X_1)\}$$

$$R_B = \frac{P \cdot \{L_1 + (L_2 - X_1)\}}{L_1}$$

untuk  $X_1 = 0$ , beban P pada titik C; maka:

$$R_B = \frac{P \cdot \{L_1 + (L_2 - 0)\}}{L_1} = \frac{P \cdot (L_1 + L_2)}{L_1}$$

$$R_B = \frac{3 \cdot (8 + 2)}{8} = \frac{30}{8} \text{ kN} (+)$$

untuk  $X_1 = L_2$ ; (beban P pada titik B, maka):

$$R_B = \frac{P \cdot \{L_1 + (L_2 - L_1)\}}{L_1} = P$$

$$R_B = 3kN (+)$$

- b. Beban P diletakkan pada bagian AB di titik X<sub>2</sub>, maka:

$$\Sigma M_B = 0;$$

$$R_B \cdot L_1 - P \cdot (L_1 - X_2) = 0;$$

$$R_B = \frac{P \cdot (L_1 - X_2)}{L_1}$$

untuk X<sub>2</sub> = L<sub>1</sub> - X = 8 - 3 = 5 (Beban P di titik D), maka:

$$R_B = \frac{P \cdot (L_1 - X_2)}{L_1} = \frac{3 \cdot (8 - 5)}{8} = \frac{9}{8} kN$$

untuk X<sub>2</sub> = L<sub>1</sub> (Beban P pada titik A); maka:

$$R_B = \frac{P \cdot (L_1 - L_1)}{L_1} = 0kN$$

- c. Garis pengaruh Momen MD

$$Y = \frac{3.5}{8} = \frac{15}{8} = 1,875m$$

$$\frac{Y_1}{Y} = \frac{2}{5} = 0,4m$$

Kedudukan I:

$$M_{maks} = P \cdot Y = 3 \cdot 1,875 = 5,625kNm (+)$$

Kedudukan II:

$$M_{maks} = P \cdot Y_1 = 3 \cdot 0,4 = 1,2kNm (+)$$

Dari kedua kedudukan di atas, maka yang diambil adalah nilai yang paling besar, yaitu nilai M<sub>dmaks</sub> = P · Y = 3 · 1,875 = 5,625kNm (+).

- d. Garis pengaruh gaya lintang DD

$$\frac{Y_2}{1} = \frac{5}{8} = \text{maka } Y_2 = \frac{5}{8} = 0,625m$$

$$\frac{Y_3}{1} = \frac{3}{8} = \text{maka } Y_3 = \frac{3}{8} = 0,375m$$

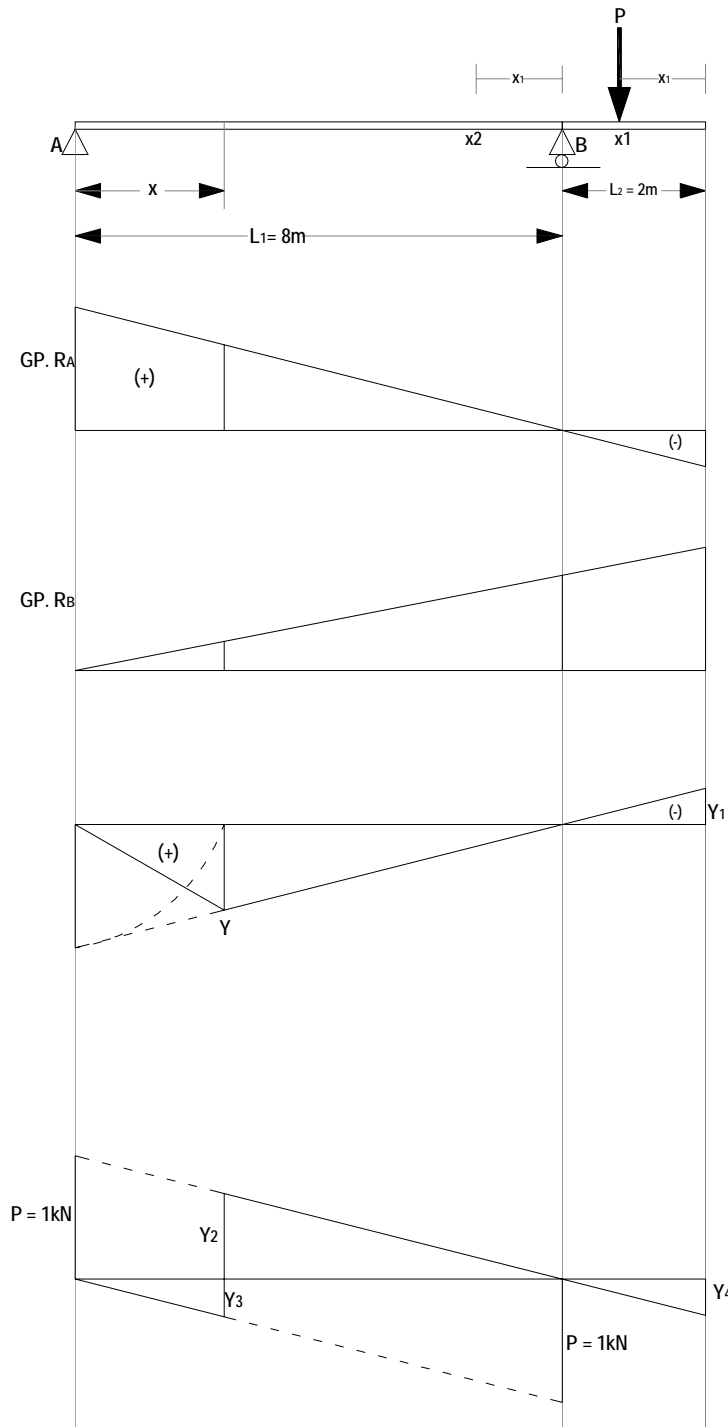
$$\frac{Y_4}{1} = \frac{2}{8} = \text{maka } Y_4 = \frac{5}{8} = 0,25m$$

maka dapat dihitung garis pengaruh gaya lintang:

$$D_{Dmaks} = P \cdot Y_2 = 3 \cdot 0,625 = 1,875 \text{ kN (+)}$$

$$D_{Dmin} = P \cdot Y_4 = 3 \cdot 0,25 = 0,275 \text{ kN (-)}$$

$$D_{Dmin} = P \cdot Y_3 = 3 \cdot 0,375 = 1,125 \text{ kN (+)}$$



Gambar 78. Garis pengaruh dengan balok overstek beban terpusat

Contoh 3;

Oleh:

Faqih Ma'arif, M.Eng.

Sebuah balok AB akan dilewati oleh muatan bergerak, panjang balok AB adalah 10m dengan rincian panjang AC 4m dan panjang BC 7m. Beban bergerak yang melewati balok AB masing-masing  $P_1=1\text{kN}$ ;  $P_2=2\text{kN}$ ;  $P_3=3\text{kN}$  dan  $P_4=3\text{kN}$ . Jarak masing-masing  $P_1=2\text{m}$ . Hitunglah momen maksimum, gaya lintang maksimum dan gaya lintang minimum pada potongan C tersebut dengan menggunakan cara garis pengaruh.

Terdapat 2 buah beban terbesar yaitu  $P_3$  dan  $P_4$  beban masing-masing 3kN, maka ada 4 kedudukan yang harus dicari dan hasil yang terbesar dari ke 4 kedudukan tersebut disebut disebut dengan  $M_{cmaksimum}$ .

### 1. Garis Pengaruh MC

Mencari ordinat y

$$y = \frac{U.V}{L} \rightarrow y = \frac{4.6}{10} = \frac{24}{10} = 2,4m$$

$$\frac{y_1}{y} = \frac{1}{4} \rightarrow y_1 = \frac{y}{4} = \frac{2,4}{4} = 0,6m$$

$$\frac{y_2}{y} = \frac{2}{4} \rightarrow y_2 = \frac{2y}{4} = \frac{2.2,4}{10} = 1,2m$$

$$\frac{y_3}{y} = \frac{3}{4} \rightarrow y_3 = \frac{3y}{4} = \frac{3.2,4}{4} = 1,8m$$

$$\frac{y_4}{y} = \frac{5}{6} \rightarrow y_4 = \frac{5y}{6} = \frac{5.2,4}{6} = 2,0m$$

$$\frac{y_5}{y} = \frac{4}{6} \rightarrow y_5 = \frac{4y}{6} = \frac{4.2,4}{6} = 1,6m$$

$$\frac{y_6}{y} = \frac{3}{6} \rightarrow y_6 = \frac{3y}{4} = \frac{3.2,4}{6} = 1,2m$$

#### Pada kedudukan I

$$M_{cmaks} = P_1. y_2 + P_2. y_3 + P_3. y + P_4. y_4$$

$$\begin{aligned} M_{cmaks} &= 2. 1,2 + 2. 1,8 + 3. 2,4 + 3.2 \\ &= 19,20\text{kNm} \end{aligned}$$

#### Pada kedudukan II

$$M_{cmaks} = P_1. y_1 + P_2. y_2 + P_3. y_3 + P_4. y$$

$$\begin{aligned} M_{cmaks} &= 2.0,6 + 2. 1,2 + 3.1,8 + 3.2,4 \\ &= 16,20\text{kNm} \end{aligned}$$

#### Pada kedudukan III

Oleh:

Faqih Ma'arif, M.Eng.

$$\begin{aligned} M_{Cmaks} &= P_1 \cdot y_5 + P_2 \cdot y_4 + P_3 \cdot y_3 + P_4 \cdot y_3 \\ M_{Cmaks} &= 2.1,6 + 2.2,0 + 3.2,4 + 3.1,8 \\ &= 19,8 \text{ 0kNm} \end{aligned}$$

Pada kedudukan IV

$$\begin{aligned} M_{Cmaks} &= P_1 \cdot y_6 + P_2 \cdot y_5 + P_3 \cdot y_4 + P_4 \cdot y_3 \\ M_{Cmaks} &= 2.1,2 + 2.1,6 + 3.2,0 + 3.2,4 \\ &= 18,8 \text{ 0kNm} \end{aligned}$$

Dari ke 4 buah kedudukan, di atas, maka dapat disimpulkan bahwa Besarnya Momen maksimum pada titik C ( $M_{Cmaks}$ ) berada pada kedudukan III yaitu sebesar  $M_{Cmaks} = 19,80\text{kNm}$

## 2. Garis Pengaruh DD

Kedudukan dari Garis Pengaruh DD tergantung dari  $M_{Cmaks}$  yang diperoleh yaitu pada kedudukan III.

Mencari ordinat y

$$\frac{y_7}{1} = \frac{7}{10} \rightarrow y_7 = \frac{7}{10} = 0,7m$$

$$\frac{y_8}{1} = \frac{6}{10} \rightarrow y_8 = \frac{6}{10} = 0,6m$$

$$\frac{y_9}{1} = \frac{5}{10} \rightarrow y_9 = \frac{5}{10} = 0,5m$$

$$\frac{y_{10}}{1} = \frac{4}{10} \rightarrow y_{10} = \frac{4}{10} = 0,4m$$

$$\frac{y_{11}}{1} = \frac{2}{10} \rightarrow y_{11} = \frac{2}{10} = 0,2m$$

$$\frac{y_{12}}{1} = \frac{3}{10} \rightarrow y_{12} = \frac{3}{10} = 0,3m$$

$$\frac{y_{13}}{1} = \frac{4}{10} \rightarrow y_{13} = \frac{4}{10} = 0,4m$$

$$\frac{y_{14}}{1} = \frac{5}{10} \rightarrow y_{14} = \frac{5}{10} = 0,5m$$

Gaya lintang maksimum

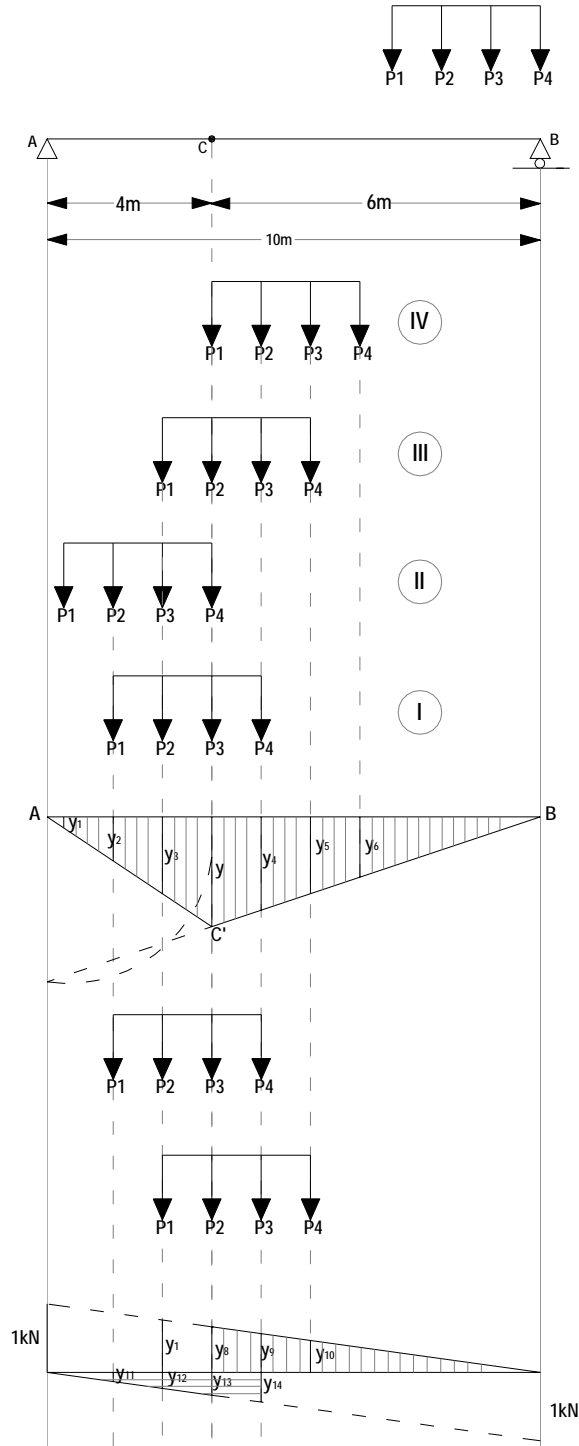
$$D_{Dmaks} = P_1 \cdot y_{10} + P_2 \cdot y_9 + P_3 \cdot y_8 + P_4 \cdot y_7$$

$$\begin{aligned} D_{Dmaks} &= P_1 \cdot y_{10} + P_2 \cdot y_9 + P_3 \cdot y_8 + P_4 \cdot y_7 \\ &= 5,7\text{kN} \end{aligned}$$

Gaya Lintang Minimum



$$\begin{aligned}
 D_{Dmin} &= P_1 \cdot y_{11} + P_2 \cdot y_{12} + P_3 \cdot y_{13} + P_4 \cdot y_{14} \\
 D_{Dmin} &= 2 \cdot 0,2 + 2 \cdot 0,3 + 3 \cdot 0,4 + 3 \cdot 0,5 \\
 &= 3,7\text{kN}
 \end{aligned}$$



Gambar 79. Garis pengaruh akibat beban merata

**PUSTAKA**

Darma, Edifrizal, 2011. Prinsip dasar Statika I. Pusat Pengembangan Bahan Ajar, Universitas Mercu Buana.

Suparman, 1985. Mekanika Teknik I. Jurusan Pendidikan Teknik Bangunan, Fakultas Teknik, Universitas Negeri Yogyakarta.

Sardjono, 1985. Himpunan soal-soal dan penyelesaian, Mekanika Teknik Statis Tertentu: Surabaya.

Wesli. 2010. Mekanika Rekayasa. Graha Ilmu: Yogyakarta.

## Garis Pengaruh Momen & Gaya Lintang pada Beban terbagi Rata

### A. Garis pengaruh momen & gaya lintang

Apabila pada sebuah balok yang ditumpu oleh dua tumpuan akan tetapi balok tersebut dilewati oleh muatan bergerak terbagi rata, maka dapat diselesaikan momen dan gaya lintang pada sebuah titik di sepanjang balok tersebut dengan memperhitungkan luas bidang pada area yang dilewati oleh muatan bergerak tersebut. Untuk hal di atas, maka perlu dipahami dan dimengerti tentang luas bidang-bidang seperti luas trapesium, luas segitiga, agar memudahkan penyelesaian persoalan di atas.

Langkah pertama muatan terbagi rata diletakkan sedemikian rupa sehingga ordinat:

$$y_1 = y_2 \dots\dots\dots (19)$$

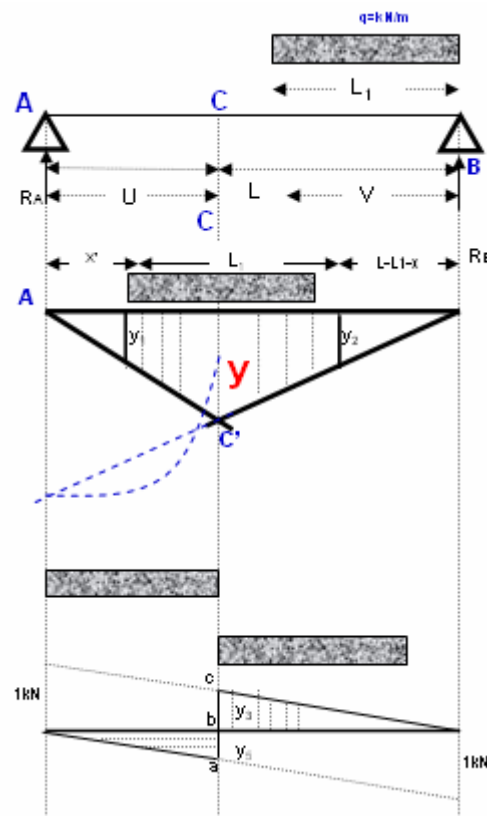
berdasarkan letak tersebut di atas, maka jarak muatan terbagi rata dari titik A adalah sejarak X, sementara jarak muatan terbagi rata dari titik B adalah sejarak (L-L1-X).

Langkah berikutnya adalah mencari ordinat y, y<sub>1</sub> dan y<sub>2</sub> berdasarkan perletakan tersebut di atas, ordinat tersebut adalah:

$$y = \frac{UV}{L} \dots\dots\dots (20)$$

$$y_1 = \frac{X.y}{U} \dots\dots\dots (21)$$

$$y_2 = \frac{(L - L_1 - X)y}{V} \dots\dots\dots (22)$$



Gambar 80. Pengaruh momen dan gaya lintang pada beban terbagi merata.

Langkah selanjutnya mencari jarak x berdasarkan persamaan (19)

$$y_1 = y_2$$

subtitusikan nilai  $y_1$  dan  $y_2$  kedalam persamaan sehingga menjadi:

$$\frac{X \cdot y}{U} = \frac{(L - L_1 - X) \cdot y}{V}$$

$$X \cdot V = (L - L_1 - X) \cdot U$$

$$X = \frac{(L - L_1 - X) \cdot U}{V}$$

Selanjutnya disederhanakan menjadi:

$$X = \frac{UL}{V} - \frac{UL_1}{V} - \frac{UX}{V}$$

$$X + \frac{UX}{V} = \frac{UL}{V} - \frac{UL_1}{V}$$

$$X \left( 1 + \frac{U}{V} \right) = \frac{UL - UL_1}{V}$$

$$X \left( \frac{V}{V} + \frac{U}{V} \right) = \frac{UL - UL_1}{V}$$

$$X \left( \frac{V + U}{V} \right) = \frac{UL - UL_1}{V}; \quad X(V + U) = UL - UL_1$$

$$X.L = UL - UL_1$$

Nilai x menjadi persamaan sebagai berikut:

$$X = \frac{UL - UL_1}{L} \dots\dots\dots(23)$$

Setelah nilai X diperoleh, selanjutnya dapat dihitung Momen maksimum pada titik C sebagai berikut:

$$M_{maks} = q. (F1+F2)$$

Dimana: (Luas trapesium)

$$F_1 = \frac{(y_1 + y).(U - X)}{2} \dots\dots\dots(24)$$

$$F_2 = \frac{(y_2 + y).[V - (L - L_1 - X)]}{2} \dots\dots\dots(25)$$

Setelah momen maksimum pada titik C diperoleh, selanjutnya dapat dihitung gaya lintang maksimum dan gaya lintang minimum pada titik C sebagai berikut:

Mencari Ordinat.

$$y_3 = \frac{V}{L} \dots\dots\dots(26)$$

$$y_4 = \frac{V - L_1}{L} \dots\dots\dots(27)$$

$$y_5 = \frac{U}{L} \dots\dots\dots(28)$$

Selanjutnya dihitung gaya lintang maksimum dan minimum sebagai berikut:

$$D_{cmaks} = q. F_3 \dots\dots\dots(29)$$

$$D_{cmin} = q. F_4 \dots\dots\dots(29)$$

Oleh:

**Faqih Ma'arif, M.Eng.**

Dimana (Luas trapesium)

$$F_3 = \frac{(y_3 + y_4) \cdot [(V - (L - L_1 - X))]}{2} \dots\dots\dots(30)$$

$$F_4 = \frac{y_5 \cdot U}{2} \dots\dots\dots(31)$$

**B. Contoh soal dan penyelesaian**

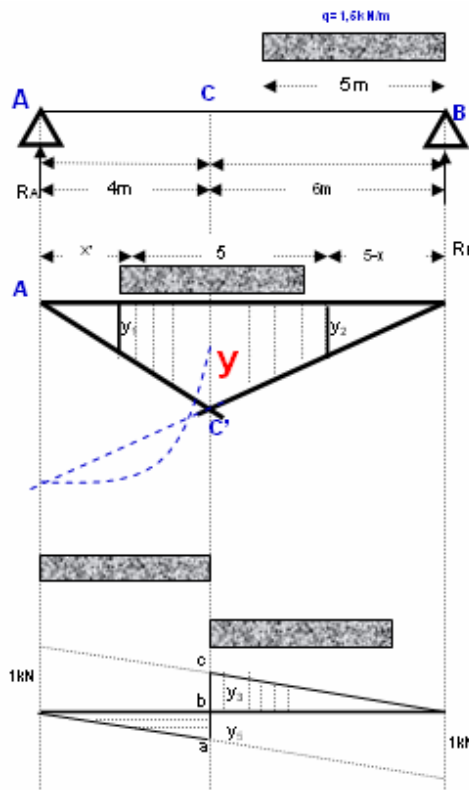
**Contoh soal 01;**

Sebuah balok AB ditumpu oleh 2 tumpuan mempunyai panjang 10m, dengan titik potong C sejarak 4m, akan dilewati oleh muatan bergerak terbagi rata sepanjang 5m dengan  $q = 1,5kN/m$ . Hitunglah momen maksimum, gaya lintang maksimum dan gaya lintang minimum pada potongan C tersebut dengan menggunakan cara garis pengaruh.

**Jawab.**

Muatan terbagi rata diletakkan sedemikian rupa dengan jarak dari titik A sejarak X dari ordinat.

$$y_1 = y_2$$



Gambar 81. Garis Pengaruh akibat beban terbagi merata

$$y = \frac{U \cdot V}{L} \quad \rightarrow y = \frac{4 \cdot 6}{10} = \frac{24}{10} = 2,4m$$

$$y_1 = \frac{X \cdot y}{U} \quad \rightarrow y_1 = \frac{X \cdot 2,4}{10} = 0,6X$$

$$y_2 = \frac{(5 - X) \cdot y}{6} \quad y_2 = \frac{(5 - X) \cdot 2,4}{6}$$

$$y_2 = \frac{12 - 2,4X}{6} \quad y_2 = 2 - 0,4X$$

Selanjutnya mencari jarak "x" berdasarkan persamaan (19)

$$y_1 = y_2$$

$$0,6 \cdot X = 2 - 0,4 \cdot X$$

$$0,6X + 0,4X = 2$$

$$X = 2$$

Sehingga nilai masing-masing  $y_1$  dan  $y_2$  sebagai berikut:

$$y_1 = 0,6X = 0,6 \cdot 2 = 1,2m$$

$$y_2 = 2 - 0,4X = 2 - 0,4 \cdot 2 = 2 - 0,8 = 1,2m$$

Setelah nilai X diperoleh, selanjutnya dihitung momen maksimum pada titik C sebagai berikut:

$$M_{cmaks} = q \cdot (F_1 + F_2)$$

$$F_1 = \frac{(y_1 + y) \cdot (U - X)}{2}$$

$$F_1 = \frac{(1,2 + 2,4) \cdot (4 - 2)}{2} = \frac{3,6 \cdot 2}{2} = 3,6m^2$$

$$F_2 = \frac{(y_2 + y) \cdot [V - (L - L_1 - L)]}{2}$$

$$F_1 = \frac{(1,2 + 2,4) \cdot (6 - (10 - 5 - 2))}{2} = \frac{3,6 \cdot 3}{2} = 5,4m^2$$

Maka besar momen maksimum pada titik C diperoleh selanjutnya dihitung gaya lintang maksimum dan minimum pada titik C sebagai berikut:

Mencari ordinat:

$$y_3 = \frac{V}{L} = \frac{6}{10} = 0,6m$$

$$y_4 = \frac{V - L_1}{L} = \frac{6 - 5}{10} = \frac{1}{10} = 0,1m$$

$$y_5 = \frac{U}{L} = \frac{4}{10} = 0,4m$$

Selanjutnya dihitung gaya lintang maksimum dan minimum sebagai berikut:

$$F_3 = \frac{(y_3 + y_4) \cdot [V - (L - L_1 - X)]}{2}$$

$$F_3 = \frac{(0,6 + 0,1) \cdot [6 - (10 - 5 - 2)]}{2} = \frac{0,7 \cdot 3}{2} = 1,05 \text{ kN}$$

$$F_4 = \frac{y_5 \cdot U}{2} = \frac{0,4 \cdot 4}{2} = 0,8 \text{ kN}$$

Gaya lintang maksimum:

$$D_{\text{cmaks}} = q \cdot F_3$$

$$D_{\text{cmaks}} = 1,5 \cdot 1,05 = 1,575 \text{ kN}$$

Gaya Lintang minimum:

$$D_{\text{cmin}} = q \cdot F_4$$

$$D_{\text{cmin}} = 1,5 \cdot 0,8 = 1,2 \text{ kN}$$

## PUSTAKA

Darma, Edifrizal, 2011. Prinsip dasar Statika I. Pusat Pengembangan Bahan Ajar, Universitas Mercu Buana.

Suparman, 1985. Mekanika Teknik I. Jurusan Pendidikan Teknik Bangunan, Fakultas Teknik, Universitas Negeri Yogyakarta.

Sardjono, 1985. Himpunan soal-soal dan penyelesaian, Mekanika Teknik Statis Tertentu: Surabaya.

Wesli. 2010. Mekanika Rekayasa. Graha Ilmu: Yogyakarta.



### A. Umum

Dalam perencanaan struktur, sebelum analisisnya selalu meninjau beban-beban yang bekerja pada struktur. Di Indonesia informasi mengenai pembebanan untuk setiap jenis struktur dituangkan dalam peraturan-peraturan, antara lain :

1. Peraturan Muatan Jembatan Jalan Raya No. 12/1970
2. Peraturan Pembebanan Indonesia Untuk Gedung 1988
3. Peraturan Skema Beban Gandar Jembatan Jalan Rel Indonesia 1988 (Usulan)

Berdasarkan sifatnya beban struktur dapat dikategorikan sebagai berikut :

1. Beban Mati ialah semua beban yang diakibatkan oleh berat sendiri struktur atau unsur-unsur lain yang terikat secara permanen pada struktur. Besar dan kedudukannya dianggap tetap.
2. Beban Hidup ialah semua beban yang bekerja pada struktur selain beban mati. Berdasarkan sifatnya, beban hidup dapat dibedakan menjadi :
  - a. Beban yang dapat dipindahkan (*moveable loads*), yaitu beban yang dapat dipindahkan tanpa menimbulkan getaran dinamik.  
Contoh: beban orang, beban meubel, alat-alat kantor dan lain lain.
  - b. Beban bergerak/dinamik (*moving loads*), yaitu beban yang bergerak terus menerus pada struktur.  
Contoh: beban angin, beban gempa, beban kendaraan, beban kereta api dan lain lain.

### B. Beban Bergerak

Beban bergerak harus diperhatikan dalam perencanaan struktur (terutama pada jembatan) sehingga dalam analisis dapat ditentukan pengaruh kedudukannya terhadap tegangan maksimum yang mungkin terjadi. Beban yang melintas pada struktur dapat berupa :

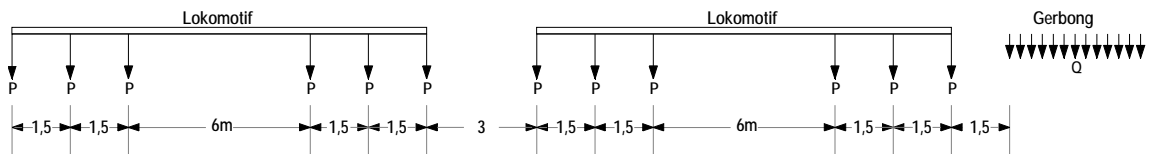
Oleh:

Faqih Ma'arif, M.Eng.

1. Beban orang, baik yang berupa berat sendiri (sebagai beban titik) maupun sekelompok orang (sebagai beban terbagi merata).
2. Beban kendaraan, merupakan rangkaian dari berbagai beban titik yang besar dan jaraknya tertentu.

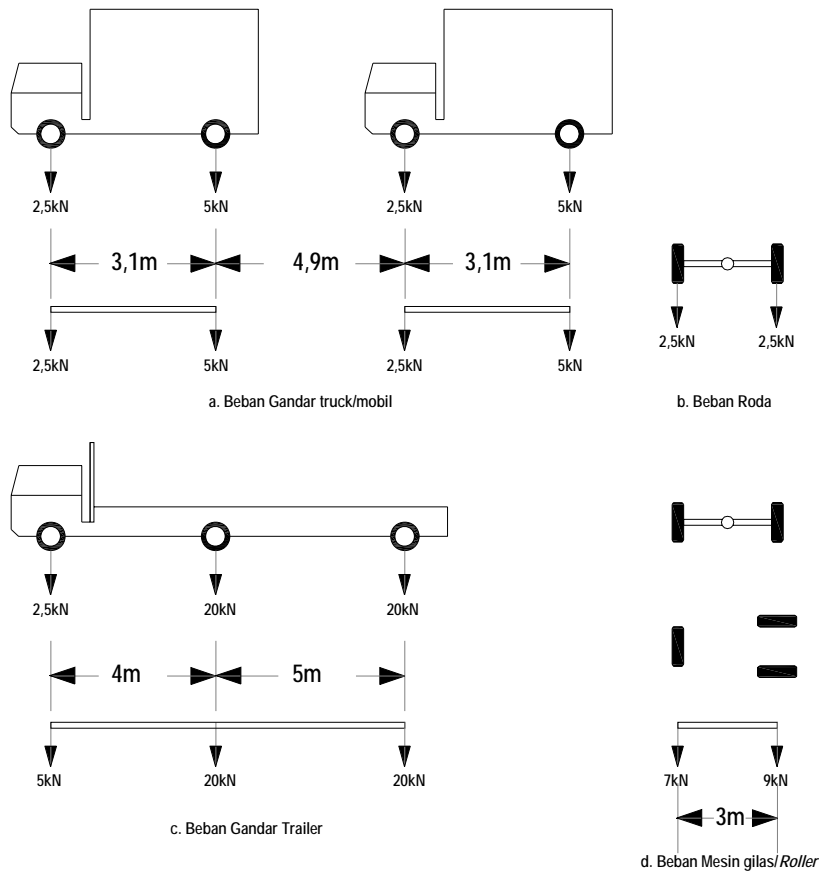
Beberapa jenis beban kendaraan antara lain :

- a. Jalan Rel (Sesuai Skema Beban Gandar 1988 dapat dilihat pada Gambar 82 sampai dengan 83)



Gambar 82. Skema pembebanan jalan Rel

c. Jalan Raya



Gambar 83. Konfigurasi beban gandar mobil

C. Rangkaian Beban Berjalan

Untuk rangkaian beban berjalan (contoh: Truk gandeng, Kereta api) dapat ditinjau harga-harga untuk :

Oleh:

Faqih Ma'arif, M.Eng.

1. Reaksi Tumpuan Maksimum
2. *Shearing Force* Maksimum (baik + maupun -)
3. *Bending Momen* Maksimum
4. Nilai ekstrim

#### D. Garis Pengaruh Beban Berjalan

##### 1. Beban Titik Berjalan

Dari berbagai posisi beban dapat dihitung harga  $R_{AV}$

- a. Posisi 1

$$R_A = P_{11} \cdot Y_{11} + P_{21} \cdot Y_{21} + P_{31} \cdot Y_{31}$$

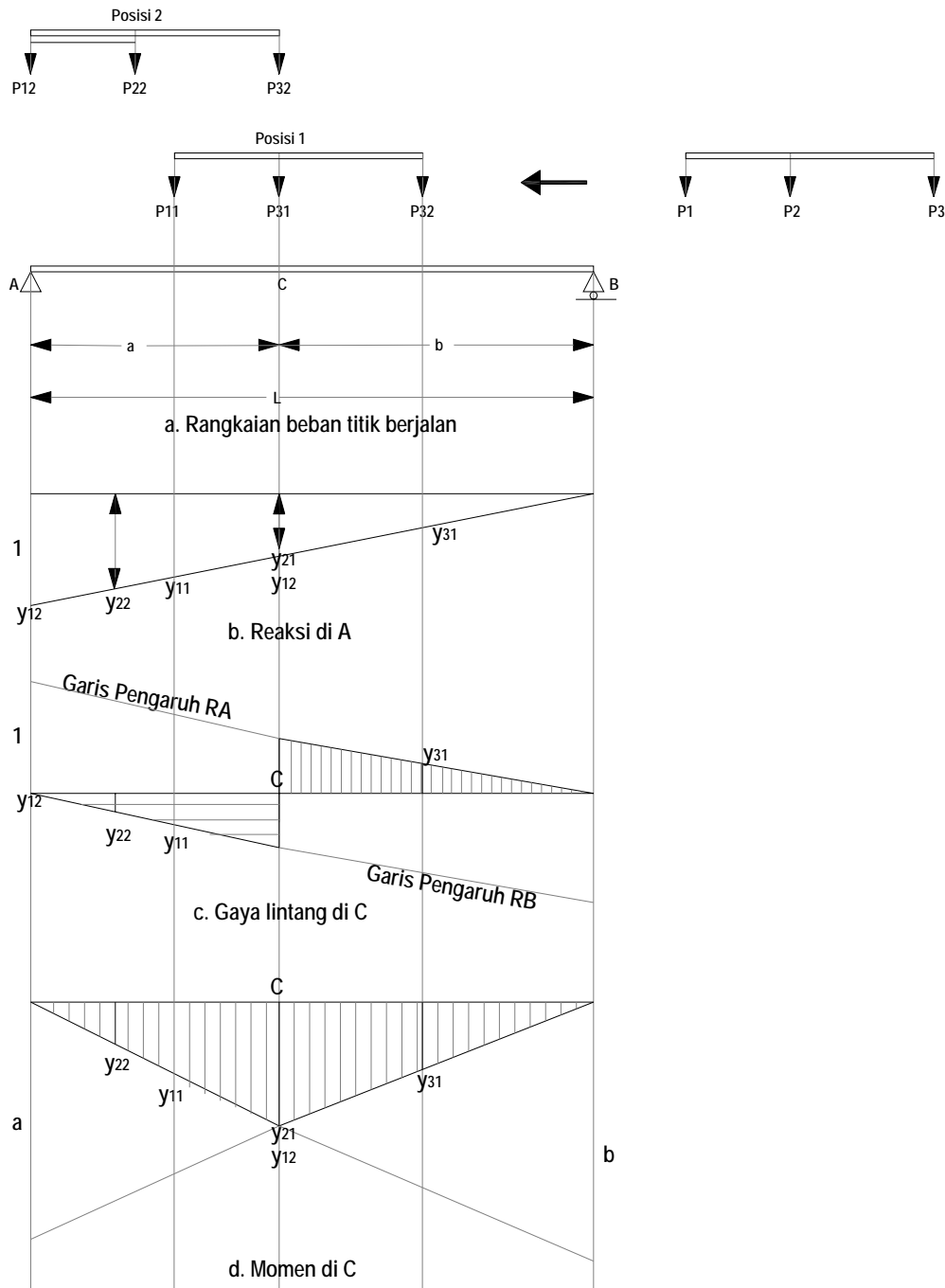
- b. Posisi 2

$$R_A = P_{12} \cdot Y_{12} + P_{22} \cdot Y_{22} + P_{32} \cdot Y_{32}$$

atau secara umum dapat ditulis :

$$R_A = \sum_{i=1}^n P_i \cdot Y_i$$

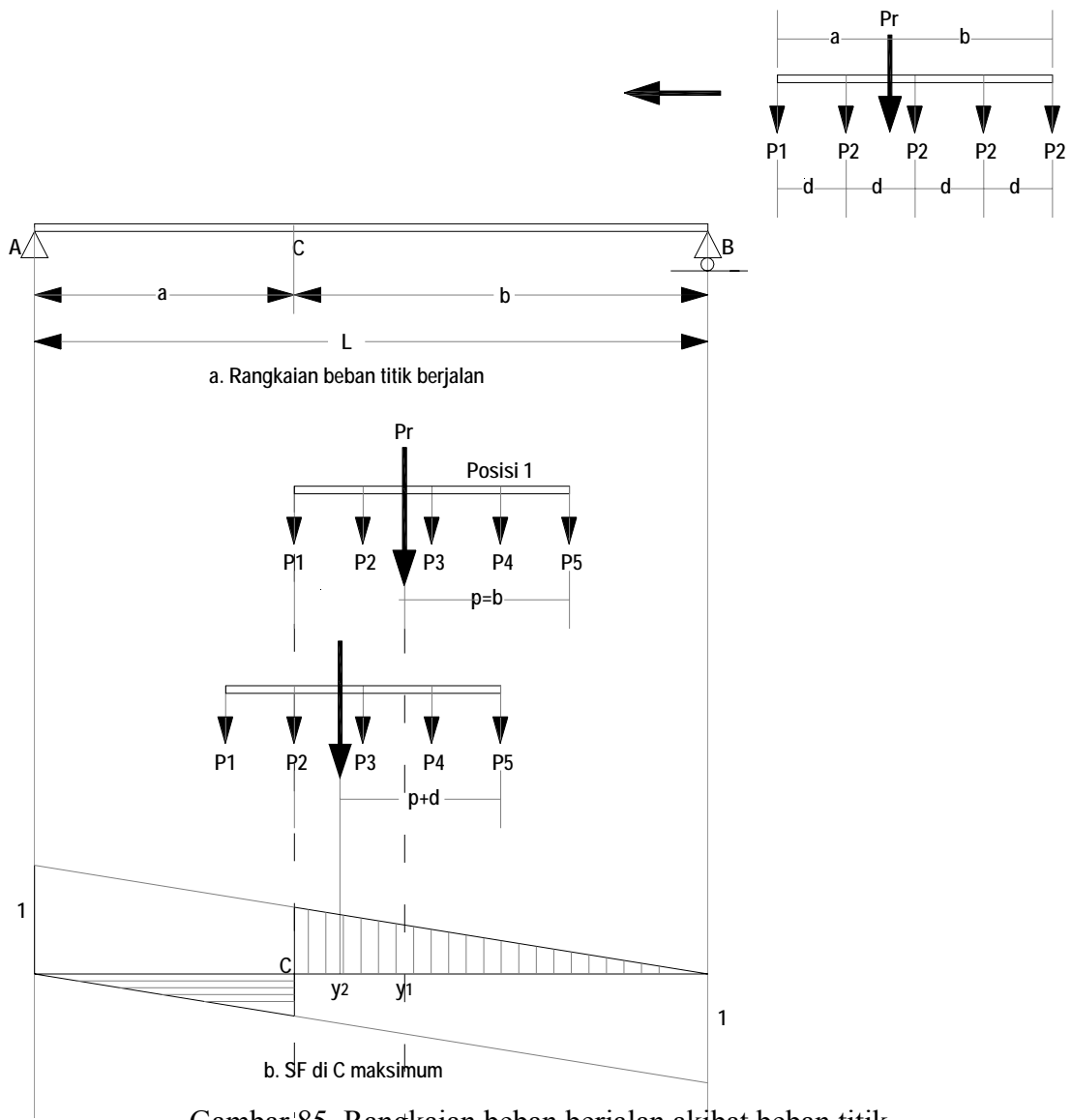
Dengan  $n$  = jumlah gandar yang masuk struktur



Gambar 84. Beban berjalan akibat beban titik

Untuk mendapatkan nilai  $R_A$  maksimum dengan cara trial, kemudian  $R_A$  maksimum yang terbesar dinamakan ekstrim.

1.  $S_{FC} = P_1 \cdot Y_{12} + P_2 \cdot Y_{22} + P_3 \cdot Y_{32}$
2.  $B_{MC} = P_1 \cdot Y_{12} + P_2 \cdot Y_{22} + P_3 \cdot Y_{32}$



Gambar '85. Rangkaian beban berjalan akibat beban titik

Untuk menentukan kedudukan resultante beban yang bekerja pada rangkaian beban berjalan dengan cara:

$$\sum MP_1 = 0$$

$$(P_2 \cdot d) + (P_3 \cdot 2d) + (P_4 \cdot 3d) + (P_5 \cdot 4d) = (Pr \cdot a)$$

$$a = \frac{(P_2 \cdot d) + (P_3 \cdot 2d) + (P_4 \cdot 3d) + (P_5 \cdot 4d)}{Pr}$$

1. Posisi 1

$$\frac{y_1}{1} = \frac{P}{L}$$

$$y_1 = \frac{P}{L}$$

$$SFc \text{ Posisi 1} = P_r \cdot y_1 = \frac{P_r \cdot P}{L}$$

2. Posisi 2

$$\frac{y_2}{1} = \frac{(P+d)}{L}$$

$$y_2 = \frac{(P+d)}{L}$$

$$SFc \text{ posisi 2} = P_r \cdot y_2 - P_1 = \frac{P_r (P+d)}{L} - P_1$$

Terdapat perubahan nilai SFc

$$\Delta SFc = SFc2 - SFc1$$

$$= \frac{Pr \cdot P}{L} + \frac{Pr \cdot d}{L} - P_1 - \frac{Pr \cdot P}{L} = \frac{Pr \cdot d}{L} - P_1$$

Bila:

$$\frac{Pr \cdot d}{L} > P_1 \text{ atau } \frac{Pr}{L} > \frac{P_1}{d}; \text{ maka } SF_{C2} > SF_{C1}$$

$$\frac{Pr \cdot d}{L} < P_1 \text{ atau } \frac{Pr}{L} < \frac{P_1}{d}; \text{ maka } SF_{C2} < SF_{C1}$$

Syarat:

Jika tidak ada beban tambahan yang masuk struktur balok atau beban yang keluar struktur jembatan.

Bila ada beban baru yang masuk atau keluar bentang struktur balok, rumus umum untuk mencari  $\Delta SF$  ditunjukkan pada persamaan (2)

$$\Delta SF = \frac{\sum Pd_1}{L} + \frac{P' \cdot e}{L} + \frac{P'' \cdot f}{L} - P_1$$

Keterangan:

L : Bentang struktur

$\sum P$  : Jumlah beban yang bekerja pada bentang

$d_1$  : jarak beban terakhir yang melewati titik yang ditinjau diukur dari titik tersebut

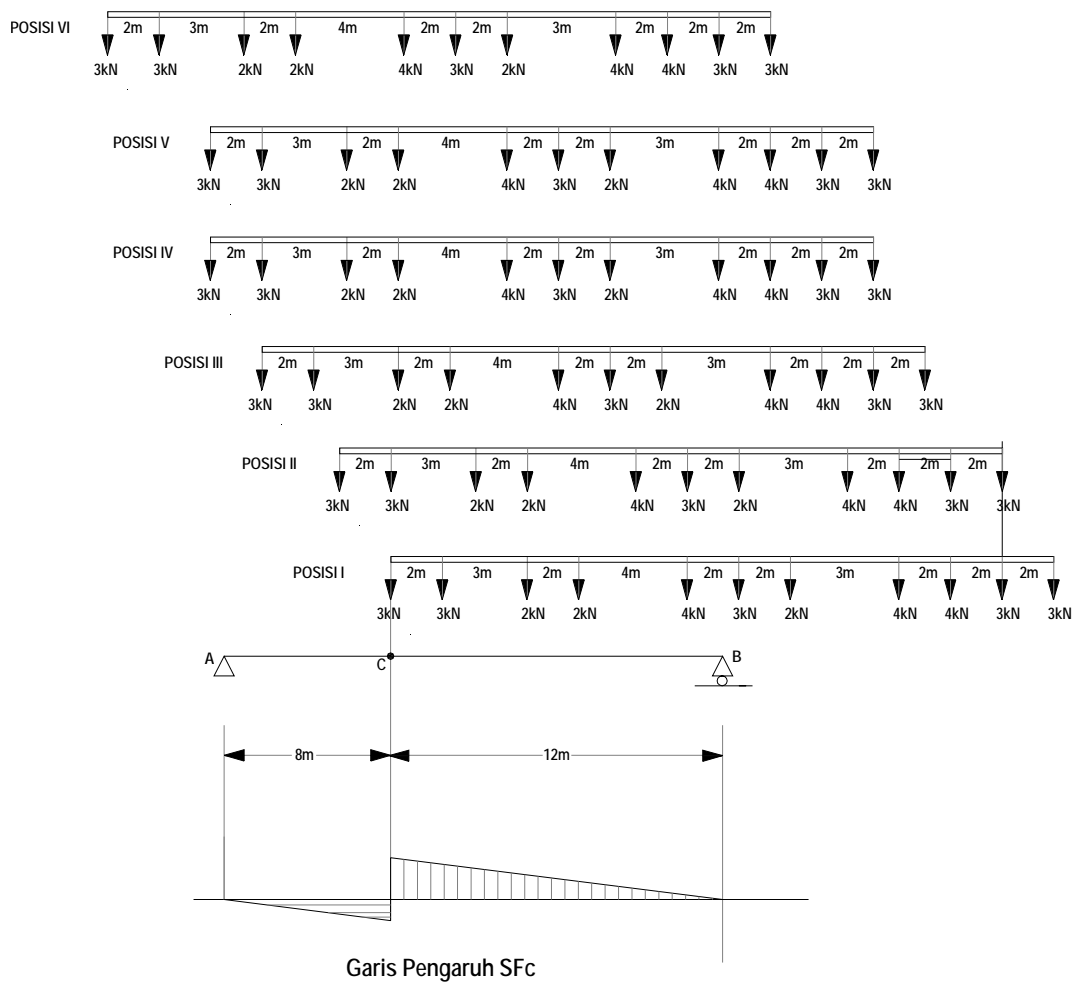
$P'$  : beban tambahan yang masuk bentang

$P''$  : beban yang keluar dari bentang

$P_1$  : beban yang meninggalkan titik yang ditinjau

e : jarak beban tambahan dari dukungan yang dilewati

f : jarak beban yang keluar dari dukungan yang ditinggalkan



Gambar 86. Berbagai konfigurasi beban berjalan pada gelagar balok

Dari Posisi I - II 
$$\Delta SF_c = \frac{(14) \cdot (2)}{20} + \frac{(3) \cdot (1)}{20} - 3 = -1,45$$

Dari Posisi II - III 
$$\Delta SF_c = \frac{(17) \cdot (3)}{20} + \frac{(2) \cdot (2)}{20} - 3 = -0,25$$

Dari Posisi III - IV 
$$\Delta SF_c = \frac{(19) \cdot (2)}{20} + \frac{(4) \cdot (1)}{20} - 2 = +0,10$$

Dari Posisi IV - V 
$$\Delta SF_c = \frac{(23) \cdot (4)}{20} + \frac{(4) \cdot (1)}{20} + \frac{(3) \cdot (1)}{20} + \frac{(3) \cdot (1)}{20} + \frac{(3) \cdot (3)}{20} - 2 = +3,95$$

Dari Posisi V - VI 
$$\Delta SF_c = \frac{(24) \cdot (2)}{20} + \frac{(3) \cdot (1)}{20} - 4 = -1,45$$

## PUSTAKA

- Darma, Edifrizal, 2011. Prinsip dasar Statika I. Pusat Pengembangan Bahan Ajar, Universitas Mercu Buana.
- Suparman, 1985. Mekanika Teknik I. Jurusan Pendidikan Teknik Bangunan, Fakultas Teknik, Universitas Negeri Yogyakarta.
- Sardjono, 1985. Himpunan soal-soal dan penyelesaian, Mekanika Teknik Statis Tertentu: Surabaya.
- Siswadi, Wiryawan, Wigroho, Ervianto. 1999. Analisis struktur statis tertentu. Universitas Atma Jaya: Yogyakarta.
- Wesli. 2010. Mekanika Rekayasa. Graha Ilmu: Yogyakarta.



# 14

## Beban Terbagi Rata Berjalan

### A. Beban Terbagi Rata Berjalan

Beban terbagi rata pada dasarnya merupakan kumpulan beban titik dengan jarak yang sangat dekat.

Posisi I

$$R_A = (q). (\text{luas bidang pengaruh})$$

$$= q. X. A$$

$$\frac{X_1}{L} = \frac{a}{L}$$

$$X_1 = \frac{a}{L}$$

$$R_A = q. (0,5. a. X_1)$$

$$R_A = q. (0,5. a. q/L)$$

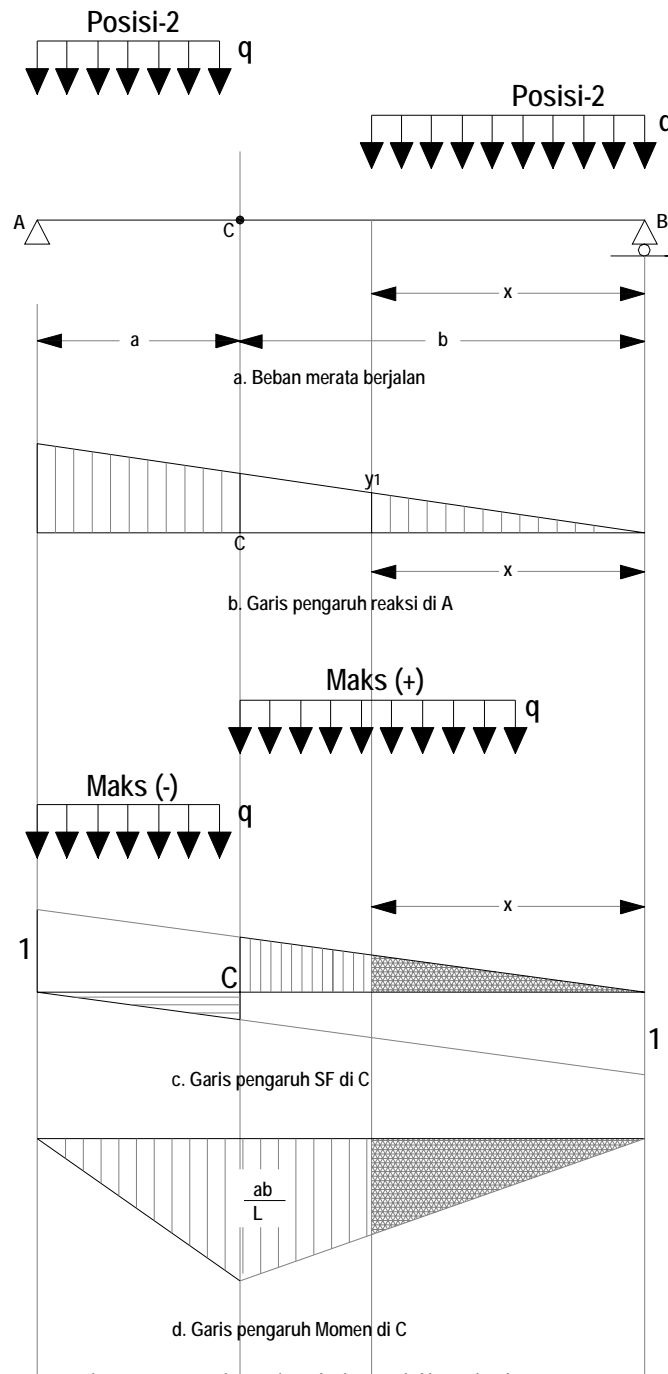
**Posisi I**

$$SF_c = (q). (0,5. a. a/L)$$

$$BM_c = (q). (\text{luas bidang pengaruh})$$

**Catatan:**

SF<sub>c</sub> akan mempunyai nilai maksimum bila beban terbagi rata

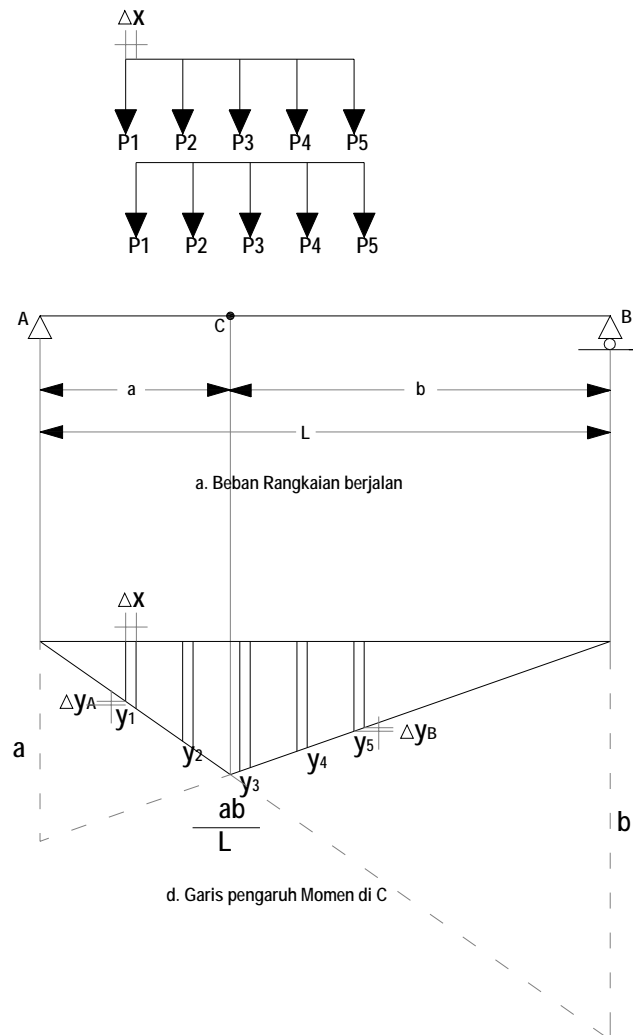


Gambar 87. Beban berjalan akibat beban merata

### B. Garis Pengaruh Momen Maksimum

Rangkaian beban titik melintas pada struktur A-B dengan posisi  $P_1, P_2$ , berada di sebelah kiri titik C, sedangkan  $P_3, P_4$  dan  $P_5$  di sebelah kanan titik C. Secara umum rumus momen pada titik yang ditinjau ditunjukkan dengan persamaan (3).

$$BM = \sum_{i=1}^n P_i \cdot y_i$$



Gambar 88. Garis pengaruh momen akibat beban berjalan

Sehingga momen pada titik C yang terdapat dalam Gambar 74, dapat dihitung dengan persamaan (3) yaitu :

$$BM_c = \sum_{i=1}^{n5} P_i \cdot y_i$$

Bila rangkaian beban bergeser  $\Delta x$  ke arah kanan, maka:

1. Ordinat di kiri C bertambah  $\Delta y_A$
2. Ordinat di kanan C bertambah  $\Delta y_B$

Bila beban di sebelah kiri C ( $P_1$  dan  $P_2$ );  
 penambahan ordinat menjadi:

$$\frac{a}{a \cdot b / L} = \frac{\Delta x}{\Delta y_A} \text{ atau } \Delta y_A = \frac{b}{L} \cdot \Delta x$$

### Penambahan BMc

$$\Delta BM_C = P_1 \cdot \Delta y_A + P_2 \cdot \Delta y_A = (P_1 + P_2) \frac{b}{L} \cdot \Delta x$$

Beban di sebelah kanan C ( $P_3$ ,  $P_4$  dan  $P_5$ )

Pengurangan ordinat menjadi:

$$\frac{b}{a \cdot b / L} = \frac{\Delta x}{\Delta y_B} \quad \text{atau} \quad \Delta y_B = \frac{a}{L} \cdot \Delta x$$

### Pengurangan BMc

$$\Delta BM_C = P_3 \cdot \Delta y_B + P_4 \cdot \Delta y_B + P_5 \cdot \Delta y_B = (P_3 + P_4 + P_5) \frac{a}{L} \cdot \Delta x$$

Bila resultante ( $P_1 + P_2$ ) =  $P_A$

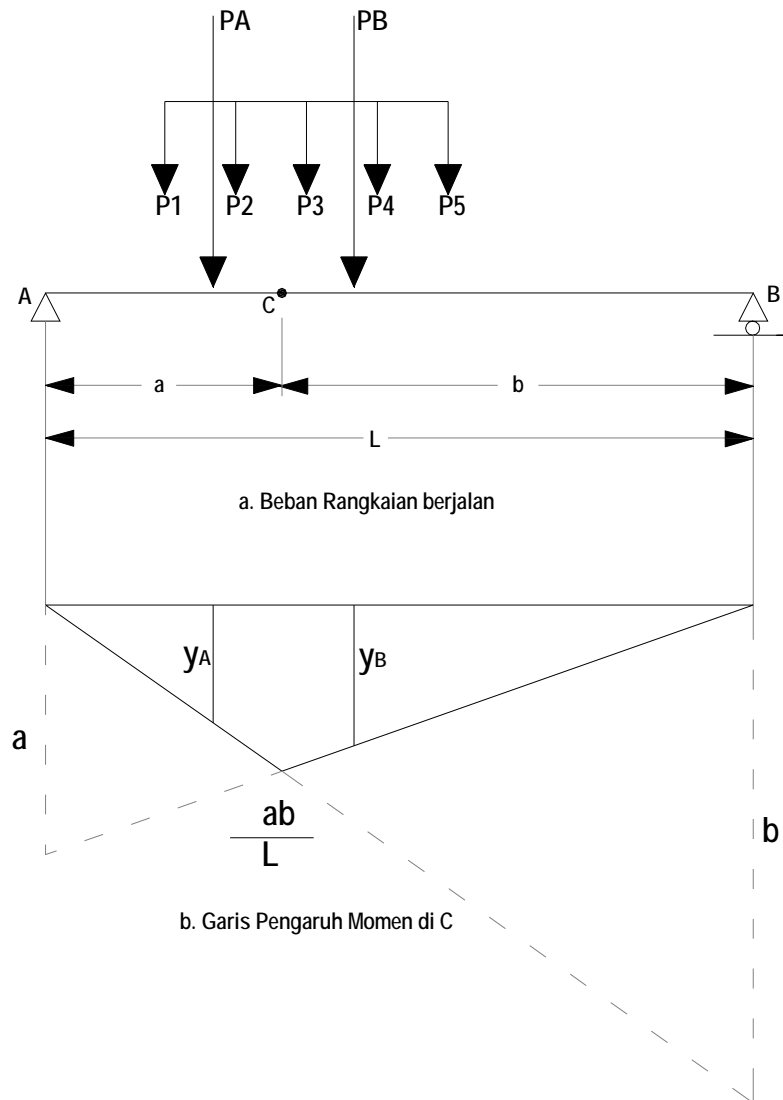
Resultante ( $P_3 + P_4 + P_5$ ) =  $P_B$

$$\begin{aligned} \Delta BM_C &= P_A \cdot \frac{b}{L} \cdot \Delta x - P_B \cdot \frac{a}{L} \cdot \Delta x \\ &= \frac{a \cdot b}{L} \cdot \Delta x \cdot \left( \frac{P_A}{a} - \frac{P_B}{b} \right) \\ &= \frac{a \cdot b}{L} \cdot \Delta x \cdot (q_A - q_B), \text{ nilai } \Delta BM_C \text{ dipengaruhi oleh } q_A \text{ dan } q_B \end{aligned}$$

$\Delta BM_C$  bernilai positif (+) bila  $q_A > q_B$

### Ditinjau titik C

Dengan penggeseran beban ke kanan sepanjang  $\Delta x$ , maka  $\Delta BM_C$  akan bertambah. Bila pergeseran dilanjutkan, maka pada suatu saat tidak terjadi penambahan, bahkan mulai terjadi pengurangan, yaitu bila  $q_A < q_B$ . Penambahan beban akan mencapai maksimum bila  $P_2$  di atas C, sehingga  $BM_C$  maksimum bila beban titik (terpusat) di atas titik C.



Gambar 89. rangkaian beban berjalan akibat beban merata

Dengan memperhatikan Gambar 89, maka resultante beban dapat ditunjukkan sebagai berikut.

1.  $P_A = \text{resultante } (P_1 + P_2)$
2.  $P_B = \text{resultante } (P_3 + P_4 + P_5)$

**Menghitung  $BM_C$  maksimum:**

$$\Delta BM_C = \frac{a \cdot b}{L} \cdot \Delta x \left( \frac{P_A}{a} - \frac{P_B}{b} \right) \text{ atau,}$$

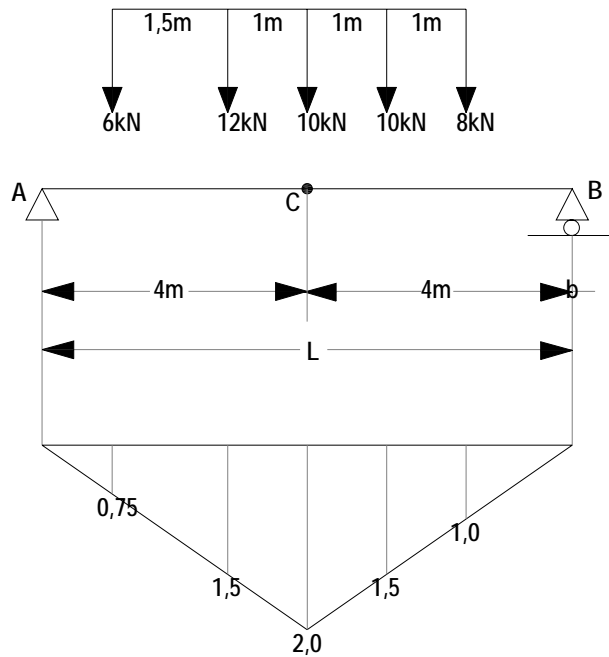
$$\Delta BM_C = \frac{a \cdot b}{L} \cdot \left( \frac{P_A}{a} - \frac{P_B}{b} \right)$$

$BM_C$  akan maksimum jika :  $\frac{P_A}{a} = \frac{P_B}{b}$

Apabila :  $\frac{P_A}{a} > \frac{P_B}{b}$ ; maka beban digerakkan kekanan  
 $\frac{P_A}{a} < \frac{P_B}{b}$ ; maka beban digerakkan kekiri

**C. Contoh soal dan penyelesaian**

Analisis struktur balok sederhana dengan rangkaian beban berjalan seperti ditunjukkan pada Gambar 90, dengan metode garis pengaruh.



b. Garis Pengaruh Momen di C

Gambar 90. Garis pengaruh akibat beban merata berjalan

Analisis 1 :  $P_2$  di kanan C :  $\frac{P_A}{a} = \frac{6}{4} = 1,5 < \frac{P_B}{b} = \frac{40}{4} = 10$

$P_2$  di kiri C :  $\frac{P_A}{a} = \frac{18}{4} = 4,5 < \frac{P_B}{b} = \frac{28}{4} = 7$

Analisis 2 :  $P_3$  di kanan C :  $\frac{P_A}{a} = \frac{18}{4} = 4,5 < \frac{P_B}{b} = \frac{28}{4} = 7$

$P_3$  di kiri C :  $\frac{P_A}{a} = \frac{28}{4} = 7 < \frac{P_B}{b} = \frac{18}{4} = 4,5$

Analisis 3 :  $P_4$  di kanan C :  $\frac{P_A}{a} = \frac{28}{4} = 7 < \frac{P_B}{b} = \frac{18}{4} = 4,5$

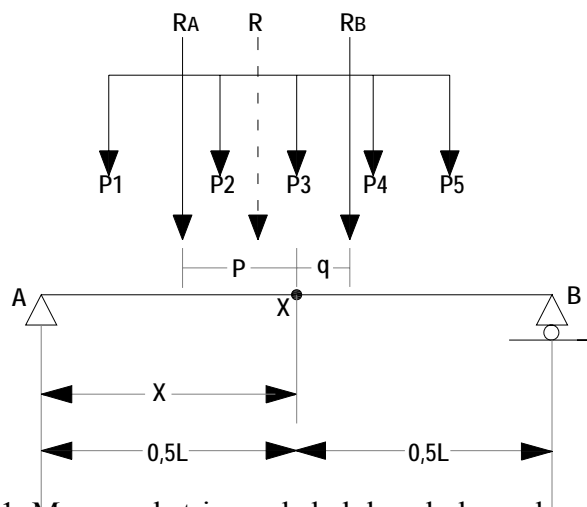
$P_4$  di kiri C :  $\frac{P_A}{a} = \frac{38}{4} = 9,5 < \frac{P_B}{b} = \frac{8}{4} = 2$

Dari kondisi analisis pada Analisis 1 sampai dengan analisis 3, dapat diambil kesimpulan bahwa BM<sub>c</sub> maksimum apabila P<sub>3</sub> terletak di titik C.

$$\begin{aligned} BM_{\text{maksimum}} &= (16) \cdot (0,75) + (12) \cdot (1,5) + (10) \cdot (2) + (10) \cdot (1,5) + (8) \cdot (1) \\ &= 4,5 + 18 + 20 + 15 + 8 \\ &= 65,50 \text{ kNm} \end{aligned}$$

#### D. Momen Ekstrim Pada Balok Sederhana

Balok sederhana dengan beban berjalan seperti pada Gambar 91. Dari Gambar 91 akan di analisis momen ekstrim.



Gambar 91. Momen ekstrim pada balok sederhana dengan beban berjalan

1.  $R_a$  = resultante beban di sebelah kiri  $P_i$  ( $i = 1, 2, \dots, n$ )
2.  $R_b$  = resultante beban di sebelah kanan  $P_i$  ( $i = 1, 2, \dots, n$ )
3.  $R$  = resultante semua beban ( $R_a + P_i + R_b$ )

Misalkan di bawah beban  $P_3$  yang berjarak  $x$  dari A terjadi  $SF = 0$  yang berarti

$M_{\text{maksimum}}$ . Nilai  $x$ ?

$$\sum MA = 0;$$

$$R_b = \frac{P_i \cdot x + R_a(x - p) + Rb(x + q)}{L}$$

$$BM_x = RB(L - x) - Rb(q)$$

$$= \left( \frac{P_i x}{L} + \frac{R_a x}{L} - \frac{R_a p}{L} + \frac{R_b x}{L} + \frac{R_b q}{L} \right) \cdot (L - x) - R_b q$$

$$= \frac{P_i}{L} \cdot (Lx - x^2) + \frac{R_a}{L} \cdot (Lx - x^2 - L \cdot p + p \cdot x) + \frac{R_b}{L} (Lx - x^2 - qx)$$

$$BM_x = f(x)$$

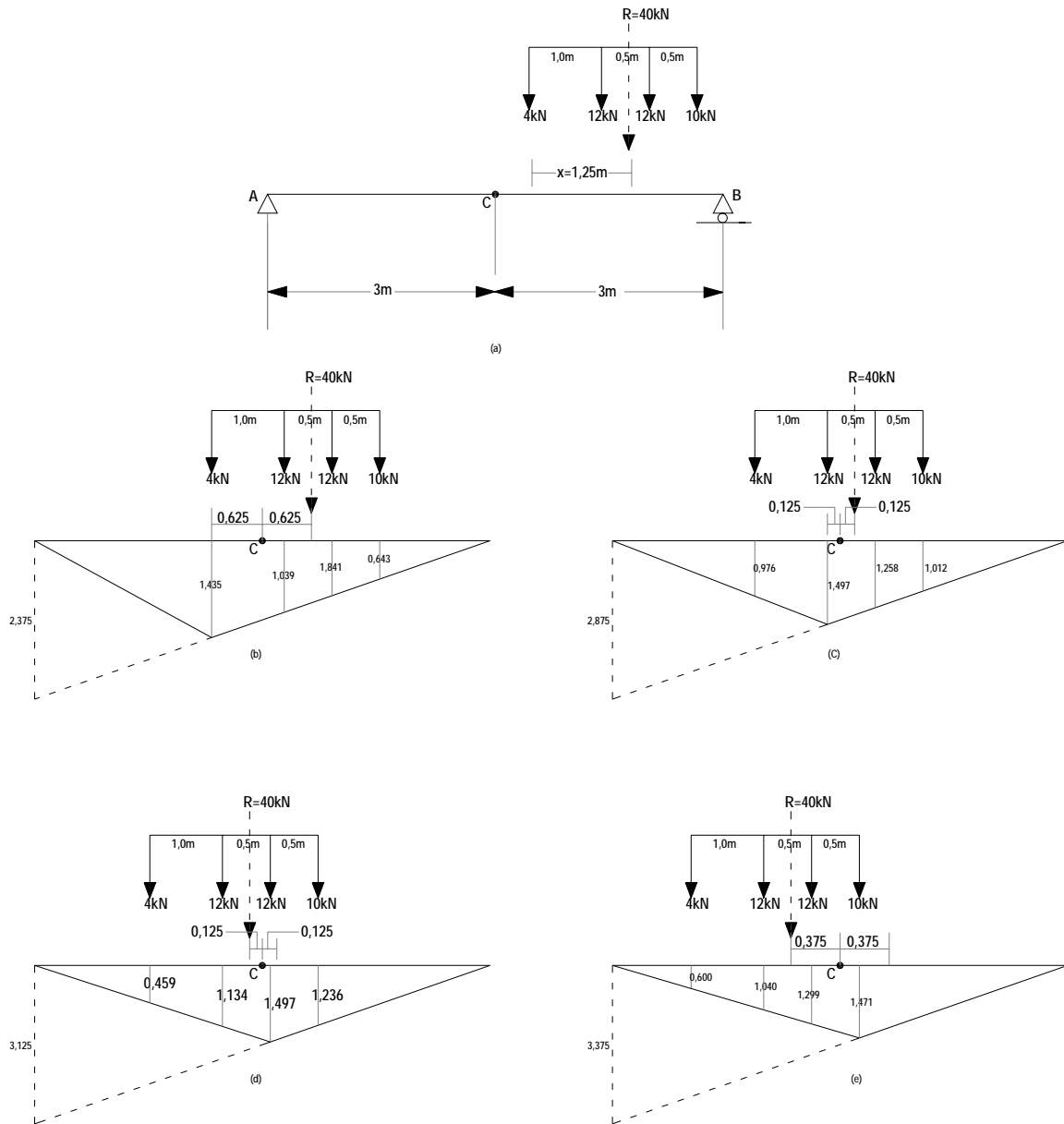
BM<sub>x</sub> maksimum akan terjadi apabila:

$$\begin{aligned}\frac{\partial BM_x}{\partial x} &= 0 \\ &= \frac{P_i}{L}(L-x) + \frac{Ra}{L}(L-2x+p) + \frac{Rb}{L}(L-2x-q) = 0 \\ &= L(P_i + Ra + Rb) + Ra.p - Rb.q = 2x(p + Ra + Rb) \\ 2x &= L + \frac{Ra.p - Rb.q}{R} \\ x &= \frac{L + r}{2}\end{aligned}$$

M<sub>ekstrim</sub> suatu balok sederhana akan terjadi pada suatu titik di bawah salah satu beban P, sehingga sumbu simetri balok terletak di tengah-tengah antara R dan P<sub>i</sub>.



Contoh soal dan penyelesaian



Gambar 92. Momen ekstrim dengan rangkaian beban berjalan akibat empat beban terpusat

Titik tangkap resultante terhadap tepi kiri.

$$(6)(0) + (12)(1) + (12)(1,5) + (10)(2) = 40x$$

$$0 + 12 + 18 + 20 = 40x$$

$$x = 12,5 \text{ m}$$

1. Analisis 1 ditunjukkan oleh gambar 6-34 (b) :

$$B_{Mekstrim} = (6)(1,435) + (12)(1,039) + (12)(0,841) + (10)(0,643) = 37,6 \text{ kNm}$$

2. Analisis 2 ditunjukkan oleh gambar 6-34 (c) :

$$B_{Mekstrim} = (6)(0,976) + (12)(1,497) + (12)(1,258) + (10)(1,018) = 49,096 \text{ kNm}$$

3. Analisis 3 ditunjukkan oleh gambar 6-34 (d) :

$$B_{Mekstrim} = (6)(0,659) + (12)(1,138) + (12)(1,497) + (10)(1,236) = 47,934 \text{ kNm}$$

4. Analisis 4 ditunjukkan oleh gambar 6-34 (e) :

$$B_{Mekstrim} = (6)(0,6) + (12)(1,04) + (12)(1,259) + (10)(1,477) = 45,958 \text{ kNm}$$

## PUSTAKA

Darma, Edifrizal, 2011. Prinsip dasar Statika I. Pusat Pengembangan Bahan Ajar, Universitas Mercu Buana.

Suparman, 1985. Mekanika Teknik I. Jurusan Pendidikan Teknik Bangunan, Fakultas Teknik, Universitas Negeri Yogyakarta.

Sardjono, 1985. Himpunan soal-soal dan penyelesaian, Mekanika Teknik Statis Tertentu: Surabaya.

Siswadi, Wiryawan, Wigroho, Ervianto. 1999. Analisis struktur statis tertentu. Universitas Atma Jaya: Yogyakarta.

Wesli. 2010. Mekanika Rekayasa. Graha Ilmu: Yogyakarta.